

24 Mayo

4 Colorea los números de acuerdo con su escritura.

- Dieciocho
- Veinticinco
- Cuarenta y cuatro
- Setenta y dos
- Catorce

- 25
- 14
- 81
- 44
- 18
- 26
- 52
- 41
- 72

5 Con los siguientes dígitos, forma todos los números posibles de dos cifras y escribe como se lee.

- 1
- 6
- 3

- a 61 se lee sesenta y uno ✓
- b 31 se lee treinta y uno ✓
- c 63 se lee sesenta y tres ✓
- d 13 se lee trece ✓


Cuando hablamos de dar **orden** a los números, debemos tener en cuenta su posición de acuerdo a si es mayor o menor, así:

Mayor



Menor

Observa el siguiente ejercicio:



13



15

En el primer cuadro hay 13 tomates, en el segundo 15.

Entonces podemos decir que el primer cuadro es **menor que** el segundo, así:


$$13 < 15 \text{ y se lee}$$

Trece es **menor que** quince



1 Completa el siguiente cuadro:

| Número | Mayor o menor que | Número |
|--------|-------------------|--------|
| 23     | <                 | 35     |
| 45     | >                 | 21     |
| 67     | >                 | 46     |
| 89     | >                 | 17     |
| 13     | <                 | 49     |
| 26     | <                 | 37     |
| 70     | <                 | 10     |



29 marzo

2 Completa con < o > según corresponda.



6

7




3



5

>



4



8

<



9

3 Completa el ejercicio escribiendo el número anterior y el siguiente del propuesto.

33 34 35

4 5 6

45 46 47

6 7 8

56 57 58

19 20 21

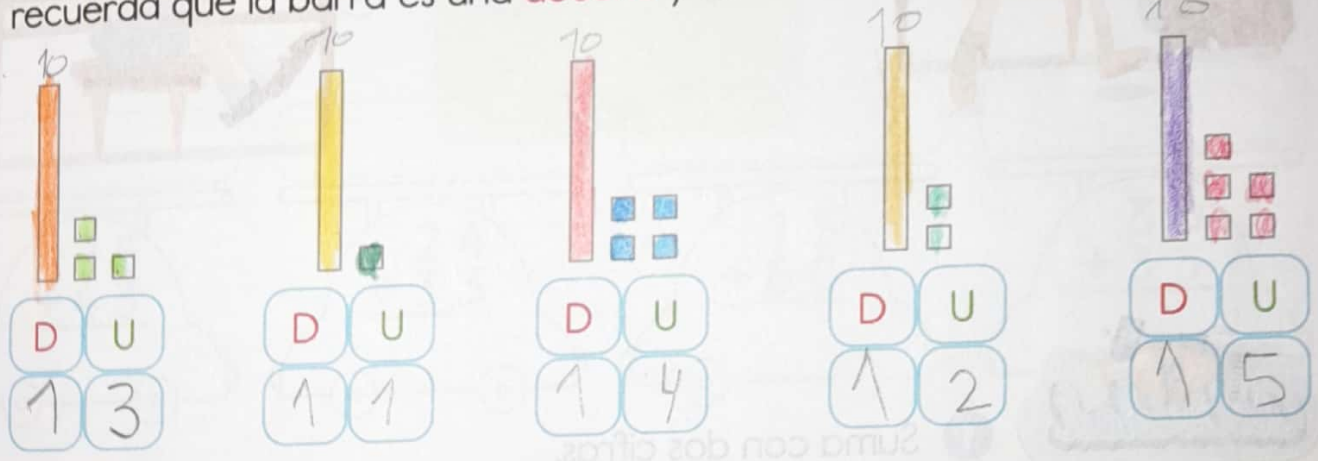


25 Marzo

4 Vamos a completar la siguiente tabla, observa el ejemplo y trabaja con tu compañero.

| Número | Descomposición | Forma escrita    |
|--------|----------------|------------------|
| 21     | 20 + 1         | veintiuno        |
| 45     | 40 + 5         | Cuarenta y cinco |
| 38     | 30 + 8         | treinta y ocho   |
| 92     | 90 + 2         | noventa y dos    |
| 37     | 30 + 7         | treinta y siete  |
| 28     | 20 + 8         | Veintiocho       |
| 83     | 80 + 3         | ochenta y tres   |
| 11     | 10 + 1         | Once             |

5 Recordemos las tablas de unidades y decenas mediante este ejercicio, recuerda que la barra es una decena y los cuadrillos una unidad.



6 Ordena y escribe en las casillas, los números de menor a mayor, con sus respectivas letras. Descubre el nombre de un animal en cada tabla.

|    |    |    |    |    |    |
|----|----|----|----|----|----|
| A  | F  | I  | J  | A  | R  |
| 59 | 48 | 30 | 29 | 43 | 36 |

|    |    |    |    |    |    |
|----|----|----|----|----|----|
| J  | I  | R  | A  | F  | A  |
| 29 | 30 | 36 | 43 | 48 | 59 |

|    |    |    |    |    |    |
|----|----|----|----|----|----|
| R  | A  | A  | U  | J  | G  |
| 96 | 83 | 44 | 59 | 21 | 47 |

|    |    |    |    |    |    |
|----|----|----|----|----|----|
| J  | A  | G  | U  | A  | R  |
| 21 | 44 | 47 | 59 | 83 | 96 |