


09th March 2021


Relación entre Conjuntos



pertenencia

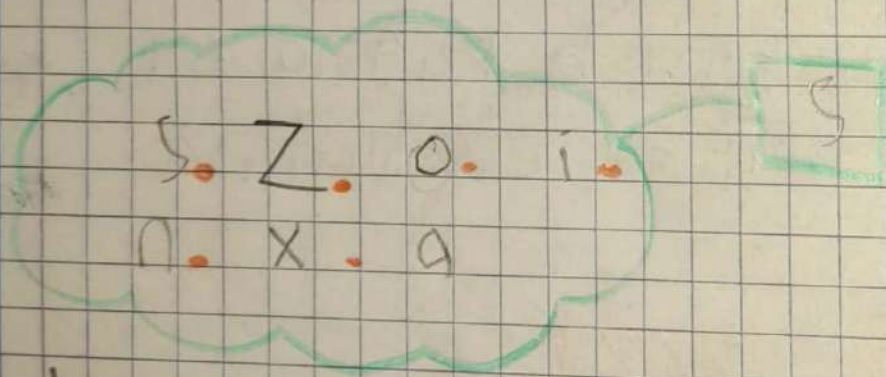


no pertenencia

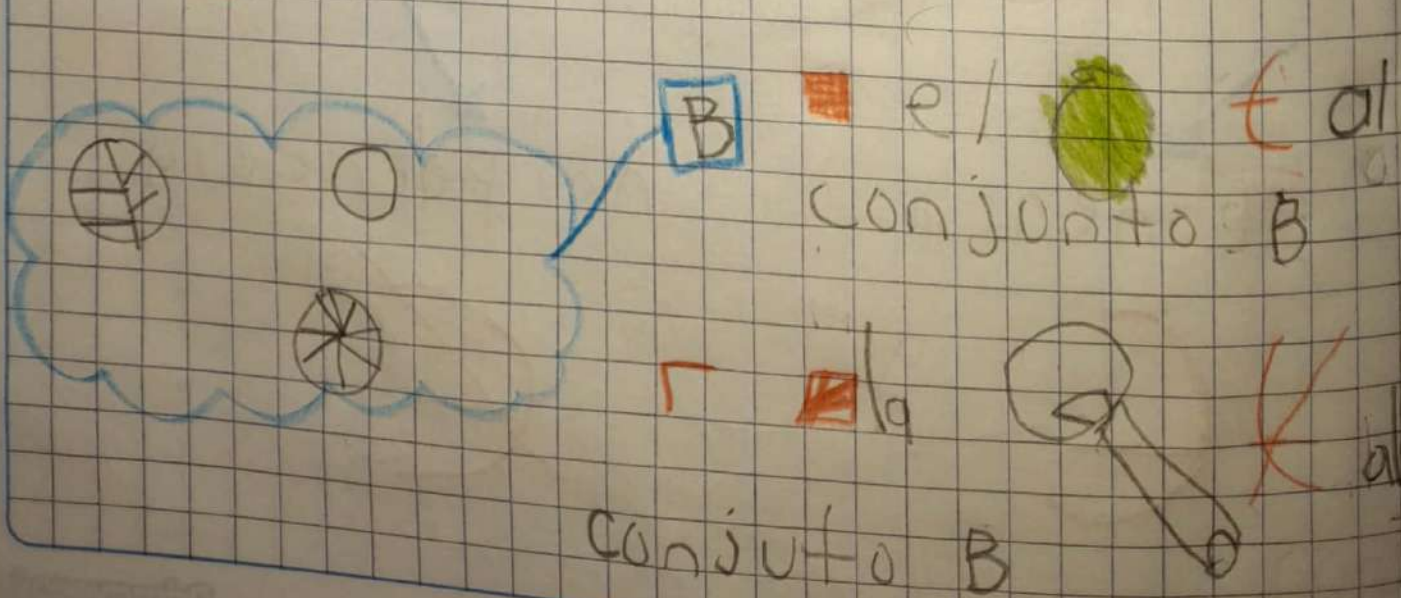


Un elemento pertenece a un conjunto, si tiene una característica del mismo conjunto; si el elemento no tiene esa característica entonces no pertenece al conjunto.

Ejemplo:



Los elementos $x, y, z \notin$ al conjunto S .



9 Marzo

PERTENENCIA Y NO PERTENENCIA

Pertenencia

El elemento posee la misma característica

Símbolo



Reunión de elementos que poseen características comunes.

Sus elementos se agrupan siempre dentro de una línea cerrada.



No pertenencia

No posee la misma característica

Símbolo




Conjuntos

Se nombran con letras mayúsculas
A, B, C, D, E, F, ...

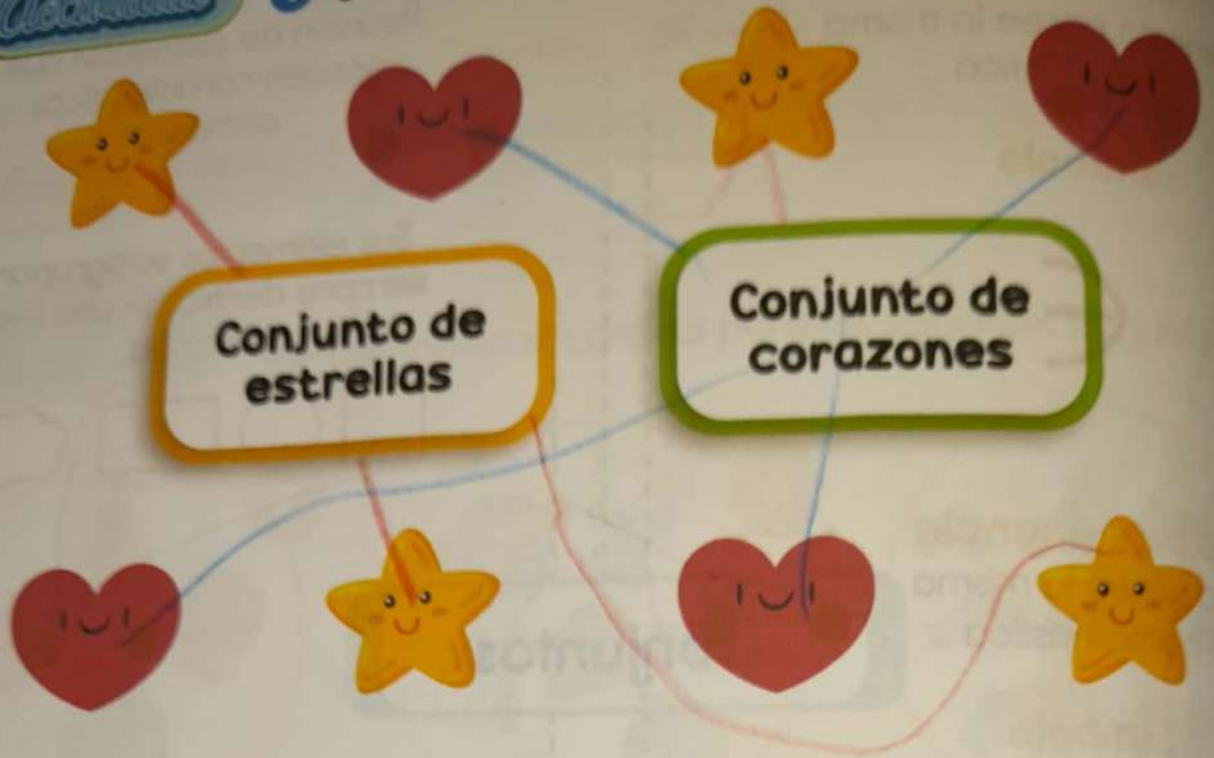
Para darle nombre a un conjunto observa el elemento común.

Cardinal

La cantidad de elementos que posee un conjunto



1 Une con una línea cada elemento con su característica.




2 Lee y dibuja los elementos pertenecientes a cada conjunto.

Conjunto de frutas




Conjunto de balones




Conjunto de útiles escolares



3 Encierra los triángulos del mismo color.



4 Observa y escribe la característica de cada conjunto.



lapices



Balanes



dulces


5 Colorea como se indica.

Juguetes

Flores

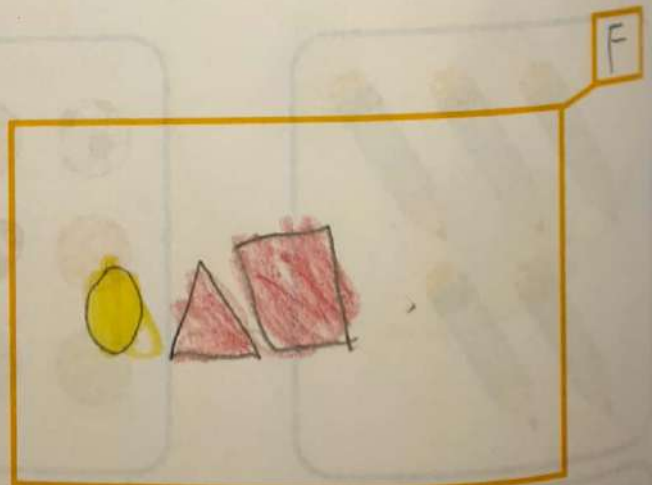


6 Forma dos conjuntos con los siguientes elementos. Luego escribe sus características.



F

Es un conjunto de
Frutas



F

Es un conjunto de
Figuras

10th March 2021

Números ordinales

Estos números ordinales son los que nos ayudan a expresar posiciones con respecto a un todo.

11th March

1^o 1^o = primero

2^o 2^o = segundo

3^o 3^o = tercero

4^o 4^o = cuarto

5^o 5^o = quinto

6^o 6^o = sexto

7^o 7^o = séptimo

8^o 8^o = octavo

9^o 9^o = noveno

10^o 10^o = décimo

NÚMEROS ORDINALES

Los números ordinales nos sirven para ordenar objetos, sucesos o a las personas.



1 Observa la imagen y responde.



Responda:

- a El elefante se encuentra en el 4º lugar.
- b El toro se encuentra en el 6º lugar.
- c El león se encuentra en el 10º lugar.
- d La jirafa se encuentra en el 1º lugar.
- e La oveja se encuentra en el 9º lugar.
- f El conejo se encuentra en el 8º lugar.
- g El caballo se encuentra en el 7º lugar.

2 Indique la ubicación del cuadrado verde que se encuentra en la imagen contando de izquierda a derecha.



Rojo



Naranja



Verde



Azul



Amarillo

El cuadrado verde se encuentra en el 3º lugar