

2 Relaciona el nombre de la región con su ubicación y el mapa que corresponda.

1 REGIÓN ANDINA

2 REGIÓN PACÍFICA

3 REGIÓN INSULAR

4 REGIÓN AMAZÓNICA

5 REGIÓN ORINOQUIA

6 REGIÓN CARIBE

Norte de Colombia

Oriente de Colombia

Centro de Colombia

Occidente de Colombia

Sur de Colombia

Océano Pacífico y Caribe



3 Las si
paisaje
nevado
cual co



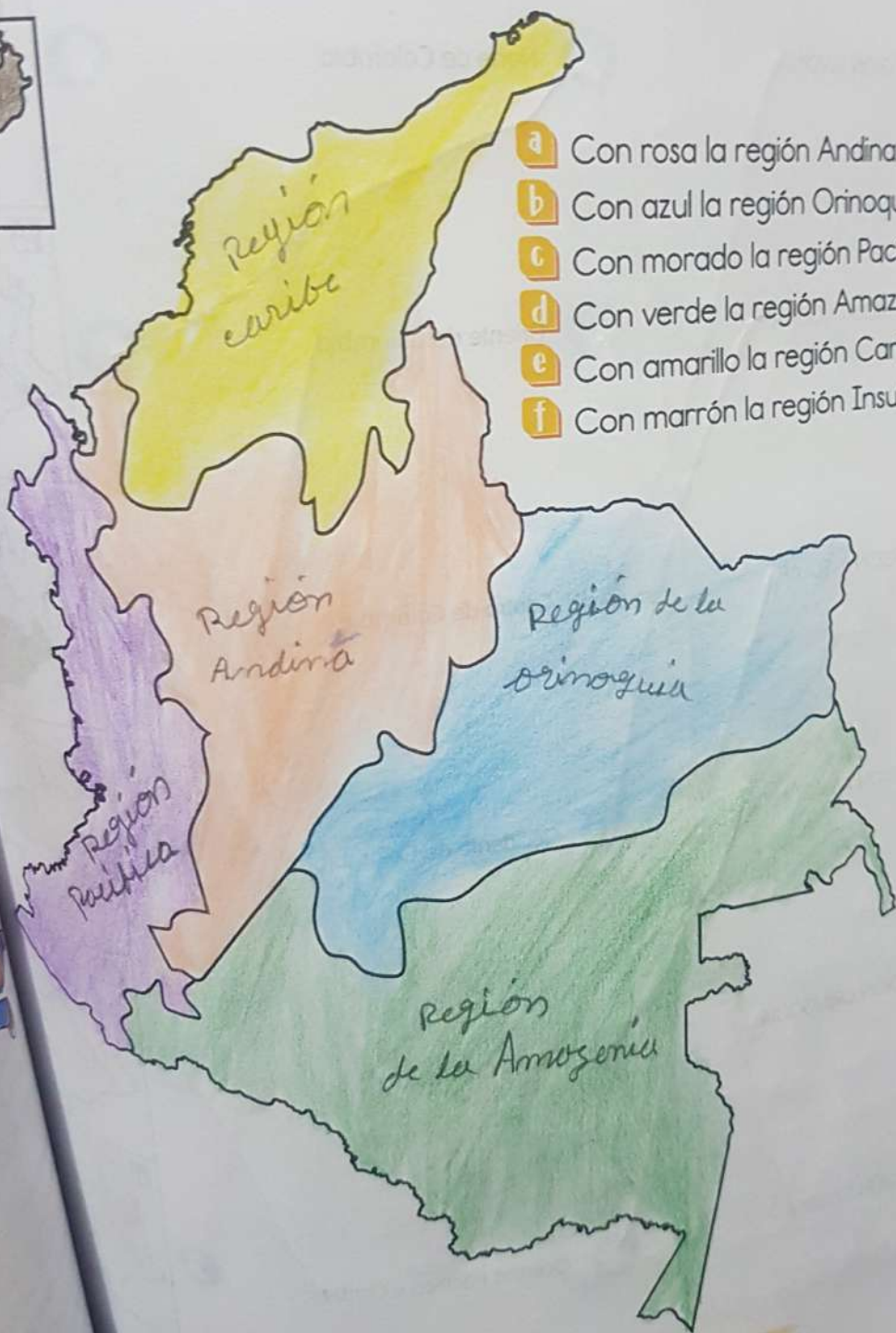
Paisaje




Paisaje de ne



1 En el mapa, identifica y escribe el nombre de las Regiones Naturales de Colombia. Colorea según las claves.



- a Con rosa la región Andina.
- b Con azul la región Orinoquía.
- c Con morado la región Pacífica.
- d Con verde la región Amazónica.
- e Con amarillo la región Caribe.
- f Con marrón la región Insular.



Región
Andina
Orinoquía
de la
Amazonia
Pacífica
Insular



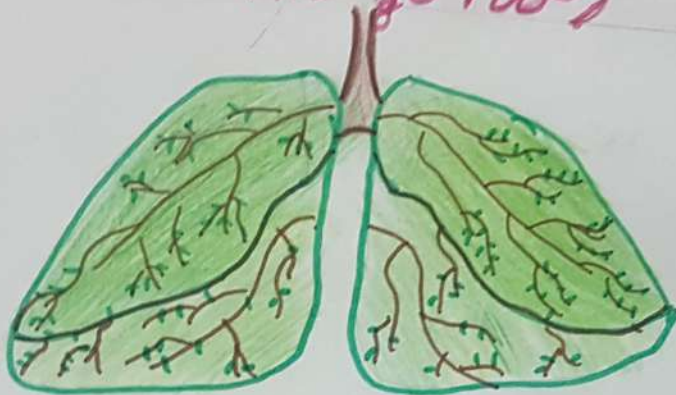
Platos Típicos

Pescado frito

o en sopa. platos variados como la gamitana Mellona, costillos de gamitana, bolitos de piramiceia y entre otros



Amazonas



La Amazonia es considerada el Pulmón del mundo. Porque absorbe millones toneladas del dióxido de Carbono presente en la atmósfera. Al reducir la cantidad mundial de este gas de efecto invernadero que calienta el Planeta. Contribuye a frenar el cambio climático.

bailes Región
Amazonica

Bambuco
Danza de los
novios

Danza de
Los Sonidos




que

3 Las siguientes imágenes muestran cinco paisajes de la Región Andina: paisaje de páramo, paisaje de valle interandino, paisaje nevado, paisaje urbano. Escribe frente a cada imagen el tipo de paisaje al cual corresponda.

Sociales



Paisaje urbano



Paisaje de montañas



Paisaje de nevado



Paisaje de páramos



Paisaje del valle interandino

imágenes tomadas de pixabay.com

Región Andina
mes de los
de los
de los

