


Representa las fracciones indicadas. Determina si son propias o impropias.

1 $\frac{16}{9}$

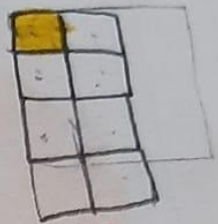


impropia

2 $\frac{3}{5}$



2 Propia 3




Propia

4 $\frac{11}{3}$



impropia

5



Propia


6



impropia

5 Observa las cantidades de cada producto que compramos. Escribe la fracción que representa cada producto y si es propia o impropia.

Cinco cuartos de kilo de banano



$\frac{5}{4}$ impropia

Dos cuartos de kg de naranja




$\frac{2}{4}$ Propia

Un octavo de litro de aceite de oliva



$\frac{1}{8}$ Propia

Cuatro tercios de kilo de pollo




$\frac{4}{3}$ impropia

Medio kilo de carne



$\frac{1}{2}$ Propia

Un cuarto de kilo de queso



$\frac{1}{4}$ Propia

6 En un evento, Daniel repartió $\frac{16}{5}$ de torta. Representa la situación con un dibujo.

