

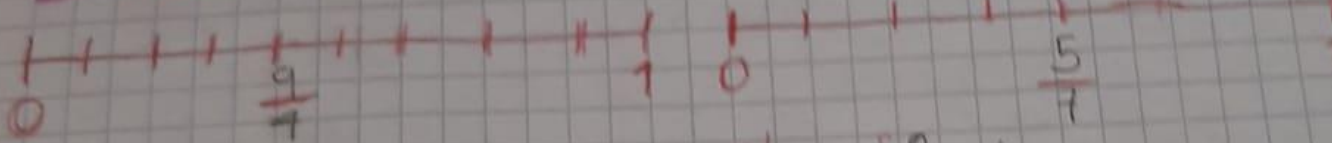
Marcela 28 de Julio del 2021

2021

Escribir como se lee, Representarla gráficamente, Repasar en la recta numérica y escribir la clase de fracción

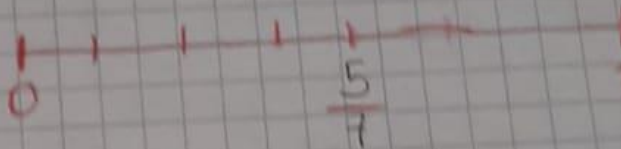
- * $\frac{1}{2}$
- * $\frac{1}{4}$
- * $\frac{1}{6}$

• $\frac{9}{4}$: Nueve cuartos




Clase: impropias

• $\frac{5}{7}$: Cinco séptimos



Clase: Propia

• $\frac{6}{6}$: Seis sextos



Clase: Unidad