





Examen primer periodo académico		
Asignatura: Biología.	Profesor: Sonia Bibiana Valero Gómez	Nota:
Grado: Primero	Estudiante: <u>Maria ISabella Delgado</u>	

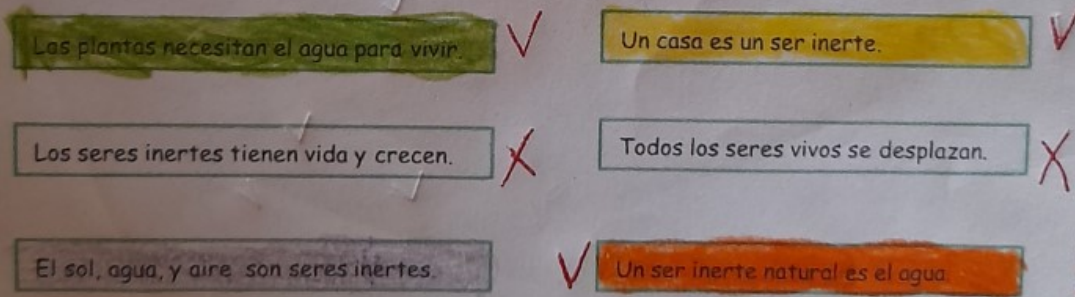
1. Dibujar tres seres inertes con su respectivo nombre.



2. Las plantas para poder realizar su ciclo vital necesitan de algunos factores, colorea cuales son los correctos:



3. Lee y colorea los enunciados correctos.



4. En la siguiente sopa de letras encuentras el nombre de cinco animales que sufren el proceso de la metamorfosis.

Z	N	A	B	C	A
A	Y	CH	L	E	S
B	M	LL	K	D	O
E	Q	O	J	F	P
J	R	T	S	G	I
A	X	W	I	C	R
Z	P	U	L	G	A
R	A	N	A	H	M

ANIMALES ENCONTRADOS

- RANA ✓
- Pulga ✓
- Mariposa ✓
- Mosca ✓
- Abeja ✓



5. Lee, observa y construye el texto del siguiente pictograma. "Ciclo del agua".
(Reemplazando los dibujos por palabras).

El calienta el formando pequeñas Que suben hasta formar .
 Cuando estas están pesadas, las Caen formando la

El agua de lluvia cae a la tierra y al formando nuevamente el ciclo del agua. ✓

El Sol calienta el Agua formando
pequeñas gotas que suben hasta
formar nubes cuando estas están
pesadas las gotas caen formando la
lluvia El agua de lluvia cae a la tierra y al
agua formando nuevamente el ciclo del agua.

6. Completa el crucigrama con las pistas que se encuentran a continuación. Escribe la palabra que corresponda.

- El agua es importante ✓ para la vida en el planeta.
- El agua no tiene sabor ✓ ni siquiera agradable o desagradable.
- Los seres vivos ✓ tienen en gran parte de su cuerpo agua.
- El suelo ✓ del planeta también tiene agua.
- El agua no tiene color ✓ transparente.
- El aire ✓ aire está formado por agua en estado gaseoso.

	c.		f.
a.	i		i
	m	e.	r
	p	c	e
	o		
d.	s		
	u		
	e		
	l		
	o		
b.	s		
	a		
	b		
	o		
	r		

