

a. Si en San Francisco son las 9:00 P. M. del martes, ¿qué día y hora es en Chicago?

11:00 pm martes

b. Si en Lhasa (China) son las 8:00 A. M. del sábado, ¿qué día y hora es en Pekín?

7:00 Am sábado

c. Si en Johannesburgo son las 4:00 P. M. del domingo, ¿qué día y hora es en Medellín?

9:00 Am domingo

d. Si en La Habana son las 3:00 A. M. del lunes, ¿qué día y hora es en Tokio?

8:00 Am martes

e. Si en Jerusalén es medio día del viernes, ¿qué día y hora es en Barranquilla?

9:00 Pm viernes

f. Si en Moscú es media noche del miércoles, ¿qué día y hora es en Estambul?

11:00 Am miércoles



se separa de  
monzones,  
montañoso,  
vegetación  
de acuerdo



1 Colorea el mapa de Asia y ubica en este 10 países de gran importancia dentro del continente.

# Sociales



## Prueba Saber

La civilización mesopotámica fue una de las más importantes culturas antiguas, su objeto de estudio se debe a:

- a) Los grandes avances culturales.
- b) El desarrollo social.
- c) Las creencias religiosas.
- d) Los ingenios industriales.

Los mesopotámicos al igual que otras civilizaciones poseían una organización la cual era identificada como:

- a) Ciudades-parcelas.
- b) Chozas-ciudades.
- c) Ciudades-estados.
- d) Tribu-ciudades.

Una civilización se caracteriza por la presencia y el desarrollo de elementos que permiten la aparición de factores que se refieren al ámbito:

- a) Cultural.
- b) Comercial.
- c) Social.
- d) Religioso.

151

### Rejilla de respuestas

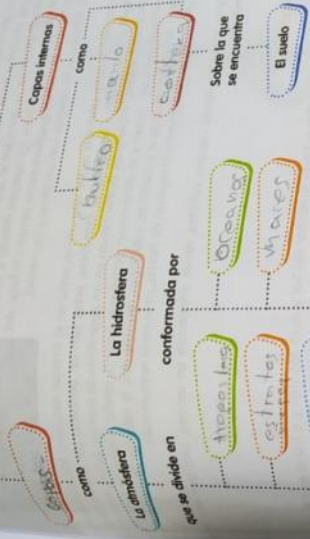
1	2	3	4	5	6	7	8	9	10	11	12
<input type="radio"/>	<input type="radio"/>	<input type="radio"/>	<input type="radio"/>	<input type="radio"/>	<input type="radio"/>	<input type="radio"/>	<input type="radio"/>	<input type="radio"/>	<input type="radio"/>	<input type="radio"/>	<input type="radio"/>
<input type="radio"/>	<input type="radio"/>	<input type="radio"/>	<input type="radio"/>	<input type="radio"/>	<input type="radio"/>	<input type="radio"/>	<input type="radio"/>	<input type="radio"/>	<input type="radio"/>	<input type="radio"/>	<input type="radio"/>
<input type="radio"/>	<input type="radio"/>	<input type="radio"/>	<input type="radio"/>	<input type="radio"/>	<input type="radio"/>	<input type="radio"/>	<input type="radio"/>	<input type="radio"/>	<input type="radio"/>	<input type="radio"/>	<input type="radio"/>
<input type="radio"/>	<input type="radio"/>	<input type="radio"/>	<input type="radio"/>	<input type="radio"/>	<input type="radio"/>	<input type="radio"/>	<input type="radio"/>	<input type="radio"/>	<input type="radio"/>	<input type="radio"/>	<input type="radio"/>



El siguiente mapa conceptual.

La Tierra

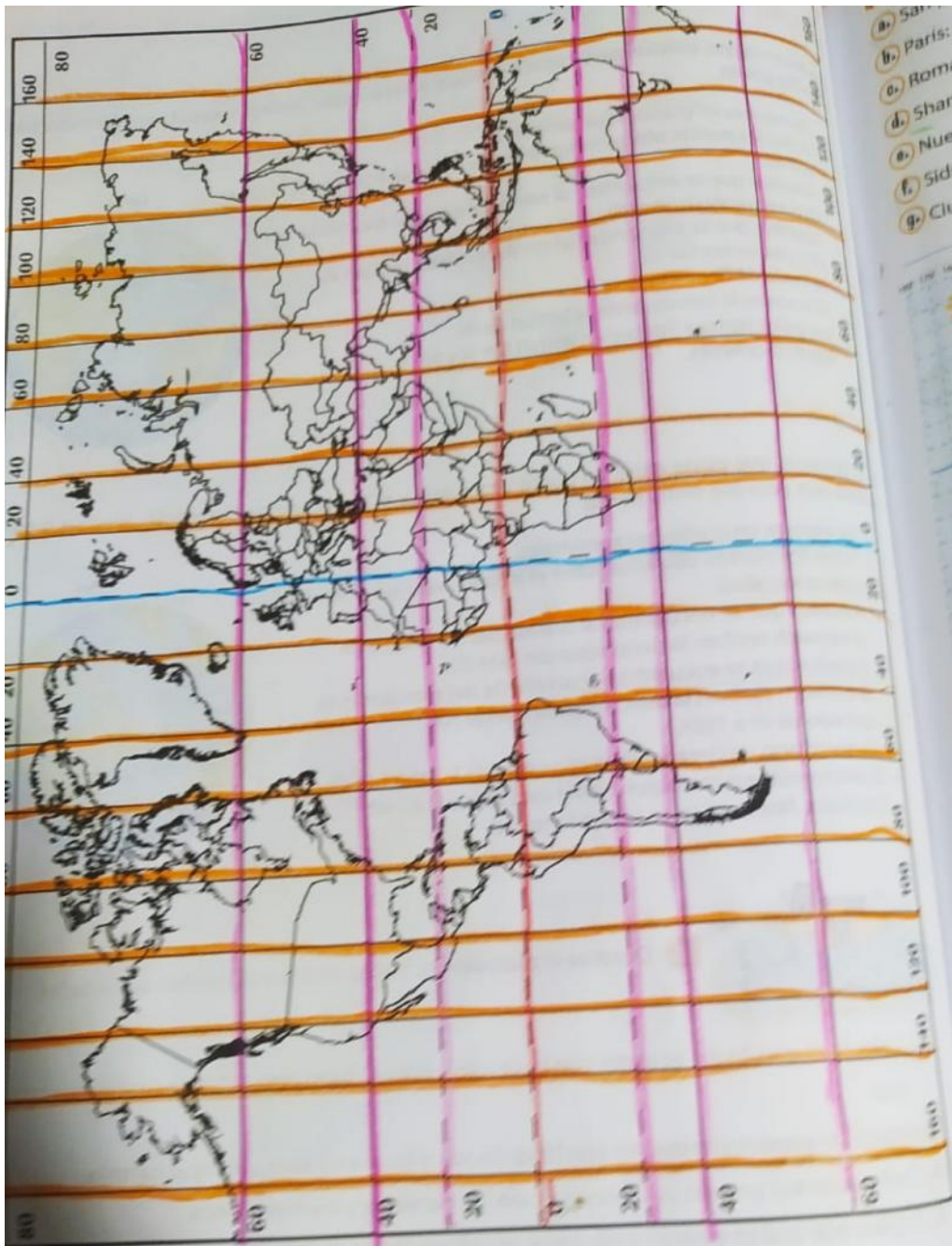
Esta conformada por



Completa de manera correcta las oraciones con las palabras de la caja

- Troposfera
- mesosfera
- exosfera
- estratosfera
- ionosfera

- 1. La exosfera es la capa de la atmósfera que se encuentra más lejos de la Tierra.
- 2. En la estratosfera la temperatura disminuye a mayor distancia de la Tierra.
- 3. En la mesosfera ocurre la reacción química gracias a la cual existe la capa de ozono.
- 4. La ionosfera se encuentra entre los 80 y los 800km de distancia con respecto a la Tierra.
- 5. La troposfera es la capa más fría de la atmósfera.



- a. San Francisco: Lat 38 Lon 122
- b. Paris: Lat 49 Lon 10
- c. Roma: Lat 42 Lon 12
- d. Shanghai: Lat 31 Lon 121
- e. Nueva Delhi: Lat 28 Lon 77
- f. Sidney: Lat 34 Lon 151
- g. Ciudad del Cabo: Lat 34 Lon 18

Longitud Oeste



Tomado de

3 Usando e

a. Si en

5.00

b. Si en

72.7

c. Si en

70

d. Si en

4.5

4

¿En qué época surgió el voto en Colombia?

En la patria boba (1810-1816)

¿En qué lugares se desarrollaban las votaciones?

en las parroquias

¿Cómo era el proceso de votación en la Patria Boba?

la población votaba de manera directa

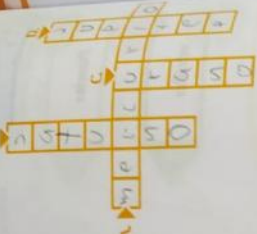
¿Por qué se denominaba sufragio indirecto?

cuando el pueblo no vota mensajes a los candidatos

Al comparar la forma como se desarrollaba el voto en la época de la Nueva Granada y en la actualidad, ¿Qué diferencias y semejanzas encuentras y cuál es tu opinión al respecto?

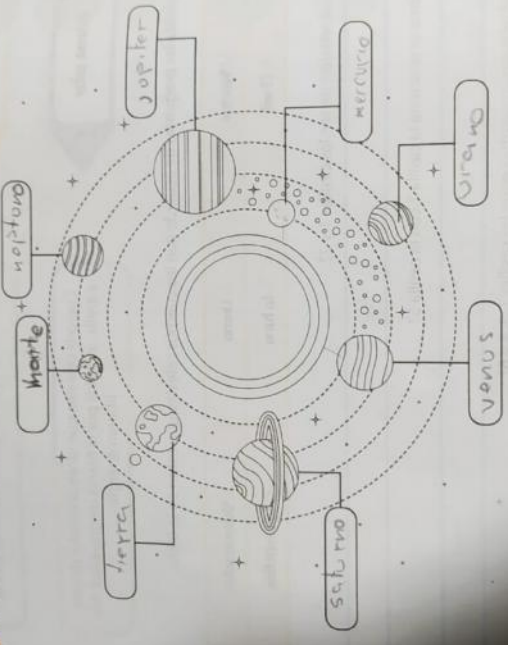
que antes era en parroquias y ahora es en centros del distrito me parece que en las parroquias era mejor por que las elecciones son para escoger a alguien del distrito entonces votar en las parroquias

3. Completa las oraciones acerca de los planetas y resuelve el crucigrama.



- a) MERCURIO es el planeta más cercano al sol; tiene una temperatura muy elevada y no posee atmósfera.
- b) La temperatura del planeta SATURNO es muy baja. Tiene más de doscientos satélites y está rodeado por anillos.
- c) JUPEO es un planeta que tiene un tamaño cuatro veces mayor que la Tierra.
- d) El planeta más grande es JUPITER y gira sobre su eje a gran velocidad.

4. Escribe el nombre de cada planeta del sistema solar.



5. ¿Por qué los planetas tienen diferentes colores?

Por su cantidad de agua y sol.

Explica cómo se formó la cordillera del Himalaya. ¿Qué placas tectónicas estuvieron involucradas, qué ocurrió cuando esas placas chocaron? ¿Conoces algún otro ejemplo de formación de cordilleras por el choque de placas tectónicas?

Completa el crucigrama.

**Horizontal**

- 2. Zona de choque de dos bordes de placas continentales que da lugar a la formación de cordilleras, originando sismos y volcanes.
- 4. Corrientes de calor que originan el movimiento de las placas litosféricas.
- 5. Tipos de placas formadas por continentes y océanos.
- 6. Capa fluida que se encuentra por debajo de las placas litosféricas.
- 7. Placa que abarca la India, Australia, parte de Nueva Guinea y Nueva Zelanda, la mayor parte del océano Índico y parte del pacífico suboccidental.
- 8. Cordillera más alta en la superficie del planeta localizada en una zona de obducción.

**Vertical**

- 1. Nombre de la zona donde chocan una placa continental con otra oceánica.
- 3. Capa rígida compuesta por la corteza terrestre y una parte del manto superior, con un espesor medio de 100km.



A crossword puzzle grid with the following words filled in:

- 1 (Vertical): Subducción
- 2 (Horizontal): Cordillera
- 3 (Vertical): Litósfera
- 4 (Horizontal): Convección
- 5 (Horizontal): Mixtas
- 6 (Horizontal): Astenósfera
- 7 (Horizontal): India Australiana
- 8 (Horizontal): Himalaya

Elabora un modelo de la tectónica de placas y preséntalo a tu clase



### Actividad

## Sociales

1 Consulta sobre los huracanes y los tornados más mortales de la historia.

el gran huracán fue en barba dos 1780  
el total de fallecidos fue 27.000, tifón har  
pheng en octubre de 1881 las tornados  
se mataron a 200.000 personas tornado  
región EF4 del 30 de junio de 1912 con 8 muertos  
tornado edmonton, del 31 de julio de 1987 con 27

mujerte

2 Observa la imagen y explícala.



143

es un tornado porque no hay  
agua cerca y los huracanes  
se forman en el agua

### ¿Qué son competencias ciudadanas?

Las competencias ciudadanas son los conocimientos y las habilidades cognitivas, emocionales y comunicativas que hacen posible que las personas participen en la construcción de una sociedad democrática, pacífica e incluyente.



#### Ser competente

Ser competente significa tener la capacidad para aprender, identificar situaciones problemáticas y usar lo que se sabe para resolverlas.



1 ¿Qué importancia tiene para ti ser un buen ciudadano?

mecha por que un buen ciudadano es legal, apoyar y ser pacifico

145

### Ámbitos temáticos de las competencias ciudadanas

#### Construcción de la Convivencia y la Paz

La educación para la convivencia y la paz es un proceso que implica acciones intencionales, sistemáticas y continuas encaminadas al desarrollo personal y colectivo mediante marcos que generen formas alternativas de pensar, sentir y actuar.



#### Participación y Responsabilidad Democrática

Propenden por la configuración de una sociedad comprometida, defensora del bien común y respetuosa de las diferencias.



#### Pluralidad, Identidad y Valoración de las Diferencias

Es necesaria la formación de unos ciudadanos seguros de sí mismos, capaces de analizar y aportar en procesos colectivos de participación, responsabilidad y pluralidad.