

## Quiz

1. Convertir las siguientes fracciones a número decimal y escribir la clase de decimal.

1 $69 / 2$	$\rightarrow$	$69 \overline{) 2}$	$\rightarrow$ EXACTO	$63 \overline{) 6}$	$\rightarrow$ PERIODO
2 $83 / 6$		$09 \overline{) 34,5}$	$\cdot 1$	$23 \overline{) 13,833}$	MIXTO
3 $29 / 2$		$10 \overline{) 0}$		$50 \overline{) 20}$	$\cdot 2$
4 $37 / 6$		$39 \overline{) 2}$	$\rightarrow$ EXACTO	$33 \overline{) 6}$	$\rightarrow$ PERIODO
5 $99 / 12$		$09 \overline{) 14,5}$	$\cdot 3$	$10 \overline{) 6,166}$	
		$10 \overline{) 0}$		$40 \overline{) 40}$	$\cdot 4$ MIXTO

2. Ubicar en la recta numérica =

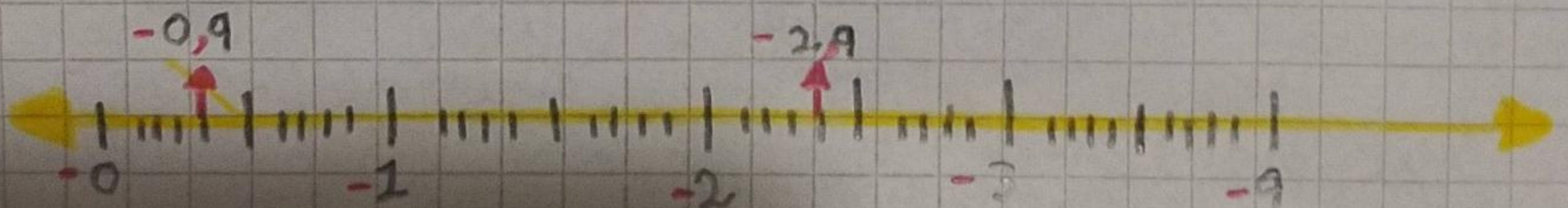
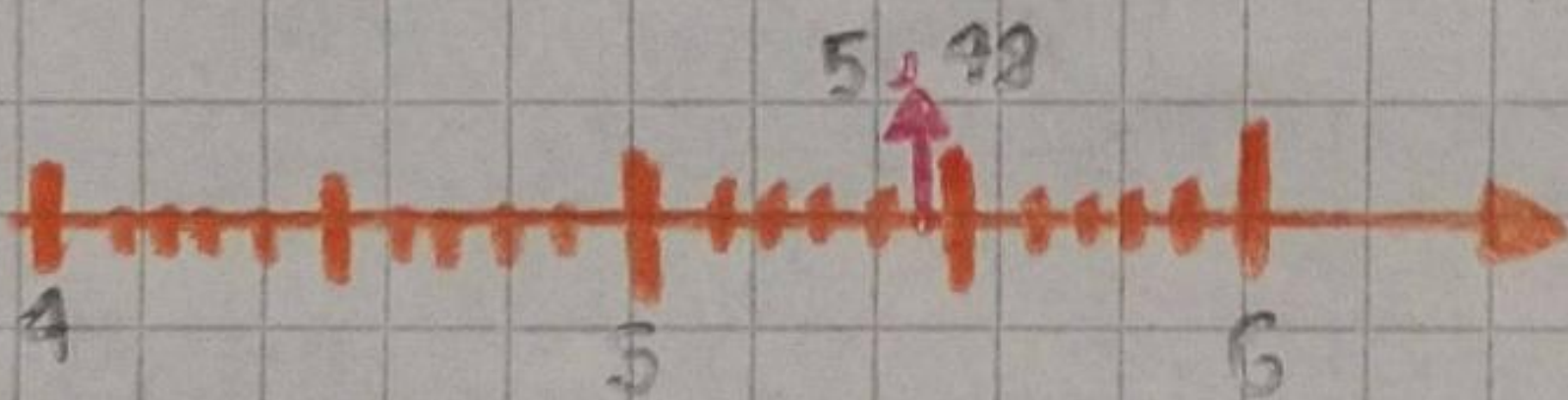
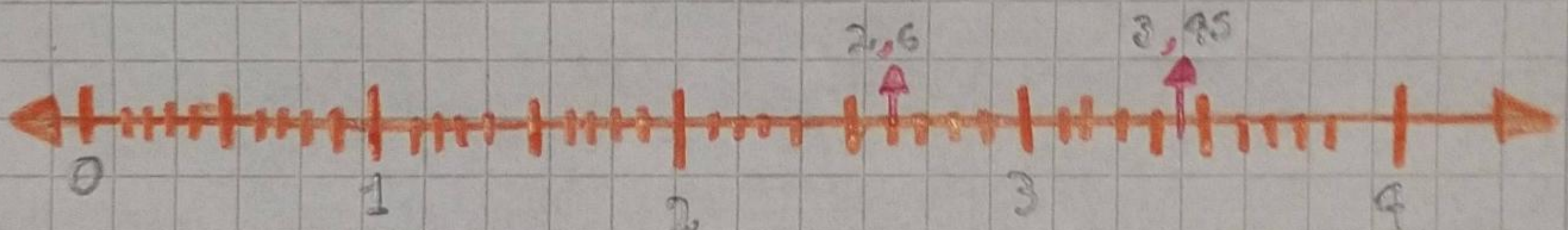
$\bullet$  3,95  $\rightarrow$

$\bullet$  -2,9

$\bullet$  5,98

$\bullet$  2,6

$\bullet$  -0,9





49


19

10

0

12

49,5



EXACTO

5