

200

5 Con un ejemplo, explica la forma como puedes relacionar el desarrollo de la infraestructura con el desarrollo económico de una región.

El actual atraso en la infraestructura se ha convertido en una limitación para alcanzar el crecimiento adecuado en las diversas actividades económicas en Colombia. En esta medida, el gobierno, en compañía del sector privado implementa nuevos proyectos con los que busca tener vías de calidad para poder llevar a cabo de manera efectiva, las operaciones de comercio exterior, y así vender al país como centro de desarrollo y crecimiento.

6 Investiga y luego responde el siguiente cuadro.

	Antes del ferrocarril	Después del ferrocarril	
	Descripción de la situación	Cambios registrados	Por qué se dan estos cambios
Disponibilidad de las materias primas: cueros, hilos, entre otros	Se tardaban mucho más tiempo	Facilitó la entrega de diferentes materiales	Ahorra tiempo
Costo de las materias primas	El costo era superior así como el riesgo de la pérdida o robo	El precio se reduce y el tiempo se reduce	Mayor espacio para el traslado de materias
Calidad de las materias primas	Riesgo de la pérdida o robo	Buen estado y rapidez de meses a días, se alcanza más cobertura	Beneficiaban por tener sus materias primas con prontitud
Cantidad de consumidores a los que se podía vender zapatos	Minutario	Maquinario	Reactivar la economía
Posibilidad para el comprador de tener varios modelos de zapatos	Menor	en gran cantidad	por el ferrocarril



- 17 El pago de 25 millones de dólares como indemnización por la pérdida de Panamá fue pagado por:
- a. El gobierno de Estados Unidos a Colombia por reparar la pérdida de Panamá.
  - b. El nuevo gobierno de Panamá al de Colombia para reparar los daños ocasionados.
  - c. El gobierno de Estados Unidos a Panamá para ayudar con los gastos de reconstrucción del Canal.
  - d. El gobierno de Colombia al de Estados Unidos como multa por intervenir en asuntos internos de Panamá.

Rejilla de respuestas

	1	2	3	4	5	6	7	8	9	10	11	12	13	14	15	16	17
a	<input type="radio"/>	<input type="radio"/>	<input checked="" type="radio"/>	<input type="radio"/>	<input checked="" type="radio"/>	<input type="radio"/>	<input checked="" type="radio"/>	<input type="radio"/>	<input checked="" type="radio"/>	<input checked="" type="radio"/>	<input checked="" type="radio"/>	<input checked="" type="radio"/>	<input type="radio"/>	<input type="radio"/>	<input type="radio"/>	<input type="radio"/>	<input type="radio"/>
b	<input checked="" type="radio"/>	<input type="radio"/>	<input type="radio"/>	<input checked="" type="radio"/>	<input type="radio"/>	<input type="radio"/>	<input type="radio"/>	<input type="radio"/>	<input type="radio"/>	<input type="radio"/>	<input type="radio"/>	<input type="radio"/>	<input type="radio"/>	<input type="radio"/>	<input type="radio"/>	<input type="radio"/>	<input type="radio"/>
c	<input type="radio"/>	<input checked="" type="radio"/>	<input type="radio"/>	<input type="radio"/>	<input type="radio"/>	<input checked="" type="radio"/>	<input type="radio"/>	<input checked="" type="radio"/>	<input type="radio"/>	<input type="radio"/>	<input type="radio"/>	<input type="radio"/>	<input checked="" type="radio"/>	<input type="radio"/>	<input checked="" type="radio"/>	<input checked="" type="radio"/>	<input type="radio"/>
d	<input type="radio"/>	<input type="radio"/>	<input type="radio"/>	<input type="radio"/>	<input type="radio"/>	<input type="radio"/>	<input type="radio"/>	<input type="radio"/>	<input type="radio"/>	<input type="radio"/>	<input type="radio"/>	<input type="radio"/>	<input type="radio"/>	<input checked="" type="radio"/>	<input type="radio"/>	<input type="radio"/>	<input type="radio"/>



pag 96 Módulo.

a) ¿Cuáles departamentos eran los mayores productores de café al finalizar el siglo XIX?

Rta. En primer lugar el Viejo Caldas en el segundo lugar Antioquia y con un tercero Cundinamarca.

B) ¿Cuáles eran los mayores productores de café hacia 1932?

Rta. Viejo Caldas y Antioquia.


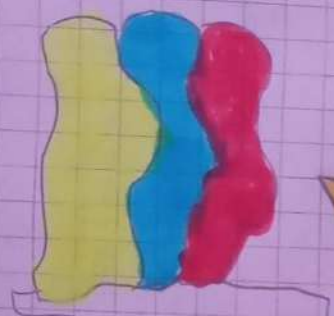

c) ¿Qué diferencias encuentras entre la producción cafetera de los departamentos de Antioquia y Cundinamarca en los años 1898 y 1913? ¿Qué variaciones hubo entre estos?

Rta. La diferencia es que Cundinamarca siempre fue superior a Antioquia en la producción de café. La variación fue que Antioquia en 1913 tuvo más del doble de producción de café del año 1898, a diferencia que Cundinamarca tuvo una baja muy mínima en el año 1913 a diferencia del año 1898.

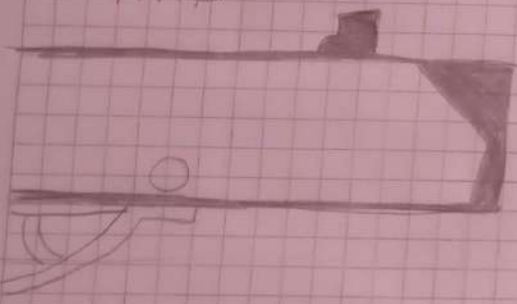
d) De acuerdo con lo que has aprendido en la unidad, ¿cómo puedes explicar estos cambios en la producción cafetera del país?

Rta. Según la tabla en el siglo XVIII los departamentos que fueron líderes en la producción cafetera ya en el siglo XIX pasaron de ser los líderes a ser los últimos y a que departamentos como Antioquia y Viejo Caldas empezaron a aumentar.





Arma



No Me  
Usa  
o Hacer  
HABLAR

MICROFONO

