


Encuentra en la sopa de letras 15 palabras del texto anterior.



liberal
 separacion
 Ejercito
 free
 conservador
 gubernamental
 tratado
 guerrilla
 escaramiento
 parama
 Paris
 Solovio
 Sorreva
 forzado
 Guerra de los mil.

REPUBLICA CONSERVADORA

5 Escribe el principal logro de la Revolución en Marcha en cada aspecto.

Trabajo	Propiedad de la tierra	Educación
<ul style="list-style-type: none"> • Sanciono la intercepción del Estado en la economía y autorizó la mediación del mismo en los conflictos entre obreros y patrones • Reconocio el derecho al trabajo y a la huelga • Impuso una reforma laboral que dio reconocimiento al contrato, otorgo facultades al gobierno para fijar el salario minimo 	<ul style="list-style-type: none"> Establecio la función social de la propiedad, es decir, reconoció el derecho a la propiedad pero determino el derecho de Estado para realizar expropiaciones bajo el principio de la utilidad pública • El ministerio de trabajo y el instituto de credito Territorial, que Fomento la construcción de vivienda de interes social. 	<ul style="list-style-type: none"> • Establecio la libertad de enseñanza y de culto • Tomo medidas para proteger la infancia y fomento la educación pública

comportamiento.

La violencia es algo muy normal, ya que la violencia depende mucho de las condiciones sociales, culturales y políticas. Es muy necesario entender que existen conductas que conllevan a la violencia y que posiblemente se encuentren dentro de nuestra mente, la violencia es que es un grupo o una comunidad que trae consecuencias traumáticas, daños psicológicos, problemas de desarrollo o hasta conlleva a la muerte.

3 Analiza si Gaitán está acusando al presidente Ospina Pérez de auspiciar la violencia o si está haciéndole recaer en su persona la responsabilidad de detenerla. Toma una posición y argumentala.

2
• Lacerado por tanta injusticia, bajo un silencio clamoroso, para pedir que haya paz y piedad para la patria. Todo depende ahora de vos! Gobierno anegan en sangre el territorio o de la patria cesarian en su ciega perfidia.
Esta culpado al presidente de un territorio de sangre a una patria ciega

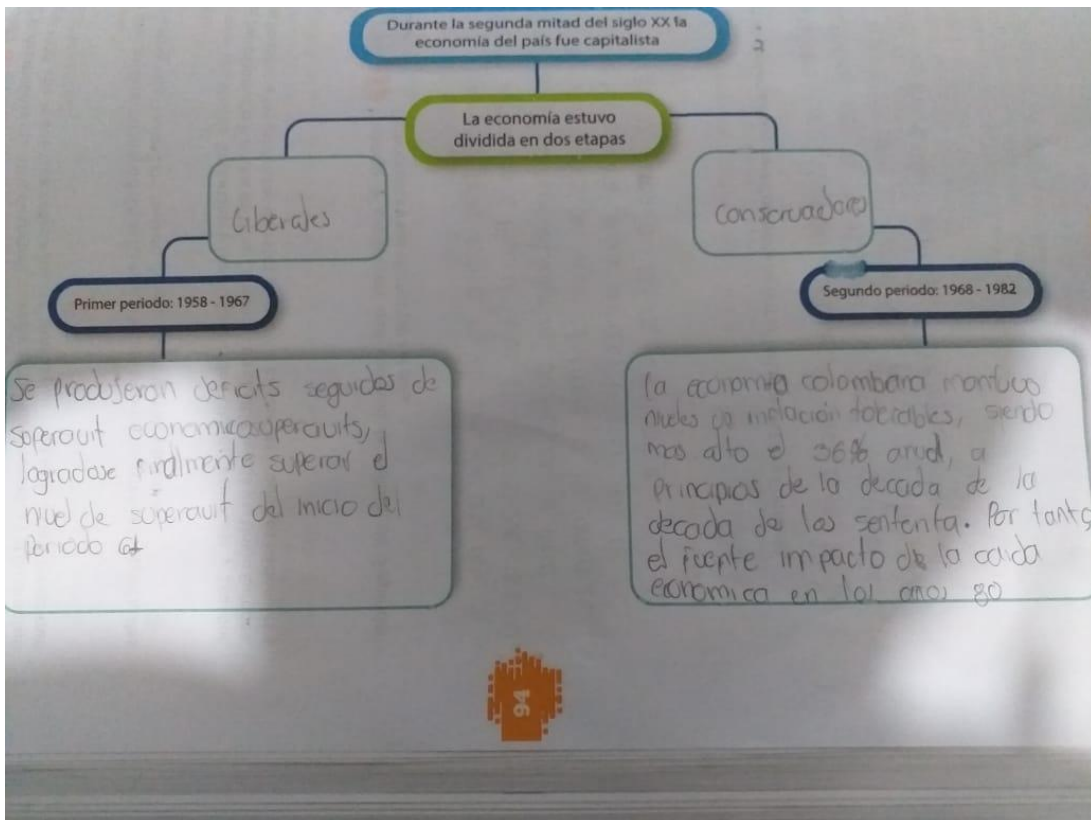


1 Investiga y explica en qué consistió la Política de Seguridad Democrática y sus efectos para el país.

La política de seguridad democrática en Colombia fue una política gubernamental del expresidente Álvaro Uribe (2002-2010) que promovió un papel más activo de la sociedad colombiana dentro de las fuerzas del Estado y de sus órganos de seguridad frente a la amenaza de grupos insurgentes y otros grupos armados ilegales en el marco del conflicto armado interno en Colombia.

2 Consulta sobre las consecuencias para Colombia de firmar Tratados de Libre Comercio.

El TLC afectará a Colombia porque la producción de las empresas nacionales era a tener un precio muy magnificante comparado con las de otros países, pero por otro lado permitirá que la personas compren productos a muy bajos precios.



El café ha sido el principal producto de exportación de Colombia desde que el país se constituyó en república.

Verdadero porque antes de ser constituida como república los principales productos eran el tabaco y el oro

En tu cuaderno
2. Observa con atención el siguiente cuadro. Luego, responde las preguntas.

Producción cafetera por departamentos 1874-1932 (Miles de sacos de 60 kg)

Departamento	Antioquia	Valle	Valle	Valle	Cundinamarca	Tolima	Norte de Santander	Santander
1874	1,2	4,3	0,6	8	20	26	94,3	10
1898	70	20	50	200	60	200	200	105
1913	185	199	50	312	156	233	98	150
1925	415	495	50	405	448	270	150	
1932	617	1.004	354					

- ¿Cuáles departamentos eran los mayores productores de café al finalizar el siglo XIX?
- ¿Cuáles eran los mayores productores de café hacia 1932?
- ¿Qué diferencias encuentras entre la producción cafetera de los departamentos de Antioquia y Cundinamarca en los años 1898 y 1913? ¿Qué variaciones hubo entre estos?
- De acuerdo con lo que has aprendido en la unidad, ¿cómo puedes explicar estos cambios en la producción cafetera del país?

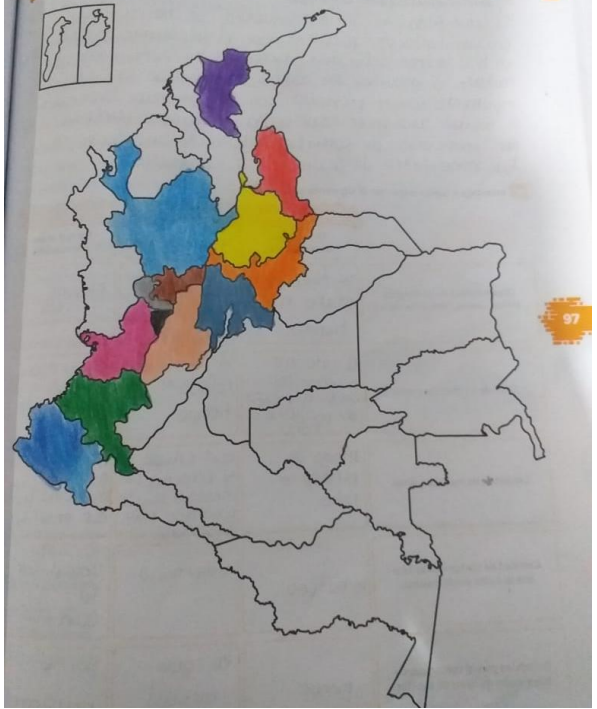
3. Observa la imagen y realiza un resumen sobre la industria textil en Colombia. Consulta en diferentes fuentes de ser necesario.



Es la actividad económica dedicada a la manufactura de hilos, fibras, telas y otros materiales para obtener productos denominados como la tela. Esta industria abarca entonces

la confección de prendas, calzados y otros piezas que usan las personas para vestirse

En el siguiente mapa, colorea en qué zonas del país se cultiva actualmente café.



5 Con un ejemplo, explica la forma como puedes relacionar el desarrollo de la infraestructura con el desarrollo económico de una región.

El actual estado en la infraestructura se ha convertido en una limitación para alcanzar el crecimiento deseado en las diversas actividades económicas en Colombia. En este sentido, el gobierno, en compañía del sector privado, implementa nuevos proyectos con los que busca tener vías de calidad para poder llevar a cabo de manera efectiva las operaciones de comercio exterior, y así vender al país como centro de desarrollo y crecimiento.

6 Investiga y luego responde el siguiente cuadro.

Descripción de la situación	Después del Ferrocarril	
	Cambios registrados	Por qué se dan estos cambios
Disponibilidad de las materias primas: cueros, hilos, entre otros	se tardaban mucho más tiempo	facilita la entrega de diferentes materiales
Costo de las materias primas	el costo era superior así como el riesgo de pérdida o robo	el precio se redujo y el tiempo
Calidad de las materias primas	riesgo de pérdida o robo	Buen estado y rapidez de meses a días, se alcanzó más cobertura
Cantidad de consumidores a los que se podía vender zapatos	minutario	mayor
Possibilidad para el comprador de tener varios modelos de zapatos	menor	en gran cantidad
		Reactivar la economía
		por el ferrocarril

Rejilla de respuestas

	1	2	3	4	5	6	7	8	9	10	11	12	13	14	15	16	17
	<input type="radio"/>	<input type="radio"/>	<input checked="" type="radio"/>	<input type="radio"/>	<input checked="" type="radio"/>	<input type="radio"/>	<input checked="" type="radio"/>	<input type="radio"/>	<input checked="" type="radio"/>	<input checked="" type="radio"/>	<input checked="" type="radio"/>	<input type="radio"/>	<input type="radio"/>	<input type="radio"/>	<input type="radio"/>	<input type="radio"/>	<input checked="" type="radio"/>
	<input checked="" type="radio"/>	<input type="radio"/>	<input type="radio"/>	<input checked="" type="radio"/>	<input type="radio"/>	<input type="radio"/>	<input type="radio"/>	<input type="radio"/>	<input type="radio"/>	<input type="radio"/>	<input type="radio"/>	<input type="radio"/>	<input type="radio"/>	<input type="radio"/>	<input type="radio"/>	<input type="radio"/>	<input type="radio"/>
	<input type="radio"/>	<input checked="" type="radio"/>	<input type="radio"/>	<input type="radio"/>	<input type="radio"/>	<input checked="" type="radio"/>	<input type="radio"/>	<input checked="" type="radio"/>	<input type="radio"/>	<input type="radio"/>	<input type="radio"/>	<input type="radio"/>	<input checked="" type="radio"/>	<input type="radio"/>	<input checked="" type="radio"/>	<input checked="" type="radio"/>	<input type="radio"/>
	<input type="radio"/>	<input type="radio"/>	<input type="radio"/>	<input type="radio"/>	<input type="radio"/>	<input type="radio"/>	<input type="radio"/>	<input type="radio"/>	<input type="radio"/>	<input type="radio"/>	<input type="radio"/>	<input type="radio"/>	<input type="radio"/>	<input checked="" type="radio"/>	<input type="radio"/>	<input type="radio"/>	<input type="radio"/>



Pg 88

3) Comparar a los animales que es igual mayor patos a personas de un género a los hombre y mujeres como animales

Pg 96

• Cuales fueron los mayores productores de café en 1898

1. Valle del Cauca
2. Antioquia
3. Tolima

• En 1913?

1. Norte de Santander
2. (Santander) Cundinamarca
3. Santander

• ¿Diferencia en Antioquia y Cundinamarca en 1898 y 1913?

La diferencia es que Antioquia tuvo producción de café más baja que Cundinamarca. La relación fue que Antioquia en 1913 tuvo más producción de café que en el año 1898 a diferencia de que Cundinamarca tuvo una muy baja mínima en el año 1913 a diferencia del año 1898.

• ¿Que puedes explicar?

En el siglo XIX los departamentos que fueron líderes de producción cafetera ya que en el siglo XX pasaron de ser los líderes a los últimos.

