

9th April 2021

# RESOLUCION DE PROBLEMAS MATEMATICOS



¿Cómo entender los problemas?

1. Leyéndolo
2. Dibujando

3. Comprendiendo la pregunta. ¿?

## Ejemplo

Maria tiene una canasta con 50 berenjenas, y ha decidido repartir, compartir las berenjenas con sus dos amigas, a Mariana le ha dado 20 berenjenas y a Salome lo ha dado 10 berenjenas. ¿Cuántas berenjenas le quedan a Maria?

30 th April 2021

33

# Solución



$$\begin{array}{r}
 50 \\
 - 20 \\
 \hline
 30
 \end{array}
 \qquad
 \begin{array}{r}
 30 \\
 - 10 \\
 \hline
 20
 \end{array}$$

**Respuesta** a Maria le quedaron  
20 berenjenas en su canasta.

### Actividad

Hacer dos problemas matemáticos teniendo en cuenta el ejemplo anterior.

1. El manzano de mi huerto ayer tenía 19 manzanas. Algunas estaban maduras y se cayeron al suelo. Hoy el manzano tiene 13 manzanas.  
¿Cuántas manzanas se cayeron del árbol?

Ayer





Solución

operación

19  
13  
06

# Respuesta


se cayeron del árbol 6 manzanas

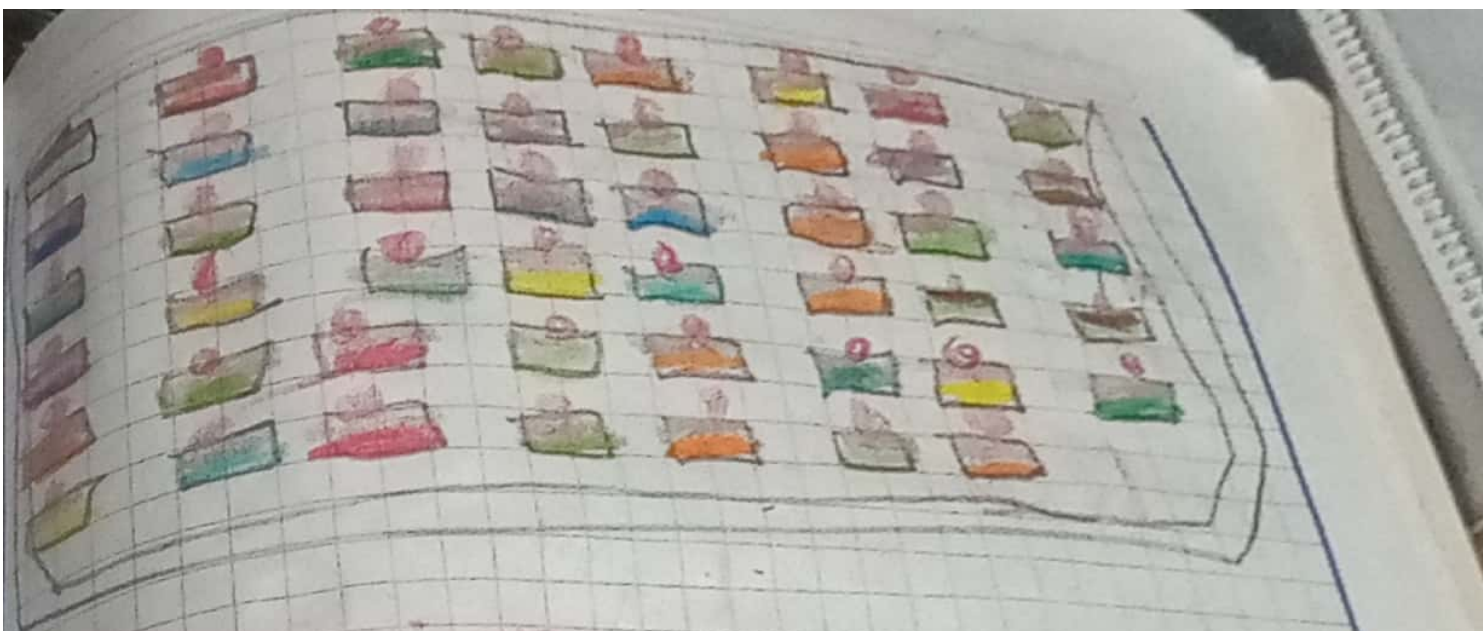
2º

En la pastelería hay una bandeja con 34 pasteles. Jaímen, el pastelero, trae otra bandeja con 45 más.

! Cuantos pasteles hay en total?

## Solucion





Operacion

$$\begin{array}{r} 34 \\ + 45 \\ \hline 79 \end{array}$$

Respuesta

Hay 79 pasteles en total

3th May 2021

## Homework

1. Terminar la actividad de la pág. 87 del módulo.

5th May 2021

## LA DECENA

Una decena es la Reunión de 10 unidades.





## Actividad


Resuelve los siguientes ejercicios en tu cuaderno:

A Juan tiene 90 canicas le regala 20 a Miguel. ¿Cuántas canicas le quedan?

### Solución

$$\begin{array}{r} 90 \\ - 20 \\ \hline 70 \end{array}$$

R: Le quedan 70 canicas



B En el salón de Paula hay 20 estudiantes ella compra 20 dulces en la tienda si quiere regalárselos a cada compañero de su salón ¿Cuántos dulces le faltan?

Solución

Resta

28

-20

08

Respuesta: Le faltan 8 dólares.  
c. En el salón de sistemas

hay 35 bancas, si suben todos los niños de primero. ¿Cuántas bancas sobran?

(Recuerda en tu salón)

11 estudiantes

Solución

Resta 35

-11

24

Respuesta Sobran 25 barras  
the May 2017