

4 Colorea los números de acuerdo con su escritura.

Dieciocho

Veinticinco

Cuarenta y cuatro

Setenta y dos

Catorce

25

14

81

44

18

26

52

41

72

5 Con los siguientes dígitos, forma todos los números posibles de dos cifras y escribe como se lee.

1

6

3

a 13 se lee Trece ✓


b 76 se lee dieciséis ✓

c 61 se lee sesenta y uno ✓


d 31 se lee Treinta y uno ✓

RELACIONES DE ORDEN

Cuando hablamos de dar orden a los números, debemos tener en cuenta su posición de acuerdo a si es mayor o menor, así:



Observa el siguiente ejercicio:

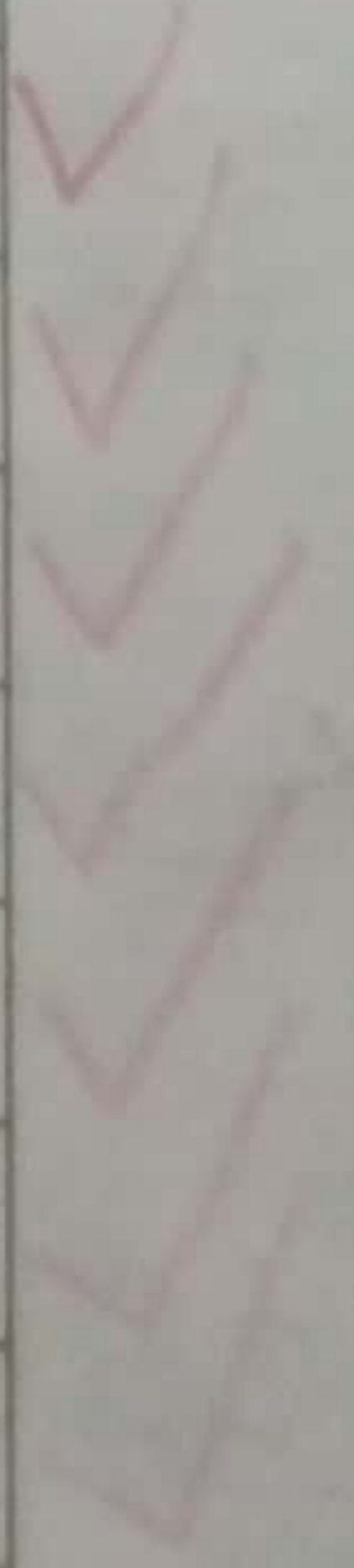


En el primer cuadro hay 13 tomates, en el segundo 15.
Entonces podemos decir que el primer cuadro es **menor que** el segundo, así:
 $13 < 15$ y se lee
Trece es **menor que** quince



1 Completa el siguiente cuadro:

Número	Mayor o menor que	Número
23	<	35
45	>	21
67	>	46
89	>	17
13	<	49
26	>	37
70	>	10




2 Completa con < o > según corresponda.



6

>



3



5

>



4



8

<



9

3 Completa el ejercicio escribiendo el número anterior y el siguiente del propuesto.

33 34 35

4 5 6

46 46 47

6 7 8

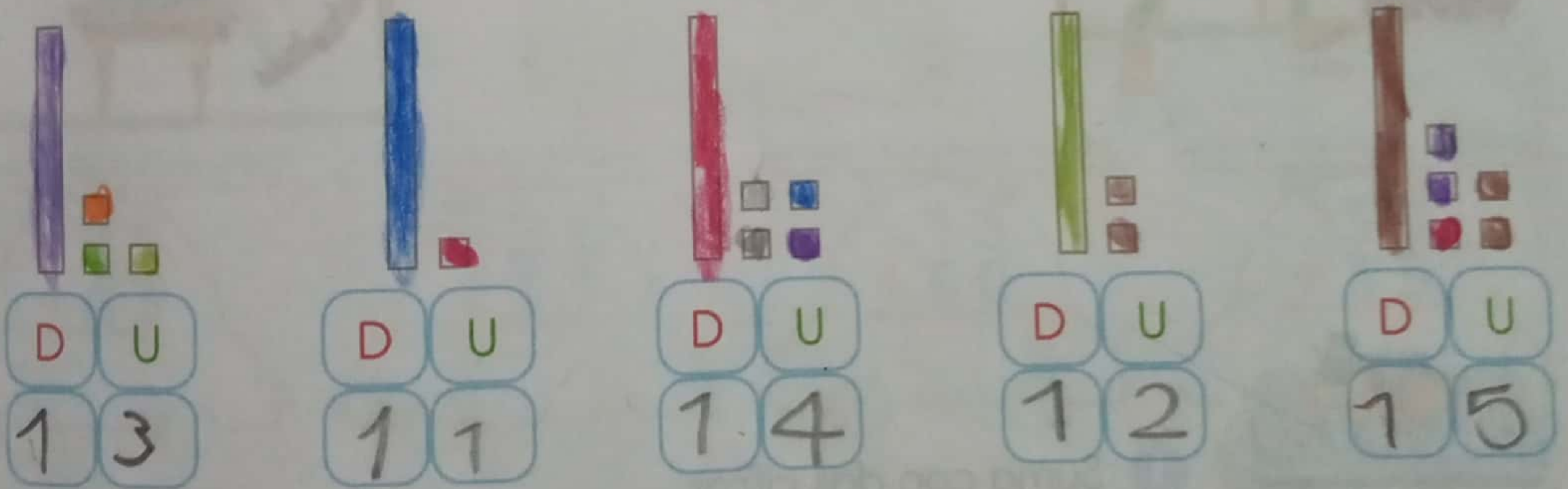
56 57 58

19 20 21

4 Vamos a completar la siguiente tabla, observa el ejemplo y trabaja con tu compañero.

Número	Descomposición	Forma escrita
21	20 + 2	Veintiuno
45	40 + 5	Cuarenta y cinco
38	30 + 8	Treinta y ocho
92	90 + 2	Noventa y dos
37	30 + 7	Treinta y siete
28	20 + 8	Veintiocho
83	80 + 3	Ochenta y tres
11	10 + 1	Once

5 Recordemos las tablas de unidades y decenas mediante este ejercicio, recuerda que la barra es una decena y los cuadritos una unidad.



6 Ordena y escribe en las casillas, los números de menor a mayor, con sus respectivas letras. Descubre el nombre de un animal en cada tabla.

A	F	I	J	A	R
59	48	30	29	43	36

J	I	R	A	F	A
29	30	36	43	48	59

R	A	A	U	J	G
96	83	44	59	21	47

J	A	G	U	A	R
21	44	47	59	83	93