

# NÚMEROS ORDINALES

Los números ordinales nos sirven para ordenar objetos, sucesos o a las personas.



1 Observa la imagen y responde.



Responda:

- a El elefante se encuentra en el 4<sup>to</sup> lugar.
- b El toro se encuentra en el 6<sup>o</sup> lugar.
- c El león se encuentra en el 10<sup>o</sup> lugar.
- d La jirafa se encuentra en el 1<sup>o</sup> lugar.
- e La oveja se encuentra en el 9<sup>o</sup> lugar.
- f El conejo se encuentra en el 8<sup>o</sup> lugar.
- g El caballo se encuentra en el 7<sup>o</sup> lugar.

2 Indique la ubicación del cuadrado verde que se encuentra en la imagen contando de izquierda a derecha.



Rojo



Naranja



Verde



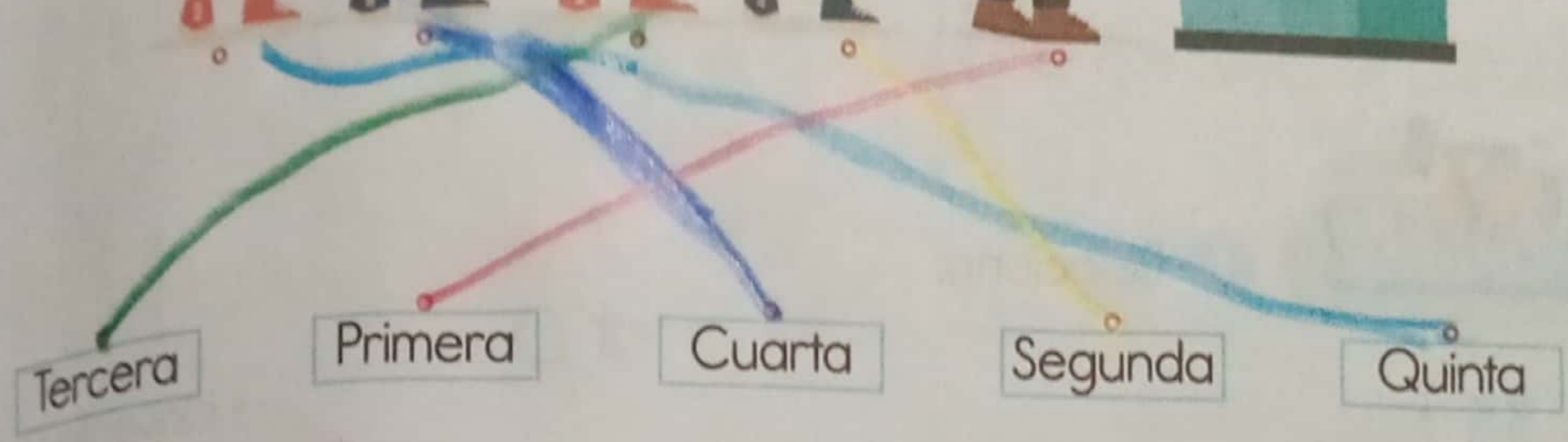
Azul



Amarillo

El cuadrado verde se encuentra en el 3<sup>o</sup> lugar

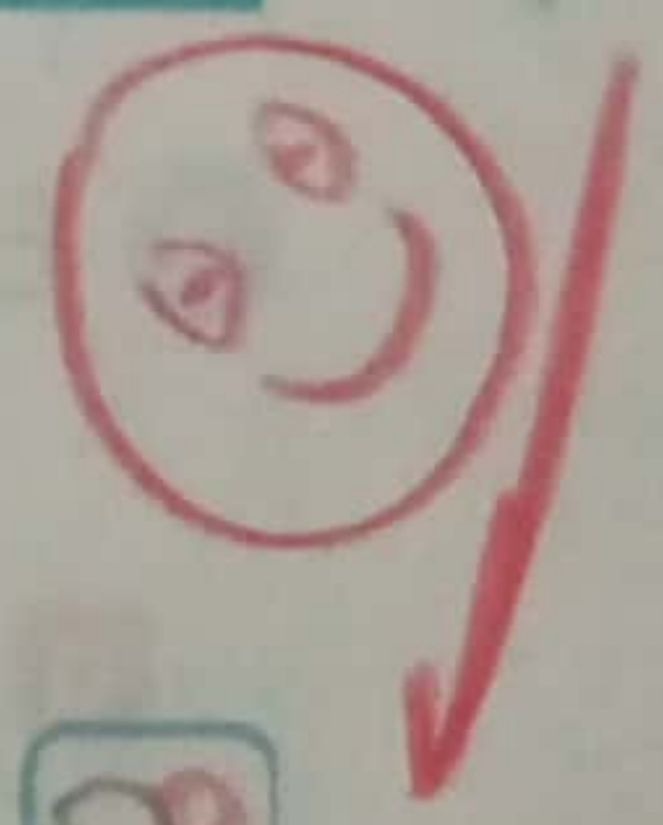
4 Recordemos los números ordinales con este ejercicio, une con una línea según el orden en la fila.









5 Hay una carrera de barcos, esta es la fotografía del orden de llegada.



Completa el siguiente cuadro según la información.



El  va de <span style="border: 1px solid black; padding: 2px;">1º</span>	El  va de <span style="border: 1px solid black; padding: 2px;">7º</span>	El  va de <span style="border: 1px solid black; padding: 2px;">2º</span>
El  va de <span style="border: 1px solid black; padding: 2px;">8º</span>	El  va de <span style="border: 1px solid black; padding: 2px;">6º</span>	El  va de <span style="border: 1px solid black; padding: 2px;">9º</span>

# LECTURA Y ESCRITURA DE NÚMEROS DE DOS CIFRAS


Para leer un número de dos cifras, primer se leen las decenas y luego unidades.

D U  
4 8 Cuarenta y ocho

D U  
3 1 Treinta y uno



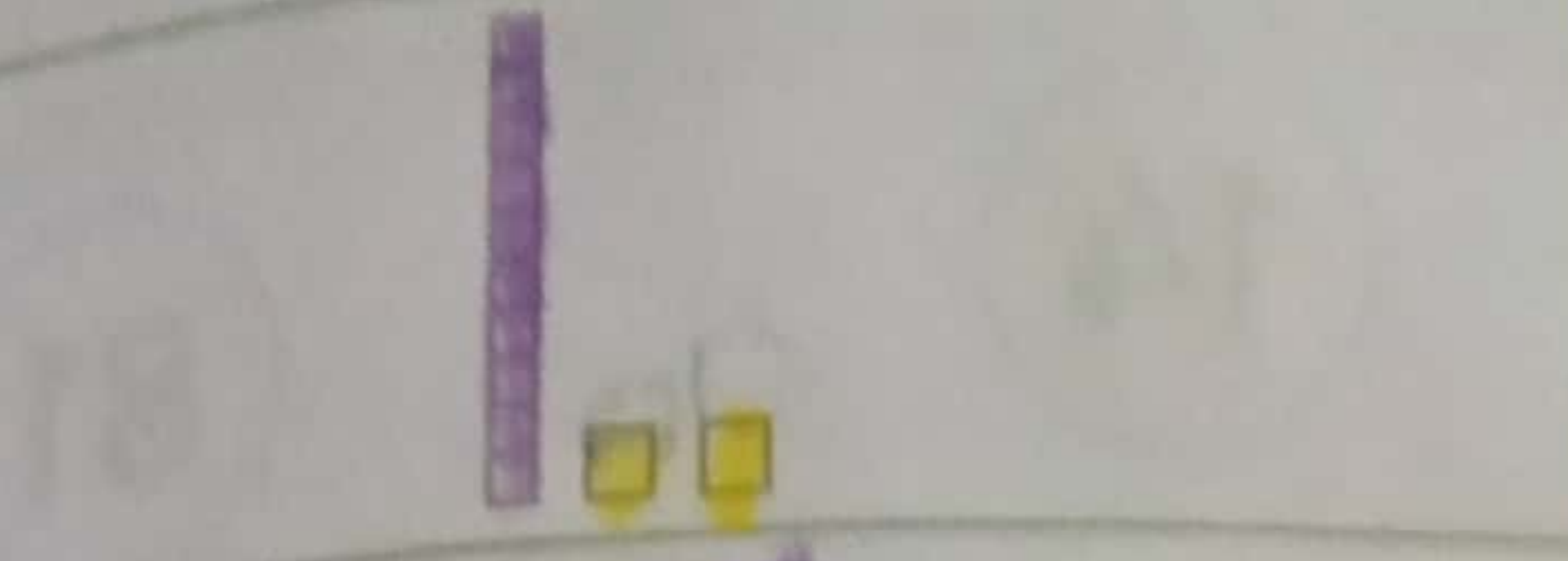
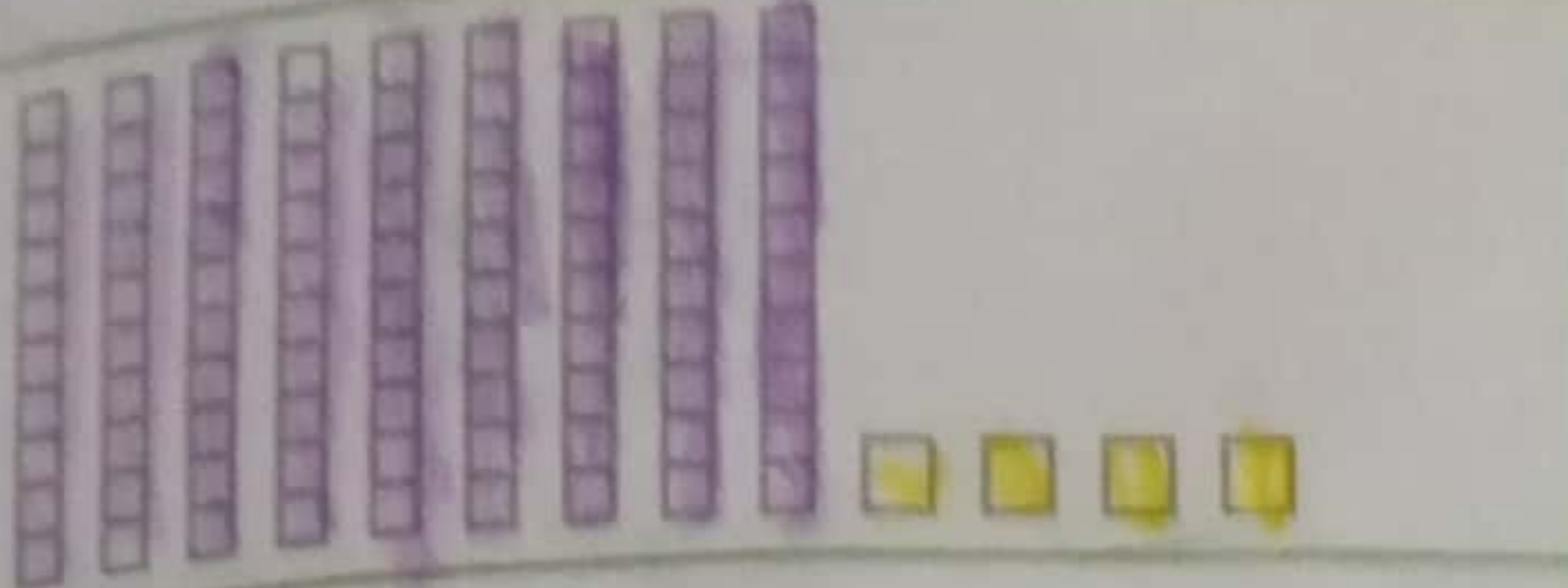

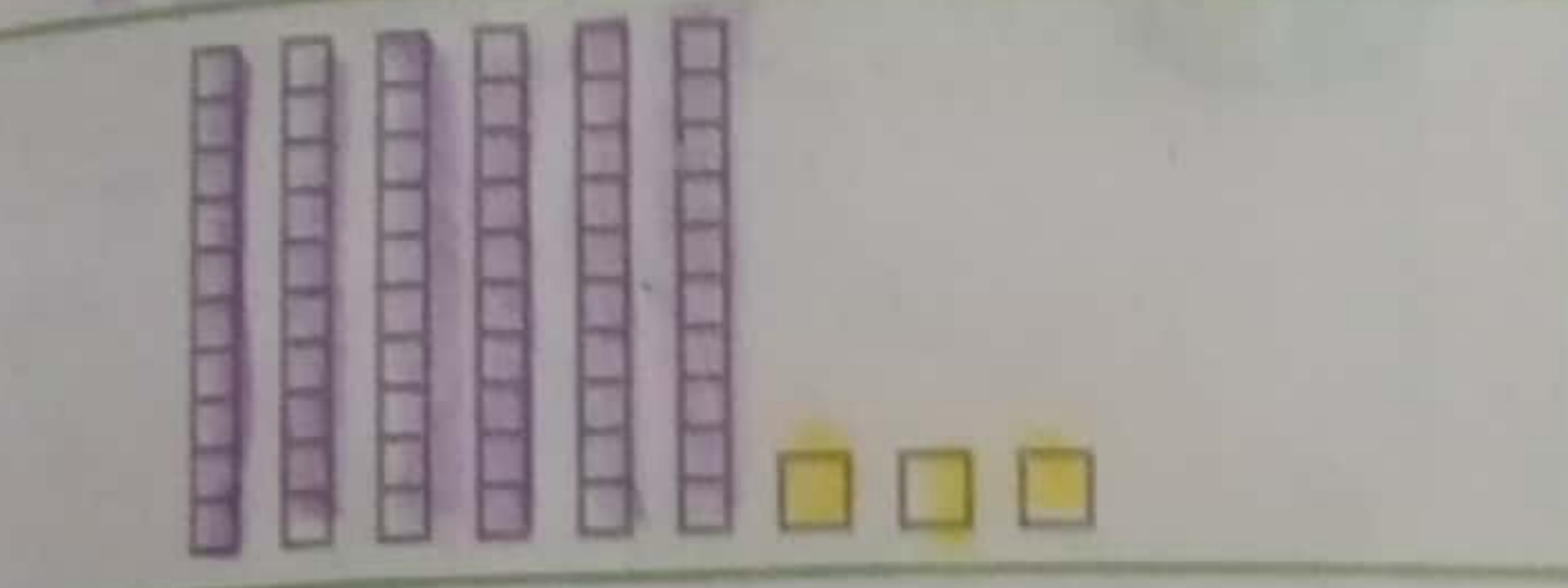
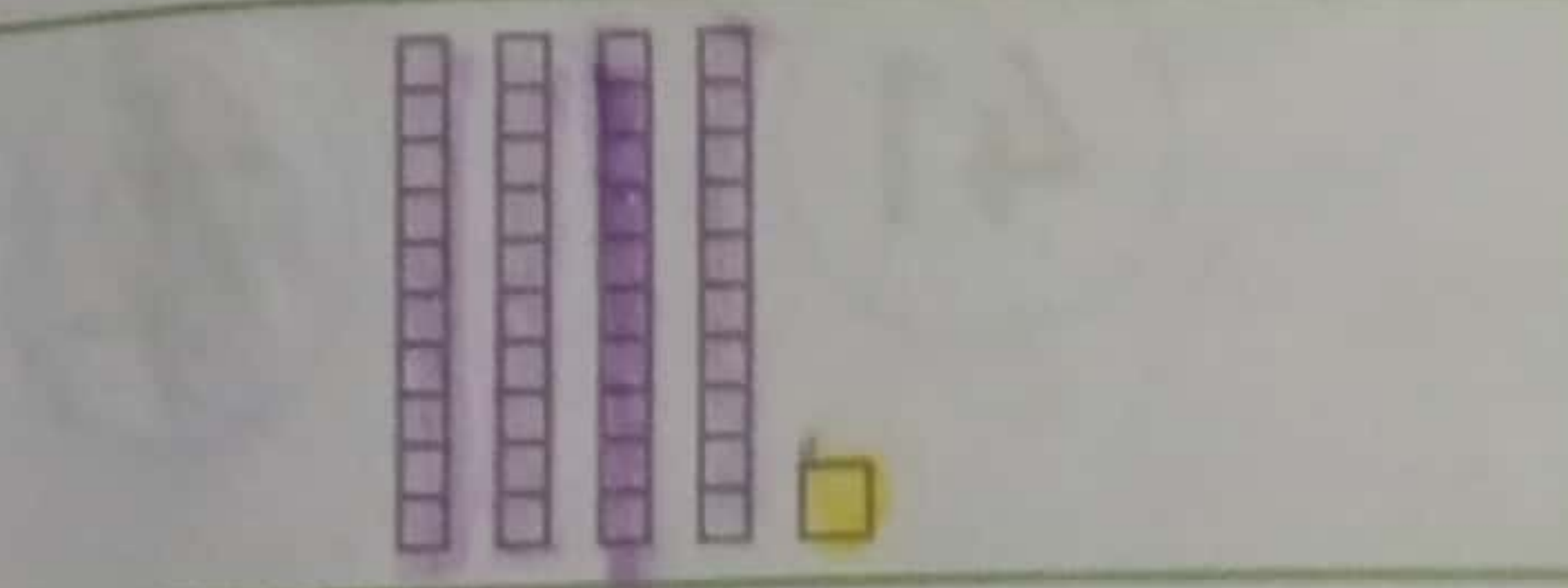




1 Relaciona.



2 Escribe en letras los siguientes números.

- a 30 Treinta
- b 64 Sesenta y cuatro
- c 22 Veintidos
- d 14 catorce
- e 19 diesinueve
- f 10 diez

3 Completa la tabla. Ten presente que cada cuadrado equivale a una unidad, y que cada columna de 10 cuadrados equivale a 10 unidades.

	Número	Escritura
	12	Doce
	94	Noventa y cuatro
	38	treinta y ocho
	63	Sesenta y tres
	41	Cuarenta y uno
	56	Cincuenta y seis
	27	Veintisiete
	89	Ochenta y nueve
	100	Cien