

3 Completa el siguiente cuadro comparativo.

ASPECTO FÍSICO O RELIEVE

REGIÓN NATURAL	ASPECTO FÍSICO O RELIEVE
Región Caribe	Esta comprende mayormente a la llanura continental del Caribe. Esta llanura está ubicada al norte de las Andes y termina en la Sierra Nevada de Santa Marta.
Región Andina	Es una de las regiones naturales de Colombia. En Colombia los Andes se dividen en tres cordilleras, occidental, central y oriental. Que dan lugar a numerosas montañas, mesetas y un sistema fluvial cuyos principales ríos son el Cauca y el Magdalena.
Región Orinoquía	Esta localizada al oriente de Colombia. Es una región de inmensa llanura con pocas montañas y bosques espesos de tipo sabana. Abundante como se resalta entre las riberas.
Región Pacífica	Se encuentra cubierta de selvas y cascadas. La región del Pacífico es una franja de territorio que se extiende de sur a norte entre Ecuador y Panamá.
Región Amazónica	En la zona de estudio existen tres áreas principales, la zona de cordillera alta y cubierta, la zona de piedemonte con colinas altas y bajas y finalmente la llanura aluvial amazónica.

102

RELACIONES GEOGRÁFICAS

Relaciones económicas

La política exterior que contribuye a esto que las instituciones definen en conde consulados.

Colombia ha de la Comunidad con quien el parte, la estrategia de lograr del Área de

Dentro de constituye hemisférico considera

Adicionalmente Grupo de una y con un panorama

Por otro Color de la 8% de la in poco pro na ex

E

Sociales

Colombia se encuentra al noroccidente de América del Sur y tiene:


- a Al oriente, con: El río Guayana
- b Al sur, con: Los sierrones del Apurímac y los sierrones de los Andes
- c Al occidente con: el océano Pacífico y el istmo de Panamá
- d Al norte con: el mar Caribe

Escribe el nombre de los océanos que bordean a Colombia.



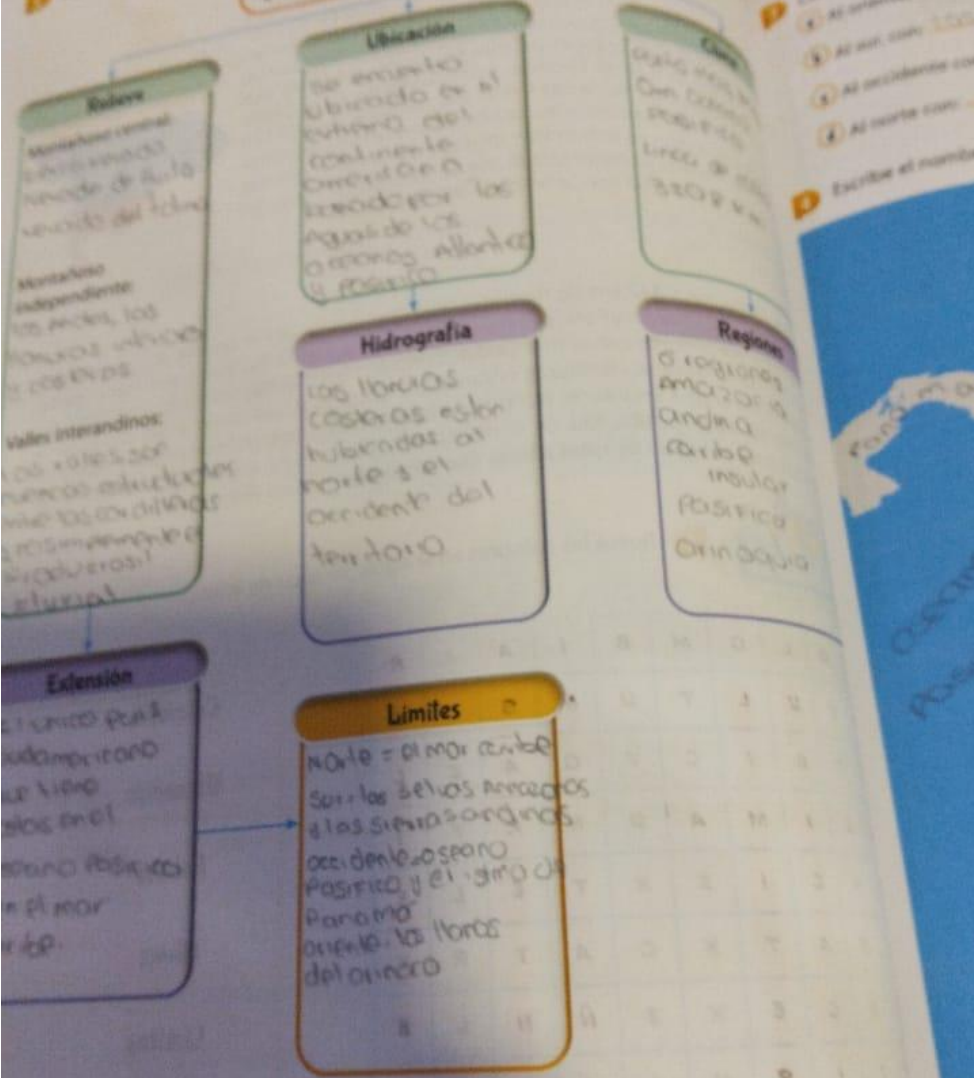
Clima

0 mas bajo
de costo
8 km




2 Completa el siguiente mapa conceptual

Características físicas de Colombia



3 Colombia se encuentra
1 Al norte con...
2 Al sur con...
3 Al occidente con...
4 Al oeste con...
Escribe el nombre



Corresponde un
 lieve modifica
 con diferentes

el Inrida.
 paupés y el

E	O	L	O	M	B	I	A	A	R	
S	D	U	L	T	U	M	S	X	E	
G	R	B	I	C	V	O	A	Z	L	
C	L	I	M	A	D	N	R	F	I	
T	Y	C	I	Z	X	T	B	L	B	
G	H	A	T	X	C	A	T	R	V	
G	H	C	B	X	Z	Ñ	N	L	B	
B	T	I	S	N	I	A	O	K	U	
O	P	O	W	D	G	S	R	H	S	
H	J	N	K	L	F	G	F	D	X	

- Colombia ✓
- Uruguay ✓
- Paraguay ✓
- China ✓
- Libia ✓
- México ✓
- Francia ✓

Región	10 (11,10%)	Región Andina
Guane	Valledupar	Región Caribe
Cesar		

05,1

¿Cuál es la región más húmeda de Colombia?

- a Región Amazonía
- b Región Pacífica
- c Región Andina
- d Región Caribe

¿Cuál es la región más poblada de Colombia?

- a Región Amazonía
- b Región Pacífica
- c Región Andina
- d Región Caribe

Sociales

Completa el siguiente cuadro.

DEPARTAMENTO	CAPITAL	REGIÓN NATURAL
Antioquia	Villavicencio	Región Orinoquía
Bolívar	Rivacha	Región Caribe
Cundinamarca	Bogotá	Región Andina
Guaviare	Puerto Carpio	Región Orinoquía
Magdalena	Montañita	Región Caribe
Santander	Bucaramanga	Región Andina
Valle del Cauca	Pasto	Región Andina
Veraguas	Leticia	Región Pacífica
Chocó	Neiva	Región Amazonica
Caquetá	Sincelejo	Región Caribe
Meta	Tunga	Región Caribe
del Cauca	Calí	Región Andina
Quindío	Medellín	Región Pacífica
Antioquia	Arauca	Región Andina
Boyacá	Quibdó	Región Orinoquía
de Santander	San José de Cucuta	Región Pacífica
Cundinamarca	Barranquilla	Región Andina
Magdalena	Yopal	Región Caribe
Santander	Manizales	Región Andina
Valle del Cauca	Ibague	Región Andina
Antioquia	Cartagena de Indias	Región Andina
Magdalena	Mocoa	Región Andina
Valle del Cauca	Inírida	Región Orinoquía
Antioquia	Valledupar	Región Caribe

¿Cuál es la región más húmeda de Colombia?

Región Amazonía Región Pacífica

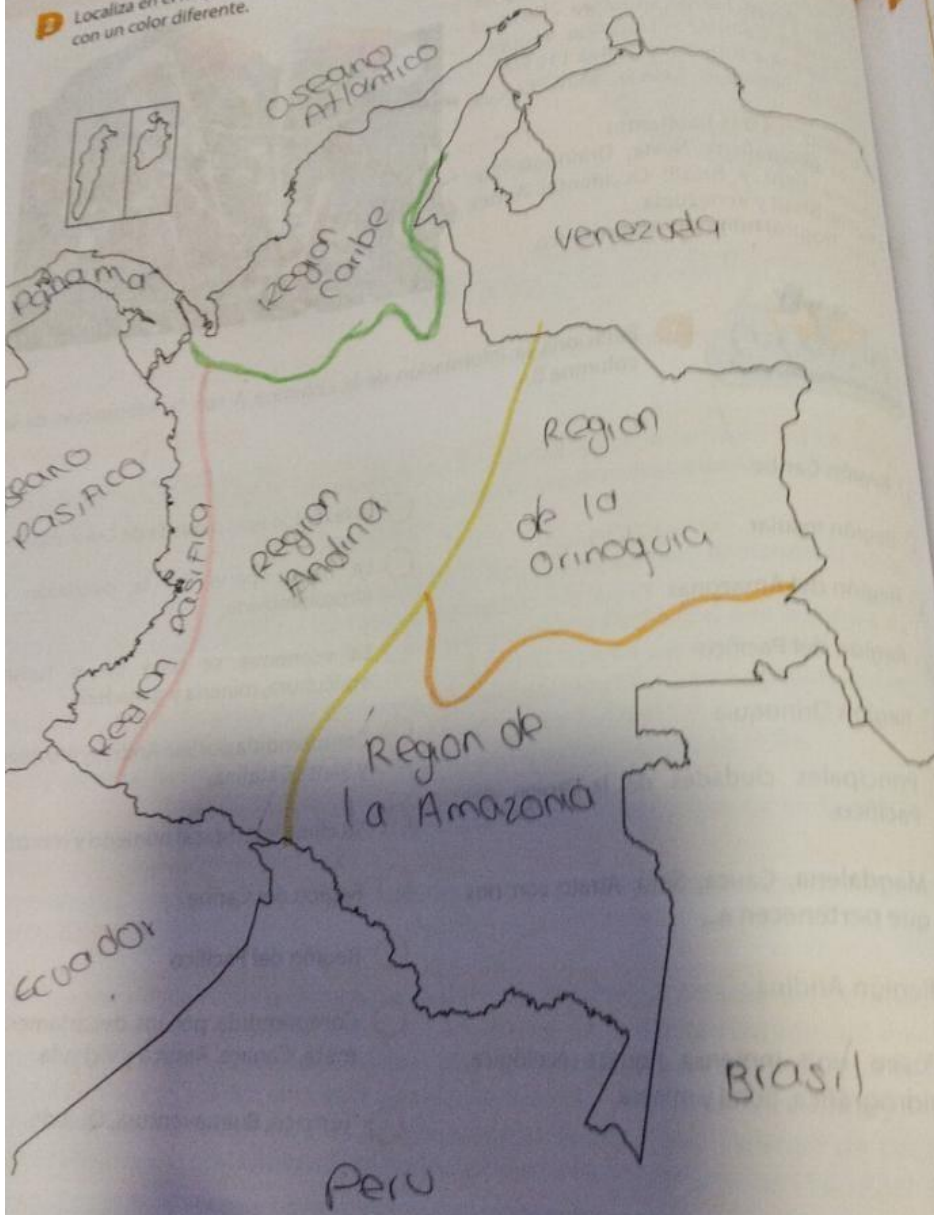
Región Andina Región Caribe

¿Cuál es la región más poblada de Colombia?

Región Amazonía Región Pacífica

Región Andina Región Caribe

B Localiza en el mapa las regiones naturales de Colombia, escribe sus nombres y colorea cada una con un color diferente.



D Completa el siguiente

DEPARTAMENTOS

- Meta
- Guajira
- Cundinamarca
- Vichada
- Córdoba
- Santander
- Nariño
- Amazonas
- Hulla
- Sucre
- Boyacá
- Valle del Cau
- Antioquia
- Arauca
- Chocó
- Norte de S
- Atlántico
- Casanare
- Caldas
- Tolima
- Bolívar
- Putum
- Guain
- Cesar

A ¿Cuál
 a
 b
B ¿C



Relaciona la información de la Columna A con la información de la columna B.

- a Región Caribe
 - b Región insular
 - c Región del Amazonas
 - d Región del Pacífico
 - e Región Orinoquía
 - f Principales ciudades de la región del Pacífico.
 - g Magdalena, Cauca, Sinú, Atrato son ríos que pertenecen a...
 - h Región Andina
 - i Posee una inmensa riqueza ecológica, hidrológica, floral y minera.
- Es la región más poblada de Colombia
 - La mayor parte de la población es afrocolombiana.
 - La economía se basa en el turismo, agricultura, minería y ganadería.
 - Compreendida por San Andrés y Providencia y Santa Catalina.
 - Su clima es tropical húmedo y monzónico.
 - Región del Caribe
 - Región del Pacífico
 - Compreendida por los departamentos del meta, Canare, Arauca y Vichada.
 - Tumaco, Buenaventura, Quibdó.