


... y ubica de acuerdo a la clave.
Los cinco departamentos con mayor población.
Los cinco departamentos con menor población.



3 Relaciona la imagen con el componente correspondiente.



Pueblos ind

Afrocolo

Re

4 A partir de la gráfica, es posible señalar el consolidado por la población por



PATC
 Los Pat
 7,110 vi
 4:15
 16°C Muy n

Observa el mapa de Colombia y colorea los departamentos con más población indígena y ubica las cuatro principales ciudades donde se encuentra buena parte de la población colombiana.


Sociales

4% de
 ianos,
 lades
 idad
 rcos,
 nas,
 tes
 ros




POBLACIÓN COLOMBIANA

La población colombiana está conformada por un 58% de mestizos, 11% de mulatos (mezcla de blancos y negros), 20% de blancos, 4% de afrocolombianos y 7% de indígenas y un 3% de otras etnias. Se conservan algunas comunidades de tribus indígenas sin mezcla, en el Pacífico y gran parte de careguajes, cuibas, emberás, guajiros, nasa, quillacingas, tunebos y yaguas, que habitan algunas zonas del país. Infortunadamente, algunos de estos grupos están desapareciendo.



Crecimiento de la población colombiana



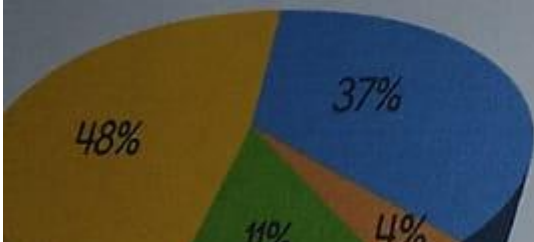
1 Observa el siguiente gráfico poblacional y organízalo según la población de Colombia, coloreando y organizándolo con el color correspondiente.

74% /

MESTIZOS

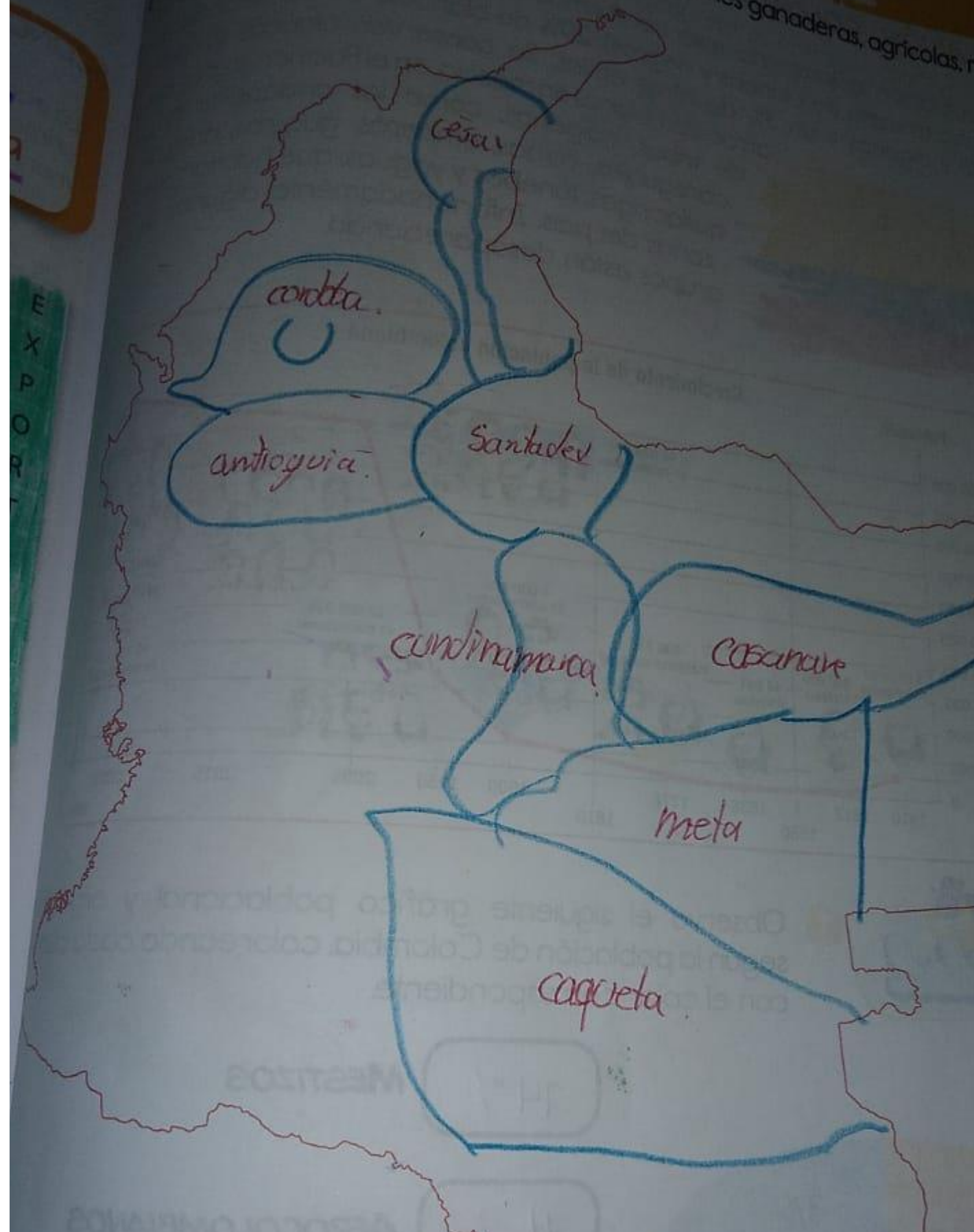
4% /

AFROCOLOMBIANOS



... en em...
... industriales.

... las principales regiones ganaderas, agrícolas, r...



Busca las siguientes palabras en la sopa de letras.

Economía


Exportación

Cultivo

Producción

Consumo

Agricultura



ECONOMÍA Y POBLACIÓN COLOMBIANA

La economía colombiana se basa, fundamentalmente, en la producción de bienes de consumo para el mercado interno. Una de las actividades económicas más tradicionales es el cultivo de café, siendo uno de los mayores exportadores mundiales de este producto; ha sido parte central de la economía de Colombia desde principios del siglo XX y le ha valido reconocimiento internacional gracias a la calidad del grano; sin embargo, su importancia y su producción han disminuido significativamente en los últimos años.



1 Escribe el nombre según corresponda y observa:

Agricultura
Caprino

Ganadería
Avicultura

Porcicultura
Acuicultura

