

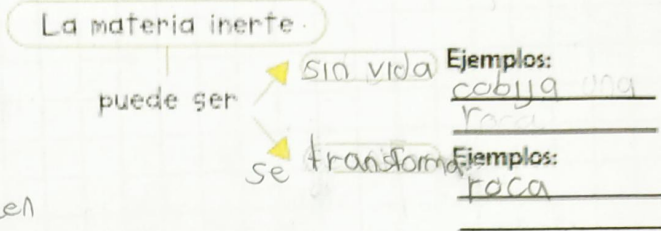
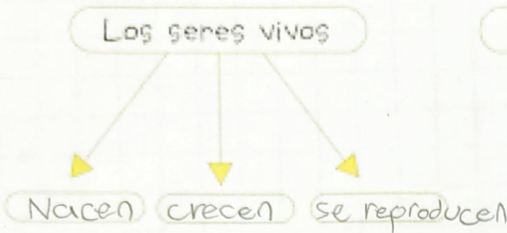
Nombre: Hanna Isabella Ortiz Lopez Fecha: 15-02-2021

Ficha de repaso de C. del Medio

LOS SERES VIVOS

1. Completa el siguiente esquema de los **seres vivos** y la **materia inerte**:

CARACTERÍSTICAS




2. Escribe si se trata de un **ser vivo** o **materia inerte**:



a) ser vivo



b) ser vivo



c) ser inerte



d) ser inerte

3. Completa el esquema escribiendo las **3 funciones vitales**. Después indica la función vital que corresponde a cada dibujo.

Las funciones vitales



4. Escribe si las siguientes oraciones son verdaderas (V) o falsas (F).

Después, corrige las oraciones falsas para que sean verdaderas.

- F *Un ser vivo puede ser natural o artificial.*
- V *Los animales y las plantas son seres vivos.*
- F *La materia inerte nace, crece y muere.*
- V *Una piedra es materia inerte.*

Elaborado por Joaquín G.H.

→ Un ser vivo puede ser natural o inerte
 → la materia inerte no nace, no crece, no muere