

MODULO ENTREGA

Sociales

SE LOCALIZA

Posición geográfica	Posición astronómica
Limita al Norte: <u>Océano Atlántico</u>	Norte: <u>12° 26' 46" N</u>
Sur: <u>Océano Atlántico</u>	Sur: <u>4° 12' 30" S</u>
Oriente: <u>Brazil</u>	Oriente: <u>60° 50' 54" O</u>
Occidente: <u>Océano Pacífico</u>	Occidente: <u>79° 02' 33" O</u>

1 Completa el crucigrama.

VERTICAL	HORIZONTAL
1. Capital del Chocó ✓	3. Capital de Norte de Santander ✓
2. Capital del Cauca ✓	4. Capital de Nariño ✓
3. Capital de Amazonas ✓	5. Capital de Casanare ✓
4. Capital de Bolívar ✓	6. Capital de Córdoba ✓
5. Capital de Antioquia ✓	7. Capital de Cundinamarca ✓
6. Capital de la Guajira ✓	8. Capital del Cesar ✓
7. Capital de Guainía ✓	9. Capital de Cundinamarca ✓
8. Capital de Vaupés ✓	10. Capital del Atlántico ✓
9. Capital de Caquetá ✓	11. Capital del Valle del Cauca ✓
10. Capital de Risaralda ✓	12. Capital de Meta ✓
11. Capital de Boyacá ✓	13. Capital de Sucre ✓
12. Capital de Tolima ✓	14. Capital de Magdalena ✓
13. Capital de Putumayo ✓	15. Capital de Caldas ✓
	16. Capital de Santander ✓
	17. Capital del Huila ✓
	18. Capital de Arauca ✓

1. Escribe el nombre de cinco departamentos y sus capitales. Luego, ubícalos en el mapa.

amazonas, leticia
guayana, noacha
antioquia, medellin
nariño, pasto
vichada, pto. maida

2. Ubica y escribe el nombre del lugar donde vives.

3. Localiza y colorea dos distritos especiales. Escribe sus nombres.

4. Consulta la ubicación de dos territorios indígenas y colóralos con verde.



5. ¿Cómo se llama el país donde vives?

Colombia

6. ¿Cuál es el departamento donde vives?

Cundinamarca

7. ¿Cuál es el municipio donde vives?

Ciudad

8. ¿Qué es un municipio?

división territorial administrativa que se organiza en un estado que esta dirigida por un ayuntamiento

9. ¿Qué es un departamento?

departamento es un tipo de entidad subnacional superior a la de un municipio

10. Escribe el nombre de cuatro departamentos según las indicaciones.

11. Ubica los departamentos que dan salida al Mar Caribe:

- a. atlántico
- b. cesar
- c. bolívar
- d. cordoba

12. Ubica los departamentos que dan salida al mar del norte con ningún país:

- a. cundinamarca
- b. boyacá
- c. ibagué
- d. meta

13. Ubica los departamentos que dan salida al océano pacífico:



- a. nariño
- b. choco
- c. Cauca
- d. valle Cauca

Sociales

TERRAS DE COMUNIDADES NEGRAS

1 ¿Cuántas tierras de comunidades negras existen en Colombia? Nómbralas.

271 Comunidades negras las cuales son: afrocolombianas, raizales, y palenqueñas.

2 ¿Qué son los territorios colectivos? Explica su importancia.


Los territorios colectivos en el país son figuras legales mediante las cuales se le reconocen la literatura de tierras a pueblos indígenas, comunidades negras y campesinas bajo la forma de los resguardos indígenas, tierras de comunidades gringas y zonas de reserva campesina, respectivamente.

119

PISOS TÉRMICOS

Los pisos térmicos son zonas que tienen una característica climática diferente, como la altitud, la temperatura, el brillo solar y el viento. Los pisos térmicos son: frío, templado, frío páramo y nieve perpetua.

1 Escribe el nombre a cada piso térmico y los metros de cada uno.



Piso Térmico	Altitud (mts)	Temperatura (°C)
Glacial	4.700	-
Paramo	3.000	10°C
Frio	2.000	10°C - 17°C
Templado	1.000	17°C - 22°C
Calido	0	24°C

3 Marca con una equis (X) la respuesta correcta.

Si Tocoma en Cundinamarca se encuentra a 400 m.s.n.m, el piso térmico en que se encuentra ubicado es:

Frío
 Páramo
 Templado
 Calido

121

El pueblo cundinamarqués Villagómez se encuentra a 1575 m.s.n.m. ¿En qué piso térmico se encuentra?

Páramo Frio
 Templado Cálido

Aldana, un pueblo de Nariño se encuentra a 3.013 m.s.n.m. ¿Cuál es el piso térmico que se encuentra?


Páramo Frio
 Templado Cálido

Responde Falso (F) o Verdadero (V) según corresponda.
 En Colombia se presentan las cuatro estaciones: primavera, verano, otoño e invierno. F
 Colombia recibe la misma intensidad de luz a lo largo del año. V
 Colombia presenta dos temporadas climáticas: Una lluviosa y una estación seca. V
 La diversidad de la flora y fauna en Colombia, se debe a los pisos térmicos y a los factores del clima. V
 El país cuenta con un relieve diverso compuesto por llanuras, zonas montañosas, valles, depresiones, entre otras formas del relieve. V

Relaciona cada piso térmico con los productos que se cosechan en cada uno.

a Páramo b Frio c Templado d Cálido

d Mango b Maíz d Café b Arveja
 c Yuca d Cacao b Curuba c Tomate d Arroz
 b Brevia b Lechuga c Naranja d Mandarina
 b Papa d Plátano
 d Algodón



122

El relieve de nuestro país se caracteriza por tener climas a lo largo de todo el año.

La ciudad que tiene esta característica es:

Sabana de Bogotá Pasto
 Cartagena Medellín

El cambio de clima en Colombia se debe a:

La ubicación en el planeta.
 La cantidad de rayos solares que recibe.
 Tiene alturas diferentes.
 Está ubicada en Latinoamérica.

Colombia tiene una gran variedad de climas, desde el más frío hasta el más caliente. Gracias a su diversidad geográfica, en el páramo de Sumapaz crecen plantas y animales específicos para la zona.

De acuerdo al texto las plantas y animales de la zona se adaptan a:

Desierto Calor
 Frio Sabana

Las ventajas por tener una variedad de clima es:

Tener montañas.
 Poseer varios climas.
 La gran variedad de productos agrícolas.
 Tener gran población.

Lee el texto y escribe las ventajas y desventajas.

Colombia gracias a su posición geográfica en el mundo y por la gran cordillera de los Andes que pasa a lo largo y ancho del país, presenta todo tipo de clima: desde los más tropicales y cálidos hasta los más fríos. Es por esto que existe mucha diversidad en cuanto a la flora y la fauna.

Ventajas	Desventajas
<p>Tener una gran diversidad de productos agrícolas por tener diferentes climas. Tener muchas disponibilidades de agua en climas fríos. Cuando vamos a pisar un clima de calor podemos sufrir.</p>	<p>que al tener montañas hay derrumbes las carreteras son muy delicadas de hacer cuando llueve mucho se derrumban las casas.</p>

127



1 Escribe a cuál etapa del proceso productivo corresponden las situaciones siguientes.

2 Las personas disfrutan del agua y la electricidad que llega a sus hogares.
Sector terciario

El algodón es utilizado para la elaboración de telas.
Sector secundario

Los empresarios contratan tractomulas para transportar sus productos.
Sector terciario

¿A qué sector de la economía corresponden las siguientes imágenes? Escribe tus respuestas.

Primario porque le hace ningún y cuidarlo

Sector terciario porque se refiere a la prestación de servicios

3 Julián se levantó esta mañana y observó por la ventana una neblina espesa, estaba haciendo mucho frío y el viento soplabá fuerte. Julián se encontraba en el piso térmico:

Frio
 Templado
 Páramo
 Nieves perpetuas

4 Une con una línea según cada piso térmico con los productos que se cosechan:

Yuca, maíz, plátano, patilla	Frio
Tomate, manzana, café, fresa, naranja	Cálido
Papa, maíz, cebolla, mora, zanahoria	Templado
Habas, quinua, trigo	Páramo

Construye una maqueta con los pisos térmicos.

¿Qué necesito?

- Un cono grande de hilo o lana de cartón o plástico vacía.
- Un pedazo de cartón paja de 20 cm. X 20 cm.
- Vinilo verde, blanco y azul.
- Pincel.
- Silicona y pistola de silicona.
- Colbón.
- Plastilina.

¿Qué hago?

- Con la ayuda de un adulto pega el cono al pedazo de cartón paja, si es de cartón utiliza el colbón, si es de plástico utiliza la pistola de silicona. Espera a que seque bien.
- Colorea el cono con vinilo verde, al igual que la llanura sobre el cartón paja y deja un espacio para pintar con el vinilo azul el mar.
- Con la plastilina blanca forra la punta del cono para crear el piso térmico de nieves permanentes.
- Empieza a modelar frutas, vegetales, cereales, entre otros productos que se cultiven en los pisos térmicos, utilizando la plastilina.
- Pega cada uno de estos productos a lo largo de la montaña, de acuerdo al piso térmico que correspondan.
- Prepara una exposición sobre el tema y ¡Sorprende a la clase!

EN-FORGASA

124

Sociales

El clima de nuestro país se caracteriza por tener climas a lo largo de todo el año.

1. La ciudad que tiene esta característica es:

Sabana de Bogotá Pasto

Cartagena Medellín

2. El cambio de clima en Colombia se debe a:

La ubicación en el planeta.

La cantidad de rayos solares que recibe.

Tener alturas diferentes.

Está ubicada en Latinoamérica.

3. Colombia tiene una gran variedad de climas, desde el más frío hasta el más caliente. Gracias a su diversidad geográfica, en el páramo de Sumapaz crecen plantas y animales específicos para la zona.

4. De acuerdo al texto las plantas y animales de la zona se adaptan al:

Desierto Calor

Frío Sabana

5. Las ventajas por tener una variedad de clima es:

Tener montañas.

Poner varios climas.

La gran variedad de productos agrícolas.

Tener gran población.

6. Lee el texto y escribe las ventajas y desventajas.

Colombia gracias a su posición geográfica en el mundo y por la gran cordillera de los Andes que pasa a lo largo y ancho del país, presenta todo tipo de clima, desde los más tropicales y cálidos hasta los más fríos. Es por esto que existe mucha diversidad en cuanto a la flora y la fauna.

Ventajas	Desventajas
<p>1. Tener más diversidad por tener diferentes climas.</p> <p>2. Tener muchas disponibilidades de agua.</p> <p>3. En climas fríos cuando llueve mucho se derumban las casas.</p> <p>4. En climas de calor podemos tener...</p>	<p>que al tener montañas hay derumbes las casitas son más delicadas de hacer cuando llueve mucho se derumban las casas</p>

Sociales

Consulta el nombre de una empresa de cada sector económico, que funcione en tu departamento, y elabora un cuadro comparativo como el siguiente.

Sector	Nombre de la empresa	Producto	Beneficios para el departamento
primario	Prolesprimas	Flores	Paga impuestos Genera empleo Produce flores
secundario	dermotal	dermados de hiera	Paga impuestos genera empleo elabora productos
terciario	distifarmasante	Comercialización de productos farmacéuticos	genera empleo paga impuestos servicio de farmacéuticos

7. ¿Qué importancia tiene la producción agrícola en Colombia?

pertenece al sector primario y es de importancia ya que es la encargada de darnos los alimentos

8. Explica las características de la ganadería colombiana.

la ganadería en Colombia es extensiva y poco mecanizada aparte de eso genera un renglón importante debido que el colombiano consume mucho a diario

En el siguiente cuadro escribe las características del sector primario en Colombia.

Actividad del sector	Principales productos	Importancia para el país
Primario	alimentos naturales (caña, arroz, etc)	muchísima es la fuente de comida
Secundario	lacteos Calzado y vestido	Vestirse genera un tanto empleo y proceso manufacturero
Terciario	Restación de servicios	bancos, empresas encargadas de la exportación de productos

¿Qué actividades desarrollan las empresas del sector terciario en Colombia?

Restación de servicios como agua, luz, telefonía y servicios de recreación, además de bancos que nos prestan el servicio del manejo del dinero y las finanzas.

Describe las principales actividades del sector primario de tu departamento, haciendo énfasis destacando el producto de mayor importancia y los beneficios que aporta al propio departamento y al país.

Elige un cuadro de las industrias más representativas para la economía de tu departamento y escribe una breve reseña de cada una. En tu cuaderno.

¿Cómo crees que actuaba la Iglesia católica de esa época ante las creencias de indígenas y esclavos?

los convertía a la religión con su fuerza obligándoles y matándoles

¿Cómo crees que actuaría la Iglesia católica hoy? y ¿por qué?

sería más humana y respetuosa y se ofrecería la religión de una manera más tranquila sin obligarlos

Encuentra las palabras en la sopa de letras.

PAGAÑOS - CATÓLICOS - RITUALES - TRIBUNAL - IGLÉSIA - INDÍGENAS

P	A	G	A	N	O	S	C	Ñ	Y	H	Y	I
U	J	K	I	U	J	H	N	B	G	F	V	G
B	G	H	N	M	J	G	T	Y	H	J	B	L
T	R	I	B	U	N	A	L	N	M	J	H	E
B	G	H	N	B	N	H	M	J	M	J	M	S
B	G	H	N	M	J	G	H	B	N	Y	E	I
W	S	X	C	D	F	R	T	G	F	H	B	A
Y	F	G	B	C	X	S	D	C	S	B	G	B
S	A	N	E	G	I	D	N	I	E	M	J	H
N	N	H	G	B	V	F	C	P	L	O	P	K
J	N	H	G	B	T	R	F	G	A	N	H	J
M	H	T	R	T	F	G	V	B	U	B	G	H
B	V	C	X	Z	C	V	Y	I	T	K	O	L
M	S	O	C	I	L	O	T	I	H	N	Y	V

Completando el siguiente mapa conceptual.

Sociales

Religión en la época colonial

se caracterizó por

- evangelizar y catequizar a los indígenas
- castigar a los Paganos por sus rituales
- tenían temor de Ciencias y Prácticas Religiosas
- fiestas basadas en la Semana Santa la Navidad Corpus Christi

135

Prueba Saber

La iglesia durante la colonia juega un papel muy importante sobre todo en el aspecto social y de concientización sobre el trato al indígena, en el siglo XVII la principal autoridad eclesástica fue:

- La iglesia durante la colonia juega un papel muy importante sobre todo en el aspecto social y de concientización sobre el trato al indígena, en el siglo XVII la principal autoridad eclesástica fue:
 - A) Luis de Valdivia
 - B) Pedro de Valdivia
 - C) Bartolomé de las Casas
 - D) Tomas Martín de Poveda
- El mestizaje fue un proceso que se desarrolla en toda América y se debe a la mezcla racial entre:
 - A) Blanca y Negro
 - B) Blanca y Mulato
 - C) Indígena y Negro
 - D) Indígena y Blanco
- El periodo histórico posterior a la conquista se conoce como:
 - A) Restauración
 - B) Colonia
 - C) Asentamiento prehispánico
 - D) Independencia
- La principal autoridad residente en América es él:
 - A) Rey
 - B) Virrey
 - C) Gobernador
 - D) Consejo de Indias
- La autoridad encargada del comercio entre España y América (aduana) es:
 - A) Rey
 - B) Gobernador
 - C) Consejo de Indias
 - D) Casa de la contratación

138

Prueba Saber

- La lengua náhuatl tuvo un rol fundamental en la transmisión de la cultura, la cual se transmitió principalmente a través de:
- A) La producción de cerámicas.
 - B) La construcción de iglesias y grandes templos.
 - C) Ninguna de las anteriores.
 - D) La institución encargada de garantizar las prestaciones y servicios de los nobles.
- ¿Qué era la institución encargada de garantizar las prestaciones y servicios de los nobles?
- A) Encomienda.
 - B) Consejo de indias.
 - C) Corregidores.
 - D) Aguadales.
- ¿Quiénes crearon la casa de contratación?
- A) Los aztecos.
 - B) Los indígenas.
 - C) Los reyes católicos.
 - D) Los virreyes.
- ¿Sistema mediante el cual cada comunidad indígena debía suministrar un número determinado de trabajadores?
- A) Cebildo.
 - B) Corregidores.
 - C) Consejo de indias.
 - D) Mita.
- ¿Cuál es la función de la casa de contratación?
- A) Se encargaba de vigilar a los esclavos.
 - B) Brindar orientación a los funcionarios públicos.
 - C) Entregar una cantidad de indios para trabajar las tierras.
 - D) Consistía en controlar y dirigir el comercio en América.

Norma

Prueba Saber

- 1 Persona encargada de dirigir las operaciones militares.
- A) Corregidores.
 - B) Generales.
 - C) Jueces.
 - D) Soldados.

Hoja de respuestas

	1	2	3	4	5	6	7	8	9	10	11
<input type="radio"/>	<input type="radio"/>	<input type="radio"/>	<input type="radio"/>	<input type="radio"/>	<input type="radio"/>	<input type="radio"/>	<input type="radio"/>	<input type="radio"/>	<input type="radio"/>	<input type="radio"/>	<input type="radio"/>
<input type="radio"/>	<input type="radio"/>	<input type="radio"/>	<input type="radio"/>	<input type="radio"/>	<input type="radio"/>	<input type="radio"/>	<input type="radio"/>	<input type="radio"/>	<input type="radio"/>	<input type="radio"/>	<input type="radio"/>
<input type="radio"/>	<input type="radio"/>	<input type="radio"/>	<input type="radio"/>	<input type="radio"/>	<input type="radio"/>	<input type="radio"/>	<input type="radio"/>	<input type="radio"/>	<input type="radio"/>	<input type="radio"/>	<input type="radio"/>
<input type="radio"/>	<input type="radio"/>	<input type="radio"/>	<input type="radio"/>	<input type="radio"/>	<input type="radio"/>	<input type="radio"/>	<input type="radio"/>	<input type="radio"/>	<input type="radio"/>	<input type="radio"/>	<input type="radio"/>

