



1 Escribe el nombre según corresponda y observa:

Agricultura
Caprino

Ganadería
Avicultura

Porcicultura
Acuicultura



agricultora



ganaderia



porcicultor



caprino



acuicultora



avicultura

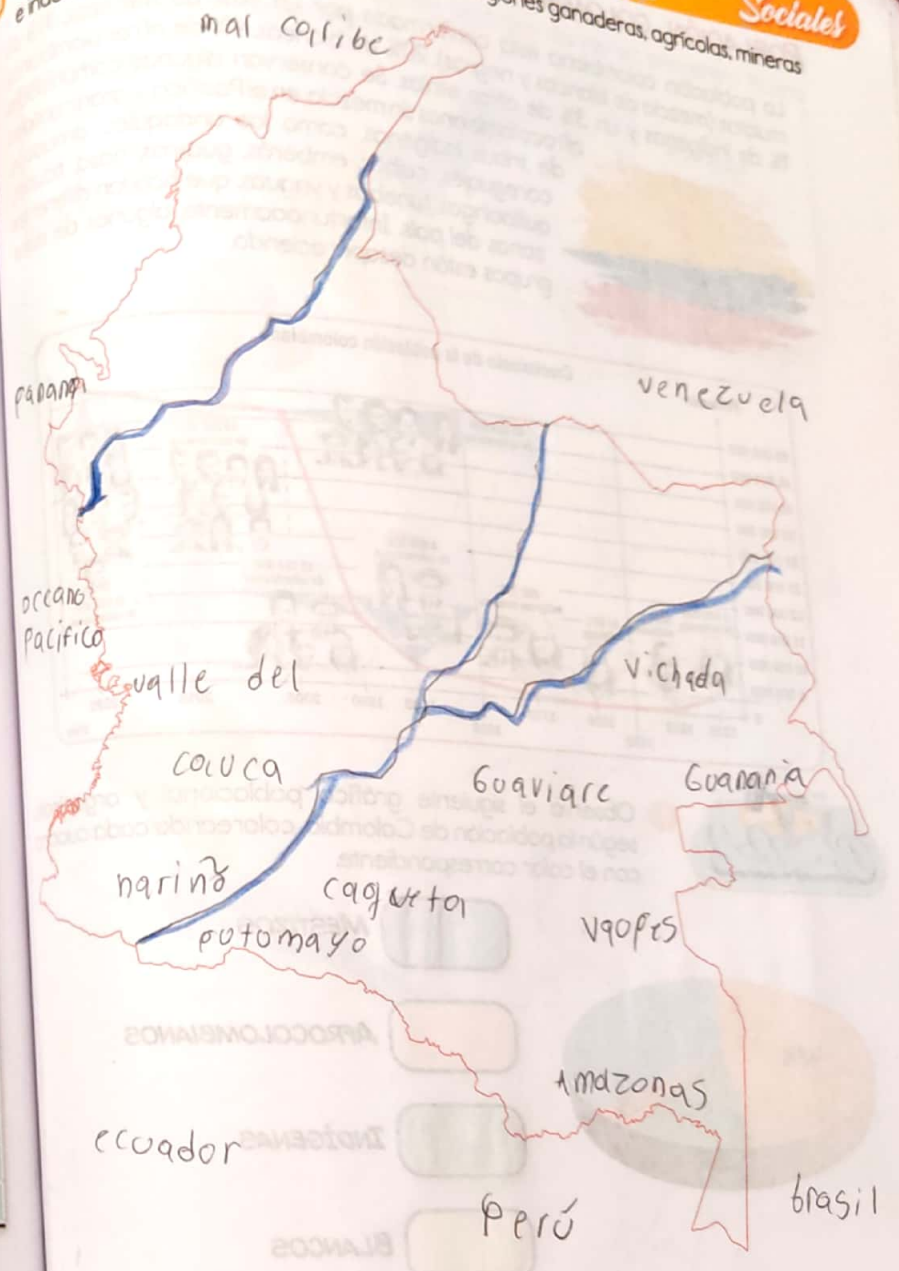
3 Busca las siguientes palabras en la sopa de letras.

- Economía
- Exportación
- Cultivo
- Producción
- Consumo
- Agricultura

A	G	R	I	C	U	L	T	U	R	A	G	H	J	T	Y
G	H	T	R	V	D	Z	V	F	G	T	H	J	K	L	A
H	J	G	T	E	Q	C	V	Z	E	G	K	N	M	Q	A
F	G	T	V	D	Q	A	Z	D	C	G	V	R	H	G	A
Z	G	B	V	R	E	W	U	I	O	F	V	E	Q	A	K
J	K	V	B	F	R	S	Z	D	N	G	H	J	B	N	M
Q	R	T	Y	U	I	O	P	A	O	D	F	G	H	J	L
K	Y	G	V	B	X	C	Q	Z	M	G	T	Y	H	B	B
G	V	O	F	S	W	D	C	V	I	A	Z	X	H	Y	U
J	K	V	K	V	R	D	Y	P	A	G	F	C	X	A	S
K	L	I	G	H	T	R	W	A	D	X	G	H	U	Y	F
L	N	T	G	V	F	R	H	G	Z	H	N	G	R	K	I
H	T	L	G	V	B	R	U	I	L	O	C	X	W	G	Y
C	V	U	R	J	K	B	N	A	I	H	K	L	B	V	D
B	V	C	X	H	Y	U	I	C	Z	H	N	G	R	K	I
K	Y	G	V	B	X	C	C	A	D	X	G	H	U	Y	F
G	H	T	R	V	D	U	C	V	I	A	Z	X	H	Y	U
K	Y	G	V	B	D	S	Z	D	N	G	H	J	O	A	S
A	Z	D	C	O	D	F	G	H	J	L	A	F	M	Q	R
J	T	Y	R	G	V	O	F	S	W	D	C	V	U	W	D
C	G	P	I	H	K	L	B	V	D	E	G	Z	S	K	V
F	B	D	Q	R	T	Y	C	X	Z	S	O	P	N	V	C
H	V	C	X	W	Q	D	F	G	H	T	Q	T	O	J	K
K	T	R	Q	C	X	B	N	G	T	K	Q	A	C	F	G
Z	G	B	V	R	E	W	U	I	O	F	V	E	Q	A	K

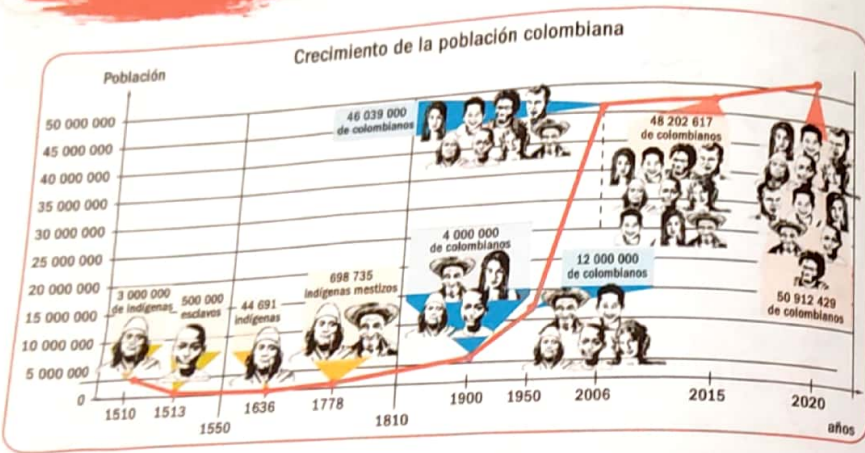
4 Ubica en el mapa de Colombia las principales regiones ganaderas, agrícolas, mineras e industriales.

Sociales



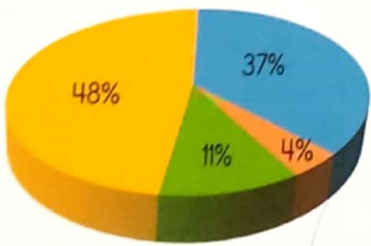
POBLACIÓN COLOMBIANA

La población colombiana está conformada por un 58% de mestizos, 14% de mulatos (mezcla de blancos y negros), 20% de blancos, 4% de afrocolombianos, 1% de indígenas y un 3% de otras etnias. Se conservan algunas comunidades afrocolombianas sin mezcla, en el Pacífico, y gran cantidad de tribus indígenas, como los andaquíes, arhuacos, coreguajes, cuibas, emberás, guajiros, nasa, ticunas, quillacingas, tunebos y yaguas, que habitan diferentes zonas del país. Infortunadamente, algunos de estos grupos están desapareciendo.



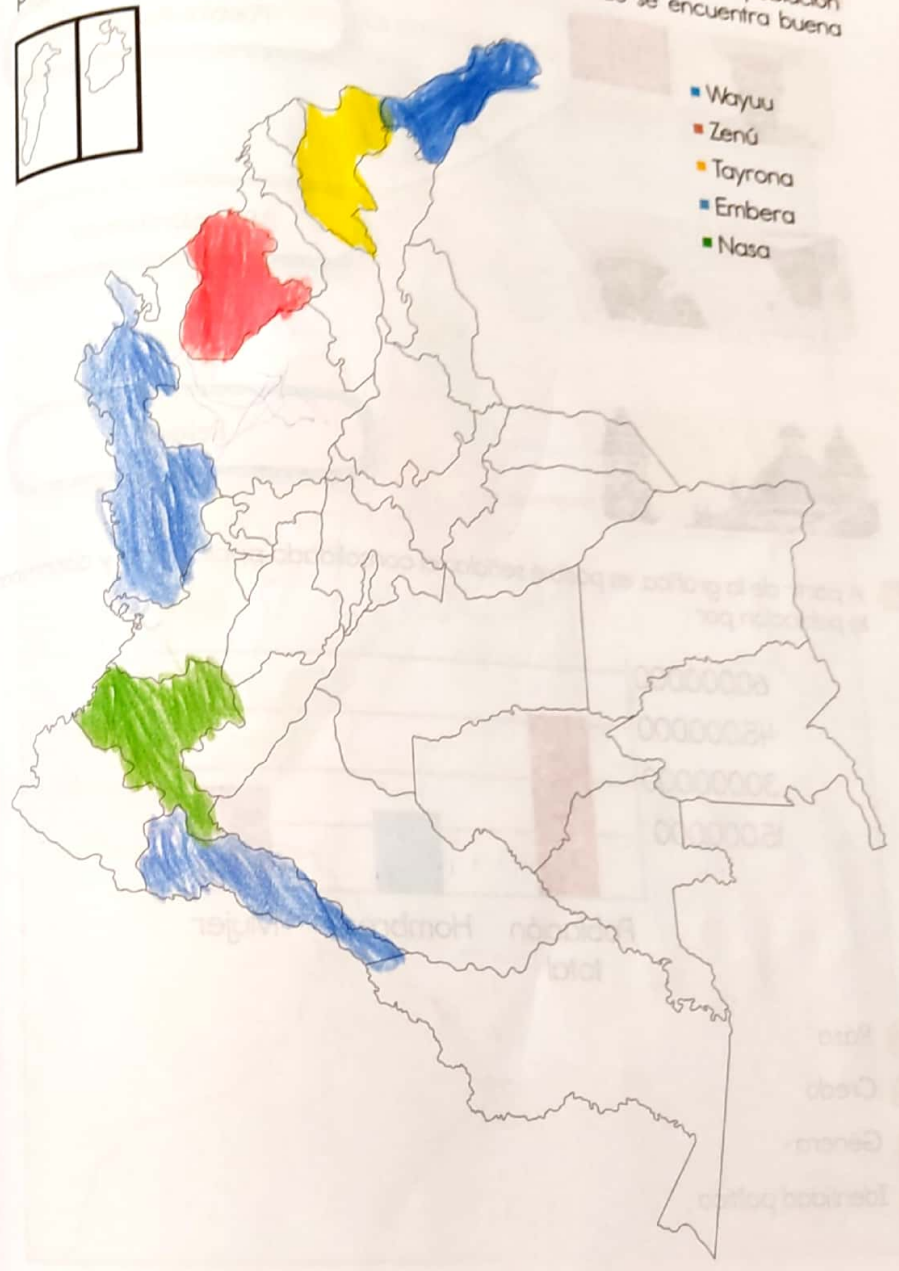
Actividad

1 Observa el siguiente gráfico poblacional y organízalo según la población de Colombia, coloreando cada cuadro con el color correspondiente.



-  MESTIZOS
-  AFROCOLOMBIANOS
-  INDÍGENAS
-  BLANCOS

2 Observa el mapa de Colombia y colorea los departamentos con más población indígena y ubica las cuatro principales ciudades donde se encuentra buena parte de la población colombiana.



3 Relaciona la imagen con el componente correspondiente.



Pueblos indígenas

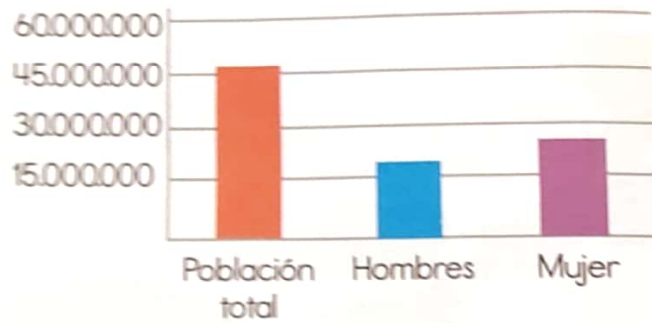


Afrocolombianos




Religión

4 A partir de la gráfica, es posible señalar el consolidado poblacional y discriminar la población por



- a Raza
- b Credo
- c Género
- d Identidad política

Investiga y ubica de acuerdo a la clave.

-  Los cinco departamentos con mayor población.
-  Los cinco departamentos con menor población.

