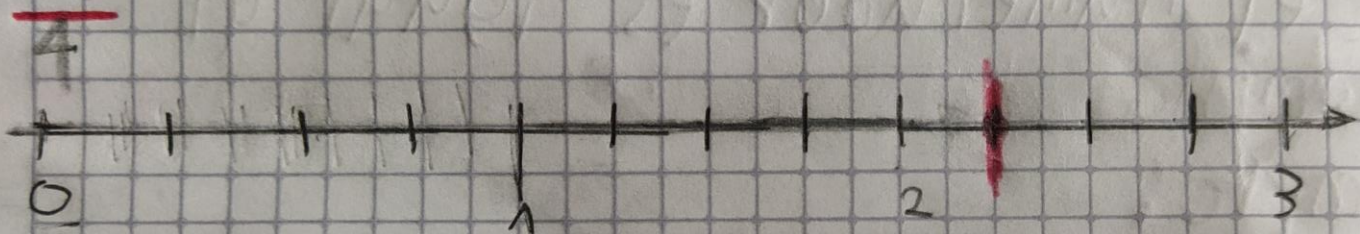


28 de Julio 2021

Quiz



Escribir como se leen, representar gráficamente, representar en la recta numérica y escribir la clase de las siguientes fracciones

$\frac{9}{4}$ Nueve cuartos



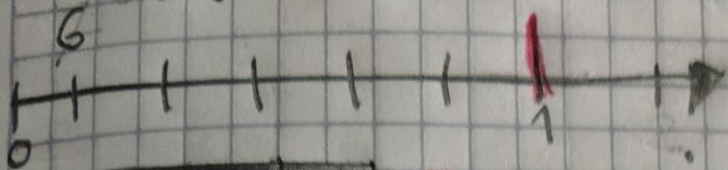
Fracción impropia.

$\frac{5}{7}$ cinco séptimos



Fracción propia.

6 seis sexto.



Fracción
unidad.