


texto combinación br  
 La brisa mueve mi Sombrero  
 A mi abrigo le falta un broche  
 Mi sobrino tiene una cabra  
 Esa pobre hembra pide limosna  
 25 th March 2021

Las combinaciones

Silabas trabadas r, l





24th March, 2021  
Hampstead  
Hove

1. Formar la actividad de la pda 76.

2. Hacer en el cuaderno cinco ejercicios sobre la relación de números.  $( > < )$

## -relación de números

$$\bullet 96 > 54$$

$$\bullet 33 < 90$$

$$\bullet 14 > 8$$

$$\bullet 1 < 10$$

$$\bullet 100 > 81$$

25th March 2021

EJERCICIO.

colocar el signo que  
corresponde

$$45 < 80$$

$$76 > 67$$

$$96 < 100$$

$$200 < 500$$

$$400 > 100$$

DESCOMPOSICIÓN NUMÉRICA

D	U
4	2
8	4
3	8
3	7

42, 84, 38, 37

4 Colorea los números...

Dieciocho

Veinticinco

Cuarenta y cuatro

Setenta y dos

Catorce

25

14

81

44

18

26

52

41

72

5 Con los siguientes dígitos, forma todos los números posibles de dos cifras y escribe como se lee.

1

6


3

- a 16 se lee dieciséis ✓
- b 13 se lee trece ✓
- c 63 se lee sesenta y tres ✓
- d 36 se lee treinta y seis ✓

Cuando hablamos de dar **orden** a los números, debemos tener en cuenta su posición de acuerdo a si es mayor o menor, así:



Observa el siguiente ejercicio:



En el primer cuadro hay 13 tomates, en el segundo 15.  
Entonces podemos decir que el primer cuadro es **menor** que el segundo, así:  
 $13 < 15$  y se lee  
Trece es **menor** que quince



1 Completa el siguiente cuadro:

Número	Mayor o menor que	Número
23	<	35
45	>	21
67	>	46
89	<	17
13	>	49
26	<	37
70	<	10

2 Completa con < o > según corresponda.



6

+



3



5

+



4



8

+



9

3 Completa el ejercicio escribiendo el número anterior y el siguiente propuesto.

33 34 35

4 5 6

45 46 47

6 7 8

56 57 58

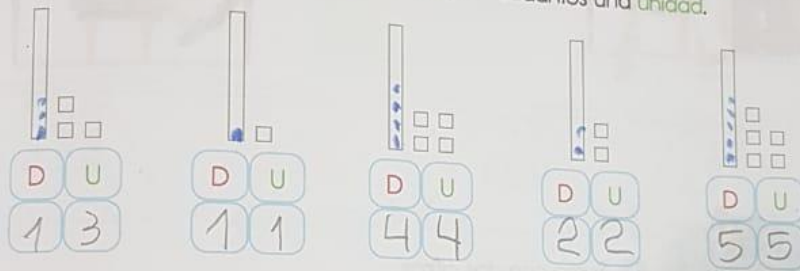
19 20 21



4 Vamos a completar la siguiente tabla, observa el ejemplo y trabaja con tu compañero.

Número	Descomposición	Forma escrita
21	20 + 1	Veintiuno
45	40 + 5	Cuarenta y cinco
38	30 + 8	treinta y ocho
92	90 + 2	noventa y dos
37	30 + 7	treinta y siete
28	20 + 8	
83	80 + 3	
11		

5 Recordemos las tablas de unidades y decenas mediante este ejercicio, recuerda que la barra es una decena y los cuadritos una unidad.



6 Ordena y escribe en las casillas, los números de menor a mayor, con sus respectivas letras. Descubre el nombre de un animal en cada tabla.

A	F	I	J	A	R
59	48	<del>30</del>	<del>29</del>	<del>43</del>	<del>36</del>

J	I	R	A	E	A
29	30	36	43	48	59

R	A	A	U	J	G
96	83	44	59	21	47



