

JUEGO COMPLETADO

Puntuación	Hora
6 / 6	59.6s

Tabla de clasificación

Mostrar respuestas

Volver a empezar

Cambiar plantilla


INTERACTIVOS

-  Cuestionario
-  Juego de concurso
-  Abre la caja
-  Persecución en lab...
-  Rueda del azar
- Mostrar todo



## Razones equivalentes

por Georgina97

 Compartir

 Me gusta  Editar contenido...  Más ▾

Tema

Requiere iniciar sesión


# Razones equivalentes

Me gusta Editar contenido... Mas

Compartir

Atrás


6



En una bolsa por cada 2 manzanas hay 5 uvas. Si en la bolsa van 15 uvas

6 manzanas


5



Por cada taza de arroz hay que colocar 2 de agua. Cuánto arroz necesito si colocaré 6 tazas de agua?

3 tazas de arroz

4



La receta dice que hay que colocar 2 huevos por cada taza de leche. Cuántos huevos necesitaré si usaré 3 tazas de leche?

6 huevos

Mostrar respuestas

6

INTERACTIVOS

Cambiar plantilla

Cuestionario

Juego de concurso

Abre la caja

Persecución en lab...

Rueda del azar

Mostrar todo

## Mostrar respuestas

✓ 6

1



Si en una sala, por cada 2 hombres hay 3 mujeres. ¿Cuántas mujeres habrá si hay 4 hombres?

6 mujeres ✓

2



Si para lograr un color, un artista mezcla 3 partes de rojo y 5 de amarillo. ¿Cuántas partes de amarillo necesitará para 6 de rojo?

10 de amarillo ✓

3



Si una persona recorre 200 metros en 2 minutos. ¿Cuánto demorará en recorrer 100 metros?

1 minuto ✓

La receta dice que

6

Atrás



Cambiar plantilla

INTERACTIVOS

Cuestionario

Juego de concurso

Abre la caja

Persecución en lab...

Rueda del azar

Mostrar todo



## Razones equivalentes

por Georgina97

Compartir

Me gusta Editar contenido... Más

Tema

Requiere iniciar sesión

JUEGO COMPLETADO

Puntuación

Hora

2 / 2

13.2s

ERES EL 2º EN LA TABLA CLASIFICACIÓN

Tabla de clasificación

Mostrar respuestas

Volver a empezar



## Razones

por U26807514

Compartir

Me gusta

Editar contenido...

Más

Tema

Requiere iniciar sesión

Cambiar plantilla

INTERACTIVOS

Questionario

Abre la caja

Persecución en lab...

Anagrama

Mostrar todo


OneDrive



Capturas de pantalla

La captura de pantalla  
tu OneDrive.

buscar



15°C Uruá, 10/03/2025

0:47

2 de 2

El total de marcadores de pizarra que tiene Mateo es 12, tiene 5 que son azules y el resto rojos. ¿Cuál es la razón entre los marcadores rojos y azules?

3/7 B 7/5 B 5/7 B 6/5 B

Razones por UZ6807514

Me gusta Editar contenido Más

Requiere iniciar sesión

- Mostrar todo
- INTERACTIVOS
- Cambiar plantilla
- Cuestionario
- Abrir la caja
- Persección en lab...
- Anagrama



Registrarse

Iniciar Sesión

**El total de alumnos en 6to básico es 16 y hay 10 hombres, ¿Cuál es la razón entre las mujeres y hombres?**

10/6

6/16

**6/10 ✓**

14/16



### Razones

por U26807514

Compartir

Me gusta Editar contenido... Más