



1 Responde falso o verdadero y argumenta tu elección.

El café ha sido el principal producto de exportación de Colombia desde que el país se constituyó en república.

Verdadero ya Colombia es de los mejores exportadores de café desde la época

En tu cuaderno


2 Observa con atención el siguiente cuadro. Luego, responde las preguntas.

Producción cafetera por departamentos 1874-1932 (Miles de sacos de 60 kg)

Departamento	Antioquia	Viejo Caldas	Valle	Cundinamarca	Tolima	Norte de Santander	Santander
1874	1,2	1,3	0,6	8	1	94,3	10
1898	70	20	20	204	26	150	120
1913	185	199	50	200	60	200	105
1925	415	495	50	312	156	233	98
1932	617	1.004	354	405	448	270	150

- ¿Cuáles departamentos eran los mayores productores de café al finalizar el siglo XIX?
- ¿Cuáles eran los mayores productores de café hacia 1932?
- ¿Qué diferencias encuentras entre la producción cafetera de los departamentos de Antioquia y Cundinamarca en los años 1898 y 1913? ¿Qué variaciones hubo entre estos?
- De acuerdo con lo que has aprendido en la unidad, ¿cómo puedes explicar estos cambios en la producción cafetera del país?

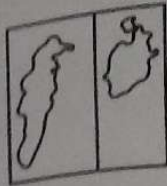
3 Observa la imagen y realiza un resumen sobre la industria textil en Colombia. Consulta diferentes fuentes de ser necesario.



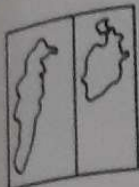
Manufactura

la industria textil es muy importante en el país porque es el principal generador de puestos de trabajo en la

4 En el siguiente m...



En el siguiente mapa, colorea en qué zonas del país se cultiva actualmente café.



el país se

e 60 kg)	
de	Santander
3	10
0	120
0	105
3	98
0	150

el siglo XIX?

mentos de Antioquia
tos?

ar estos cambios en

mbia. Consulta en

til
e
es
ador

Con un ejemplo explica la forma como pueden relacionar el desarrollo de la infraestructura con el desarrollo económico de una región.

Para poder irnos por las
 las de la economía en Colombia
 necesitamos tener buenas estro
 Para que la economía crezca

Investiga y luego responde el siguiente cuadro:

	Antes del terremoto	Después del terremoto	
Disponibilidad de la materia prima (caño, río, entre otros)	En un momento en que hubieron un río a lo largo de la zona, pero ya no quedaba más agua.	Los ríos se secaron. El agua se fue para otros ríos.	Se aplicaron un método de irrigación.
Cantidad de la materia prima	Casos de elevación de los productos.	Se reduce el precio de los productos.	Se hacen más productos.
Calidad de la materia prima	Existen riesgos de calidad.	del producto de la cosecha lo mejor.	El producto de la cosecha.
Cantidad de consumidores a los que se puede vender el producto	Se redujo según la oferta.	se redujo la oferta y el mercado.	se redujo la oferta y el mercado.
Posibilidad para el consumidor de tener varios modelos de opciones	limitado	se redujo la oferta.	se redujo la oferta.

REGIONES GEOGRÁFICAS

Colombia cuenta con 5 regiones naturales y distancia del mar, el promedio de lluvias y las Andina, Caribe, Insular, Pacífica y Orinoquía.

Región del Caribe



Comprende los departamentos Atlántico - Barranquilla, Bolívar - Cartagena, Cesar - Santa Marta, Guajira - Riohacha y Sucre - Sincelejo. La economía se basa en la agricultura, ganadería y turismo. Debido a la diversidad del clima de la región, se encuentran una gran variedad de plantas y animales como el manglar que en la región se encuentran.

La región Andina

Cuenta con una gran diversidad natural y la cordillera de Los Andes. El clima de esta región es cambiante ya que en ella se dan grandes variaciones de altitud, pudiéndose encontrar tres tipos de clima: subtropical y templado. En cuanto a la flora y fauna, presenta una fauna y flora única, como el tigrillo y el monedero en los aspectos de aves y el zorro colorado son los aspectos de mamíferos.

Departamentos de Boyacá - Tunja, Santander - Bucaramanga, Cauca - Pasto, Cundinamarca - Bogotá, Valle del Cauca - Pereira, Tolima - Ibagué.