





1 Observa las siguientes imágenes, responde posteriormente algunas preguntas.



a En términos generales, ¿qué saberes hay detrás de cada imagen?, ¿en qué contextos piensas que fueron construidos estos saberes?

Qué el mundo ha sido creado por dioses o fuerzas sobrenaturales.

En la teoría de la evolución, origen de la tierra.

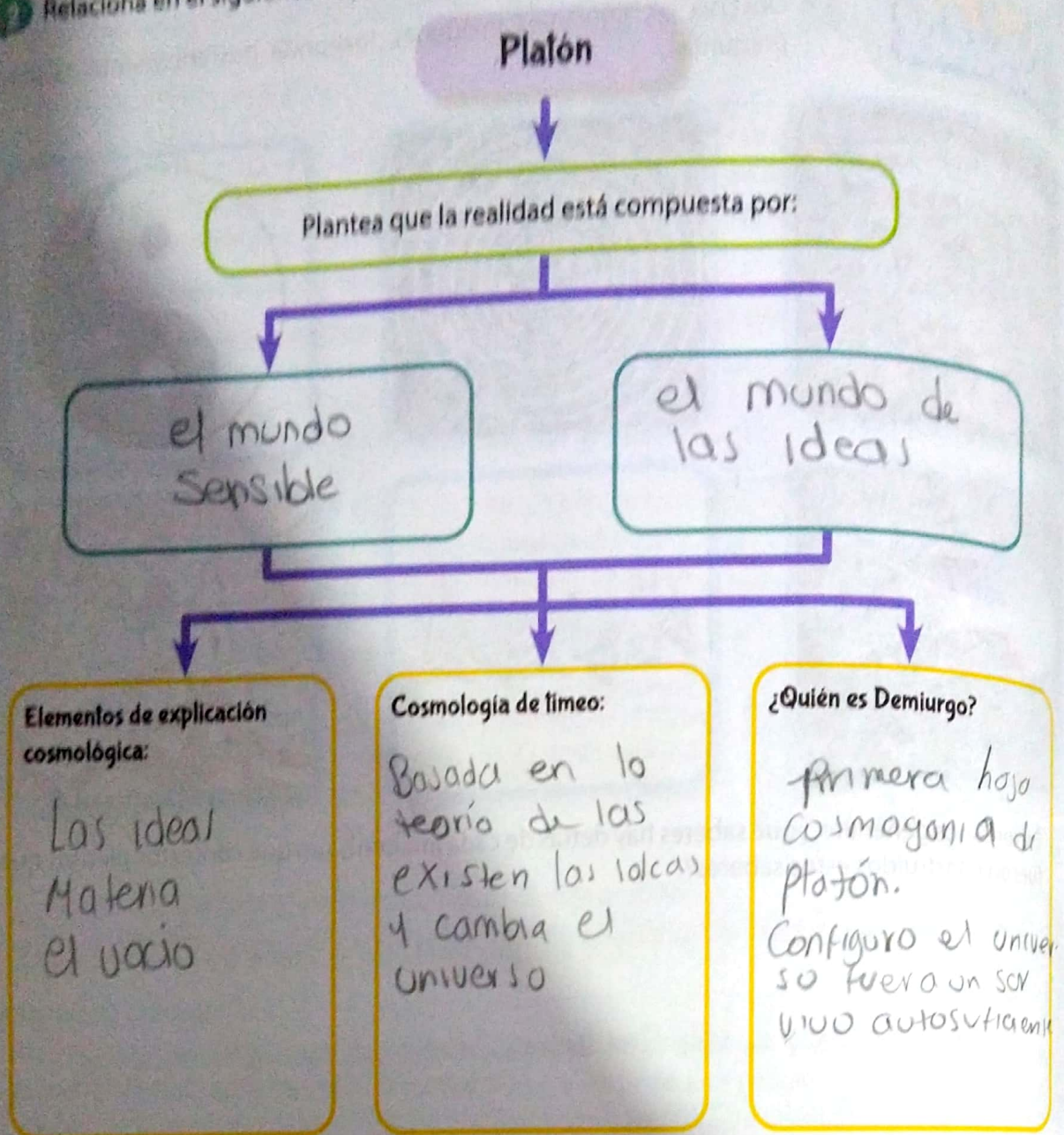
b ¿Todas ellas hacen alusión al cosmos? Argumenta

Si, porque interpreta toda la realidad del cosmos y de la vida.

c ¿Cuál de las imágenes corresponde a una representación científica sobre la evolución del cosmos?

la número cuatro, ya que se ve como se expanden por el universo, y pueden conformar estrellas, galaxias y planetas.

Relaciona en el siguiente esquema gráfico la cosmogonía de Platón



a) ¿Cuál era la posición de Platón frente a las ideas de Demócrito sobre el universo?

b) ¿Crees que entre ciencia (cosmología) y mito (cosmogonía) hay contradicción? Justifica la respuesta.

Si, ya que la cosmología se encarga de estudiar las leyes del mundo, y la cosmogonía se encarga de estudiar la explicación mística.