



Actividad

1 Clasifica la materia de los dibujos colocándolos en la tabla correcta.



Sólidos

panques
árbol
lora rama






Líquidos

valde de agua
café miel

Gaseoso

fetera la nube
el tren

2 Marca en la casilla que corresponda según la característica.

	ESTADO			TIENE		
	Sólido	Líquido	Gaseoso	Olor	Sabor	Color
		X		X	X	X
	X				X	X
	X					X
			X			X
		X		X		X

3 Recorta las definiciones de la siguiente página y pega donde corresponda.

LÍQUIDOS

SÓLIDOS

GASEOSO




No tienen volumen definido y toman la forma del recipiente que los contiene.

Tiene volumen, forma definida, no se pueden comprimir y no fluyen.

Tienen volumen definido pero no forma, adquieren la forma del recipiente, no se comprimen ni tienen dureza.

4 Marca con una X el estado correspondiente.



AGUA

PLANCHA

NUBE

HUESO

ACEITE

Líquido

Líquido

Líquido

Líquido

Líquido

Sólido

Sólido

Sólido

Sólido

Sólido

Gaseoso

Gaseoso

Gaseoso

Gaseoso



Gaseoso

Corta las imágenes de la página anterior y pégalas donde corresponda.

LÍQUIDOS



SÓLIDOS



GASEOSO

