


6 10 2021

Miguel Angel Cifuentes Velasco

1. Escribir la Fraccion correspondiente:



$$\frac{1}{7}$$



$$\frac{12}{20}$$



$$\frac{7}{9}$$

2 Representar gráficamente y escribir como  
 SA (con la siguiente fracción:

1.  $\frac{3}{7}$

$$4.\overline{04}$$

2.  $\frac{5}{12}$


$$5.\overline{04}$$

1. tres séptimos



$$\frac{3}{7}$$

2. cinco doceavos



$$\frac{5}{12}$$

3. cuatro octavos




$$\frac{4}{8}$$

4. cuatro octavos



$$\frac{4}{8}$$

5. tres cuartos



$$\frac{4}{4}$$