

1th March 2021

Scribe

La naturalisa y el

medio fue con radio

Animal*



Framework

1. Buscar en el diccionario a los siguientes palabras.

*Acuatico.

*Terreste.

*Aristar.

Scribe

* Acuático, del latín *aquaticus*, es un adjetivo que califica a aquello vinculado al agua o que vive en ella. Los animales acuáticos son las especies cuya vida se desarrolla en el agua.

* Terrestre: el término terrestre llegó a nuestro idioma procede de *terrestris*, un vocablo de la lengua latina. Se trata de un adjetivo que refiere a aquello vinculado con el planeta tierra o con la tierra como superficie o sea

arrastrar

ALCANTARA

1. Llevar a una persona o cosa por el suelo tirando de ella.
la multitud arrastra.

CARACTERÍSTICAS DE LOS SERES VIVOS Y LOS SERES NO VIVOS



Los seres vivos son aquellos que nacen, crecen, se reproducen y mueren, como por ejemplo, las personas, los animales y las plantas. Los seres vivos necesitan su alimento, aire, luz y un entorno adecuado para sobrevivir.






Los seres no vivos (inertes) son aquellos que no tienen vida, como por ejemplo, las rocas y el agua. Los seres inertes pueden ser naturales, como el aire, o artificiales, como los juguetes.

- 1 Colorea con verde los seres vivos y con amarillo los seres inertes que aparecen en la imagen.



2 Observa atentamente las imágenes y completa la tabla. Responde a las preguntas (Si o No) en los recuadros.

	¿Se reproduce?	¿Muere?	¿Se alimenta?
	Si	Si	Si
	NO	NO	NO
	Si	Si	Si

3 Encuentra tres seres vivos y tres seres inertes. Escribe las palabras en la lista correspondiente.

SERES VIVOS

Niño

Flor

Oso

SERES INERTES


Pelotas

Lopiz

Arena

P	E	L	O	T	A
L	A	P	I	Z	R
I	T	U	Z	R	E
N	I	Ñ	O	B	N
G	W	T	V	O	A
M	W	R	C	S	V
F	L	O	R	O	B

Observa los organismos que se encuentran en la imagen.



Naturales


Menciona el nombre de tres seres vivos que identifiques en la imagen.

- pez
- fibuigen
- mata

Completa el esquema.

LOS SERES VIVOS E INERTES

En la naturaleza distinguimos



7 Observa cómo ocurre la metamorfosis de una mariposa y completa el esquema.



4 Dura en este estado ocho días y comienza a tejer la pupa, esta actividad la realiza en 4 días.



5 Permanece alrededor de 8 días formándose la mariposa, luego rompe la crisálida cuidadosamente para no romper sus alas.



6 La mariposa sale al mundo y vive durante 15 días.

Llega al final de su vida y Se reproduce

Un ser Viviente

Se mueve

Se alimenta para tener crías.

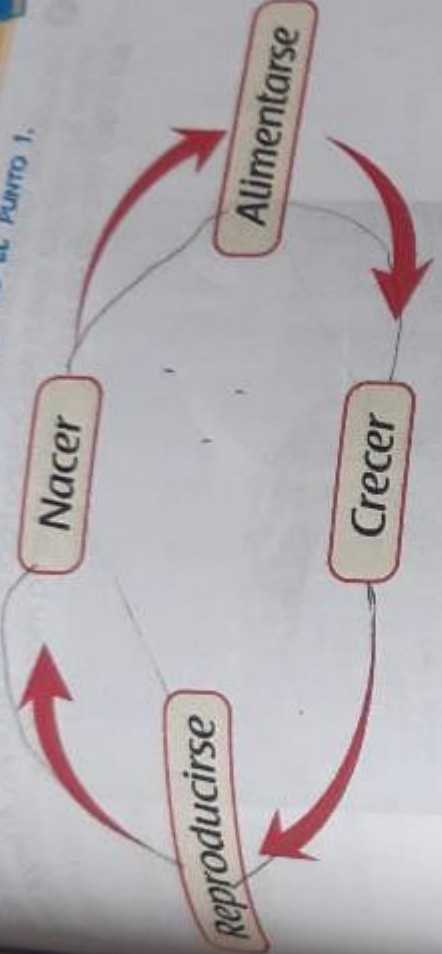
Elimina Desechos

Siente

Se alimenta para tener energía.

Prueba Saber

OBSERVA EL SIGUIENTE DIAGRAMA Y RESPONDE EL PUNTO 1.



1. ¿Cuál de los siguientes seres no tiene las características mostradas?



a



b



c



d

Prueba Saber

- 2 Las ballenas Yubarta atraviesan todos los años cientos de kilómetros el Polo Sur hasta las costas del Océano Pacífico Colombiano. Al volver a sus crías y después de unos meses vuelven a migrar al sur.



Las ballenas viajan a Colombia en busca de:

- a. Aguas profundas para vivir.
- b. Mares y océanos lejos de los cazadores.
- c. Las corrientes marinas.
- d. Aguas cálidas para tener sus crías.

OBSERVA LA SIGUIENTE IMAGEN Y RESPONDE EL PUNTO 3.



Maria afirma que el animal de la imagen no se puede desplazar pues no tiene patas. Pero Antonio dice que si porque se mueve

- a) Trotando.
- b) Volando. ✓
- c) Reptando. ✓
- d) Planeando.

OBSERVA PARA RESPONDER LAS PREGUNTAS 4 Y 5. CADA CUADRO REPRESENTA UN ANIMAL DESCONOCIDO.

1. Se alimenta de plantas

2. Se alimenta de plantas y animales

3. Se alimenta de néctar.

4. ¿Cuál de los animales que están escondidos dentro de las cajas 1, 2 y 3 es un herbívoro?

- a) 1.
- b) 2.
- c) 3.
- d) Ninguno.

5. ¿Qué otra cosa debería comer el animal representado con el número fuera omnívoro?

- a) Nada.
- b) Animales.
- c) Papel.
- d) Ninguna de las anteriores.



COLEGIO PARROQUIAL DEL SANTO CURA DE ARS
 "Por el camino de la exigencia se llegará a la excelencia"

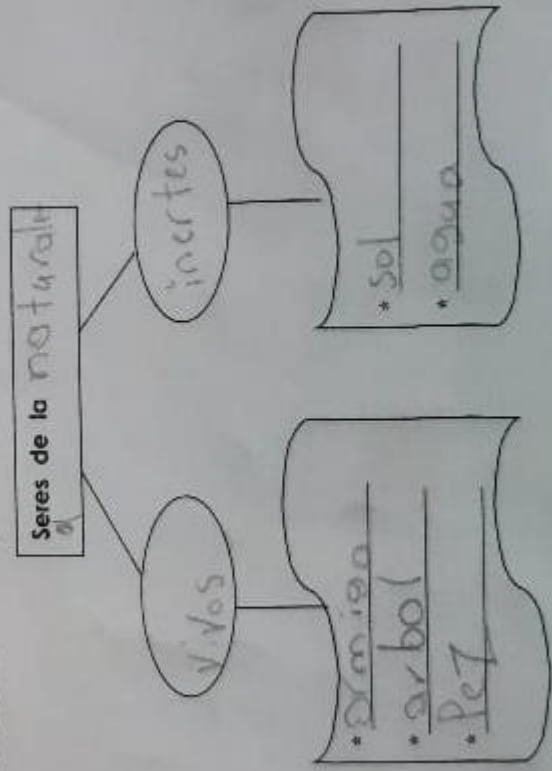
TALLER N° 1
 FECHA: 5 de Abril 2021

LOS SERES DE LA NATURALEZA.

1. Recorta y pega según la característica.

SER INERTE ARTIFICIAL	SER VIVO	SER INERTE NATURAL

2. Completa el esquema.





3. Responder.

a. ¿Qué es metamorfosis?

es el ciclo de vida de los seres vivos naturales y vivos humanos

b. ¿Cuáles son los momentos del ciclo de vida de los seres vivos? Explicalo con un dibujo.



