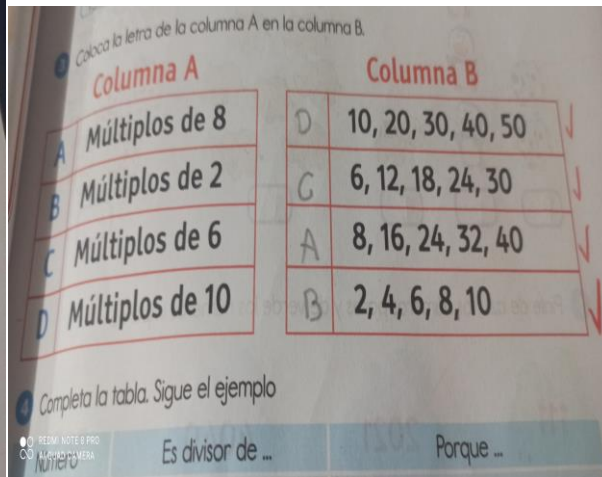
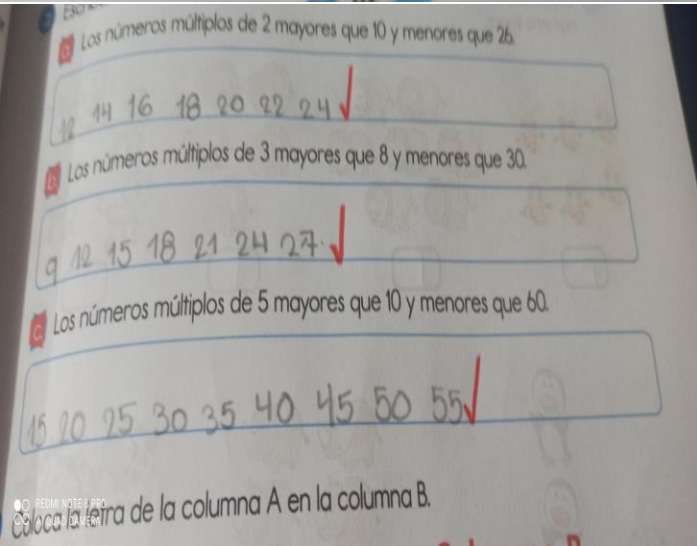
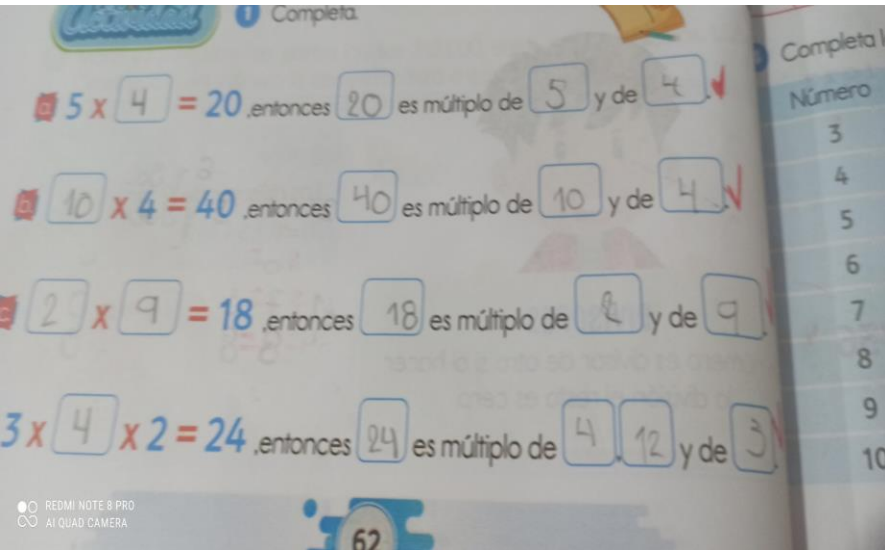


Kevin Andrés Pulido Espinel

Grado:5

24/03/2021

Materia: Matemáticas



5. ¡Conoce a los animales! Escribe dentro del recuadro P si es número par o I si es número impar.

6. Pinte de azul los números pares y de verde los números impares.

Número	Es divisor de ...	Porque ...
3	27	$27 \div 3 = 9$ y sobra 0
4	24	$24 \div 4 = 6$ y sobra 0
5	25	$25 \div 5 = 5$ y sobra 0
6	42	$42 \div 6 = 7$ y sobra 0
7	21	$21 \div 7 = 3$ y sobra 0
	64	$64 \div 8 = 8$ y sobra 0
	81	$81 \div 9 = 9$ y sobra 0
	300	

1. A partir de 2, tacha los múltiplos de 2.
 2. A partir de 3, tacha los múltiplos de 3.
 3. A partir de 5, tacha los múltiplos de 5.
 4. A partir de 7, tacha los múltiplos de 7.
 5. A partir de 11, tacha los múltiplos de 11.

1	2	3	4	5	6	7	8	9
11	12	13	14	15	16	17	18	19
21	22	23	24	25	26	27	28	29
31	32	33	34	35	36	37	38	39
41	42	43	44	45	46	47	48	49
51	52	53	54	55	56	57	58	59
61	62	63	64	65	66	67	68	69
71	72	73	74	75	76	77	78	79
81	82	83	84	85	86	87	88	89
91	92	93	94	95	96	97	98	99