

Kevin Andrés Pulido Espinel

Materia: Sociales

27/08/2021

Actividad: Modulo

### ECONOMÍA Y POBLACIÓN COLOMBIANA

El desarrollo colombiano se basa, fundamentalmente, en la producción de bienes para la exportación y en la producción de bienes de consumo para el mercado interno. Una de las actividades económicas más tradicionales es el cultivo de café, siendo uno de los mayores exportadores mundiales. Colombia desde principios del siglo XX y le ha venido experimentando un crecimiento internacional gracias a la calidad de sus productos, sin embargo, su importancia y su producción han disminuido significativamente en los últimos años.

1. Escribe el nombre según corresponda y obténlo.

Agricultura  
Caprina



Agricultura

Ganadería  
Avescultura



Ganadería

Piscicultura  
Avescultura



Piscicultura

Ganadería  
Caprina



Ganadería

Piscicultura



Piscicultura

Avescultura



Avescultura

117

Buco las siguientes palabras en la sopa de letras.


Economía
Exportación
Cultivo

Producción
Consumo
Agricultura

A	G	R	I	C	U	L	T	U	R	A	G	H	J	T	V	A	R	
G	H	T	R	V	D	Z	V	F	G	T	G	K	N	M	Q	A	P	
H	J	G	T	E	Q	A	Z	D	C	E	F	V	E	Q	A	K	R	
F	G	T	V	D	Q	A	Z	D	C	E	F	V	E	Q	A	K	R	
Z	G	B	V	R	E	R	S	Z	D	N	O	D	F	G	H	J	L	A
J	K	V	R	E	R	S	Z	D	N	O	D	F	G	H	J	L	A	C
K	R	T	Y	U	I	O	P	A	M	O	G	T	Y	H	B	B	C	I
K	Y	G	V	B	X	C	Q	Z	I	A	Z	X	H	Y	U	I	F	I
G	V	O	F	S	W	D	C	V	I	A	Z	X	H	Y	U	I	F	I
J	K	V	R	E	R	S	Z	D	N	O	D	F	G	H	J	L	A	C
K	L	I	G	H	T	R	W	A	D	X	G	H	U	Y	F	I	L	I
L	N	T	G	V	F	R	H	G	Z	H	N	G	R	K	I	O	T	I
H	T	L	G	V	B	R	U	I	L	O	C	X	W	G	Y	T	I	I
C	V	U	R	J	K	B	N	A	T	H	K	L	B	V	D	E	I	I
B	V	C	X	H	Y	U	I	C	Z	H	N	G	H	U	Y	F	N	I
K	Y	G	V	B	X	C	C	A	D	X	G	H	U	Y	F	N	I	I
G	H	T	R	V	D	U	C	V	I	A	Z	X	H	Y	U	I	F	I
K	Y	G	V	B	D	S	Z	D	N	G	H	J	O	A	S	O	I	I
A	Z	D	C	O	D	F	G	H	J	L	A	F	M	Q	R	T	I	I
J	T	Y	R	G	V	O	F	S	W	D	C	V	U	W	D	C	I	I
C	G	P	I	H	K	L	B	V	D	E	G	Z	S	K	V	R	I	I
F	B	D	Q	R	T	Y	C	X	Z	S	O	P	N	V	C	D	I	I
H	V	C	X	W	Q	D	F	G	H	T	Q	T	O	J	K	L	I	I
K	T	R	Q	C	X	B	N	G	T	K	Q	A	C	F	G	H	I	I
Z	G	B	V	R	E	W	U	I	O	F	V	E	Q	A	X	R	I	I

118


Ubica en el mapa de Colombia las principales regiones ganaderas, agrícolas, mineras e industriales.



- Región Caribe
- Región Andina
- Región Pacífica
- Región Orinoquía
- Región Insular

119

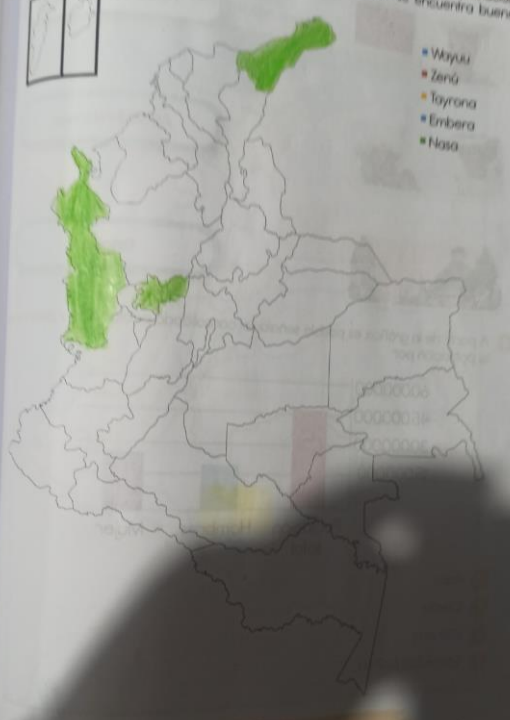
1. Observa el siguiente gráfico poblacional y responde según la población de Colombia, coloreando cada una con el color correspondiente.



<span style="background-color: yellow; border: 1px solid black; padding: 2px;"> </span>	MESTIZOS
<span style="background-color: orange; border: 1px solid black; padding: 2px;"> </span>	AFROCOLOMBIANOS
<span style="background-color: green; border: 1px solid black; padding: 2px;"> </span>	INDÍGENAS
<span style="background-color: blue; border: 1px solid black; padding: 2px;"> </span>	BLANCOS

120

Obtén un mapa de Colombia y colorea los departamentos con más población indígena y ubica las cuatro principales ciudades donde se encuentra buena parte de la población colombiana.



- Wayuu
- Zenú
- Tayrona
- Embera
- Nasa