

PUNTOS CARDINALES

Sociales

- Los Puntos Cardinales son los principales puntos de referencia para ubicarnos en el espacio.
- Son universales, es decir, sirven para orientarse en cualquier lugar del mundo.
- Los puntos son: norte (N), sur (S), este (E) y oeste (O). La rosa de los vientos permite ubicar estos puntos.



Observa la imagen y responde el punto 1



1 Juana trata de orientarse según la posición del sol. Si son las 6 de la tarde, es decir, es el atardecer, señala los puntos cardinales de:

- El pueblo está hacia el Este ✓
- El bosque está hacia el Norte ✓
- La piscina está hacia el sur ✓
- El Sol está hacia el oeste ✓

2 Ubica los cuatro puntos cardinales en la imagen. Ten en cuenta donde está el norte. Lee las oraciones y escribe F si son falsas o V si son verdaderas.



- a. Al norte y al sur de la isla hay montañas. (F) ✓
- b. El lago está en el norte. (V) ✓
- c. El fuerte está en el oriente. (F) ✓
- d. En el occidente hay un bosque y una casa. (F) ✓

de está
aras.

Observa la imagen, completa con los puntos cardinales intermedios y responde.

Sociales



Para el que corresponde a la respuesta correcta.

¿Hacia qué punto cardinal mira el niño que juega tenis?

- Oeste
- Sur
- Norte

¿Dónde se ubica la niña que está mirando a los niños jugar?

- Este
- Norte
- Oeste

¿Hacia qué punto cardinal está el balón de basket?

- Sureste
- Sur
- Este

MAPAS



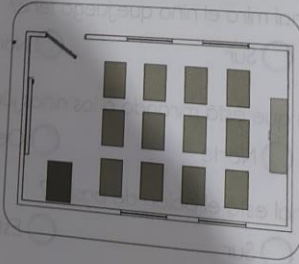
El mapa es una representación de una parte o de la totalidad del planeta en forma plana. ¿Sabías que existen diversos tipos de mapas? Cada uno de ellos entrega un tipo de información determinada.

» ¿CÓMO LEER UN MAPA?

Los mapas tienen siempre ciertos elementos que nos permiten comprender su información. Estos son el título, la rosa de los vientos, la simbología o leyenda y la escala. A continuación aprenderemos a leer este mapa temático de América.



1 ¿Cuál de las siguientes imágenes corresponde a un mapa?



o de
que
ellos

e nos
en, el
da y
este

un

Observa la siguiente imagen y luego contesta las preguntas desde la 2 y 3

Sociales

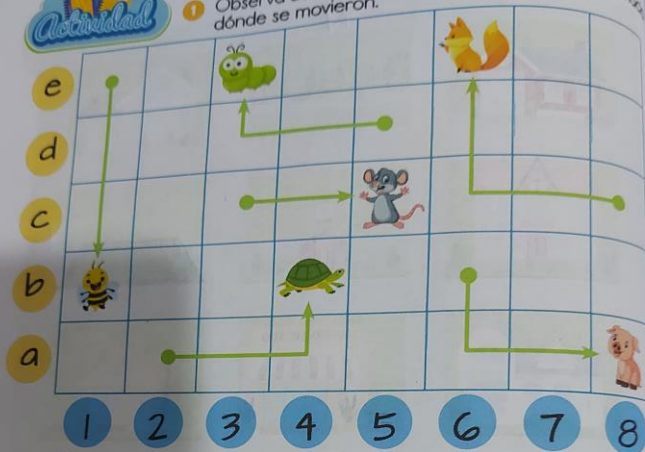








- 1 ¿En qué dirección está el supermercado en relación a la casa Amarilla?
- 1 Al sur. ✗
 - 2 Al oeste. ✓
 - 3 Al norte. ✗
- 2 ¿Cuál es la ubicación de la iglesia?
- 1 Al norte de la plaza. ✗
 - 2 Al sur de la fuente de agua. ✓
 - 3 Al norte de la cancha de fútbol. ✗

POSICIONES DE LATERALIDAD



1 Observa dónde estaban los animalitos y contesta hacia dónde se movieron.



- 1 La  voló 4 cuadros hacia sur.
- 2 El  se arrastró 3 cuadros hacia la oeste y 1 cuadros hacia Norte.
- 3 El  caminó 3 cuadros hacia la este y 1 cuadros hacia Norte.
- 4 El  caminó 3 cuadros hacia la este.
- 5 El  corrió 3 cuadros hacia la oeste y 2 cuadros hacia Norte.
- 6 El  caminó 2 cuadros hacia este y 2 cuadros hacia la sur.