


# Evaluación biología

Grado segundo


Escribe tu nombre completo \*

nicolas salcedo castillo

1. Selecciona la imagen que represente las tres funciones vitales de los seres vivos. \*



Opción 1




Opción 2

2. Observa el ciclo de vida de las plantas y responde: \*



- Las plantas crecen
- Las plantas necesitan de otros para alimentarse
- Las plantas se desplazan

3. Relaciona la imagen con la palabra que corresponde: \*



	a	b	c	d
fruto	<input checked="" type="radio"/>	<input type="radio"/>	<input type="radio"/>	<input type="radio"/>
hoja	<input type="radio"/>	<input type="radio"/>	<input checked="" type="radio"/>	<input type="radio"/>
raiz	<input type="radio"/>	<input checked="" type="radio"/>	<input type="radio"/>	<input type="radio"/>
flor	<input type="radio"/>	<input type="radio"/>	<input type="radio"/>	<input checked="" type="radio"/>

4. Los frutos carnosos son aquellos que están compuestos por abundante agua y sustancia alimenticias como: \*

- Naranja, el melocotón, el mango
- Maní, arándanos y las nueces
- Maní, peras, arándanos, sandía.

5. Los frutos secos son aquellos que tienen poca cantidad de agua, son delgados y se abren al madurar como: \*

- Naranja, el melocotón, el mango
- Maní, arándanos y las nueces
- Maní, peras, arándanos, sandía.

6. Los animales según su alimentación se clasifican en: \*

- Carnívoros, omnívoros y herbívoros.
- Vivíparos y ovíparos
- Vertebrados e invertebrados

7. Según su forma de nacer los animales se clasifican en: \*

- Carnívoros, omnívoros y herbívoros.
- Vivíparos y ovíparos
- Vertebrados e invertebrados

8. Los invertebrados son animales que no poseen esqueleto interno un ejemplo de ellos es: \*



Opción 1



Opción 2

9. El orden correcto de las etapas del ser humano es: \*



- Vejez, adultez, juventud, adolescencia, niñez, infancia
- Infancia, niñez, adolescencia, juventud, adultez, vejez
- Niñez, adolescencia, vejez, juventud, infancia, adultez

10. El cuerpo humano está formado por tres partes: \*

- Tronco, cabeza y brazos.
- Cabeza, tronco, extremidades
- Extremidades, ojos y brazos.

Google no creó ni aprobó este contenido.

Google Formularios