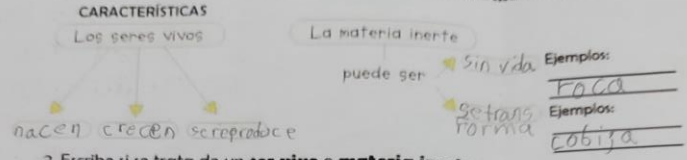




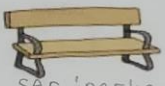

Nombre: Nicolas Cabedo castillo Fecha: 15-2-2021  
**Ficha de repaso de C. del Medio**

**LOS SERES VIVOS**

1. Completa el siguiente esquema de los **seres vivos** y la **materia inerte**:



2. Escribe si se trata de un **ser vivo** o **materia inerte**:

a)  ser vivo      b)  ser vivo      c)  ser inerte      d)  ser inerte

3. Completa el esquema escribiendo las **3 funciones vitales**. Después indica la función vital que corresponde a cada dibujo.



4. Escribe si las siguientes oraciones son verdaderas (V) o falsas (F). Después, corrige las oraciones falsas para que sean verdaderas.

- Un ser vivo puede ser natural o artificial.
- Los animales y las plantas son seres vivos.
- La materia inerte nace, crece y muere.
- Una piedra es materia inerte.

Elaborado por Joaquín G.H.

→ un ser vivo puede ser natural o inerte  
 → La materia no nace no crece no muere