



1 Lee el texto y marca con una X las respuestas correctas.

El río Magdalena nace en la laguna de la Magdalena (Páramo de las Papas) en el límite entre los departamentos de Cauca y Huila. Cerca del municipio de San Agustín se reduce formando el estrecho del Magdalena. Este es un pasaje de gran belleza natural que tiene aproximadamente 1,70 metros de ancho y una profundidad estimada entre 50 a 200 metros.

• De acuerdo con la lectura, el río Magdalena

- Tiene una profundidad desconocida
- Recorre gran parte de los departamentos de Cauca y Huila
- Tiene un valle muy angosto
- Nace en el páramo de las Papas

• De la lectura se deduce que el valle del río Magdalena es

- Extenso
  - Un altiplano
  - Muy angosto
  - Poco profundo
- Ponea razones que justifiquen las siguientes afirmaciones
- Los valles interandinos están atravesados por importantes ríos.

Si por que los rios no pueden salir de su cuenca hidrográfica o discutiendo por valles.

b En el curso de un río es posible identificar varias partes.

Si  
una de ellas es el curso alto  
es la parte más cerca de su  
nacimiento y lleva poca agua

b Entre las cordilleras Oriental y Central se encuentra un río principal de Colombia

es Magdalena y su cordillera es  
los Andes y es la más grande por  
que atraviesa casi toda Sur América

b En la unidad montañosa andina nacen importantes ríos de Colombia.

Son: Magdalena, Cauca, Cauquetá y  
Patía.

Ciudades	Unidad del relieve	Piso térmico	Ríos cercanos
Bogotá	la sabana y el montañoso páramo		Socotá, Tunja, el Salto, Flandes, Cofre, Fucha, Sisla, Siecha, Tibito
Villavicencio	la montañoso y está ubicada en el nororien te y occidente	calido	Guativila, Gualulio, Negrococha
Montería	Plana y con algunas elevaciones	calido o tropical	Sinú, Córdoba, San Jorge, Candilete

4 Observa el mapa físico de Colombia e imagina que vas a realizar un viaje por tierra desde Bogotá-Cundinamarca, hasta el estrecho del río Magdalena

1 ¿Qué cordilleras observarías en el recorrido?

cordillera central, peteña y ría yalda

2 Nombra tres de los ríos principales que verías en tu recorrido

ni los d m d z o n d s, m i s i s i



## ECONOMÍA COLOMBIANA

La economía colombiana se basa, fundamentalmente, en la producción de bienes para la exportación, y en la producción de bienes de consumo para el mercado interno. Una de las actividades económicas más tradicionales es el cultivo de café, siendo uno de los mayores exportadores mundiales de este producto; ha sido parte central de la economía de Colombia desde principios del siglo XX y le ha valido reconocimiento internacional gracias a la calidad del grano; sin embargo, su importancia y su producción han disminuido significativamente en los últimos años.



1 Escribe el nombre según corresponda y observa:

Agricultura  
Caprino

Ganadería  
Avicultura

Porcicultura  
Acuicultura





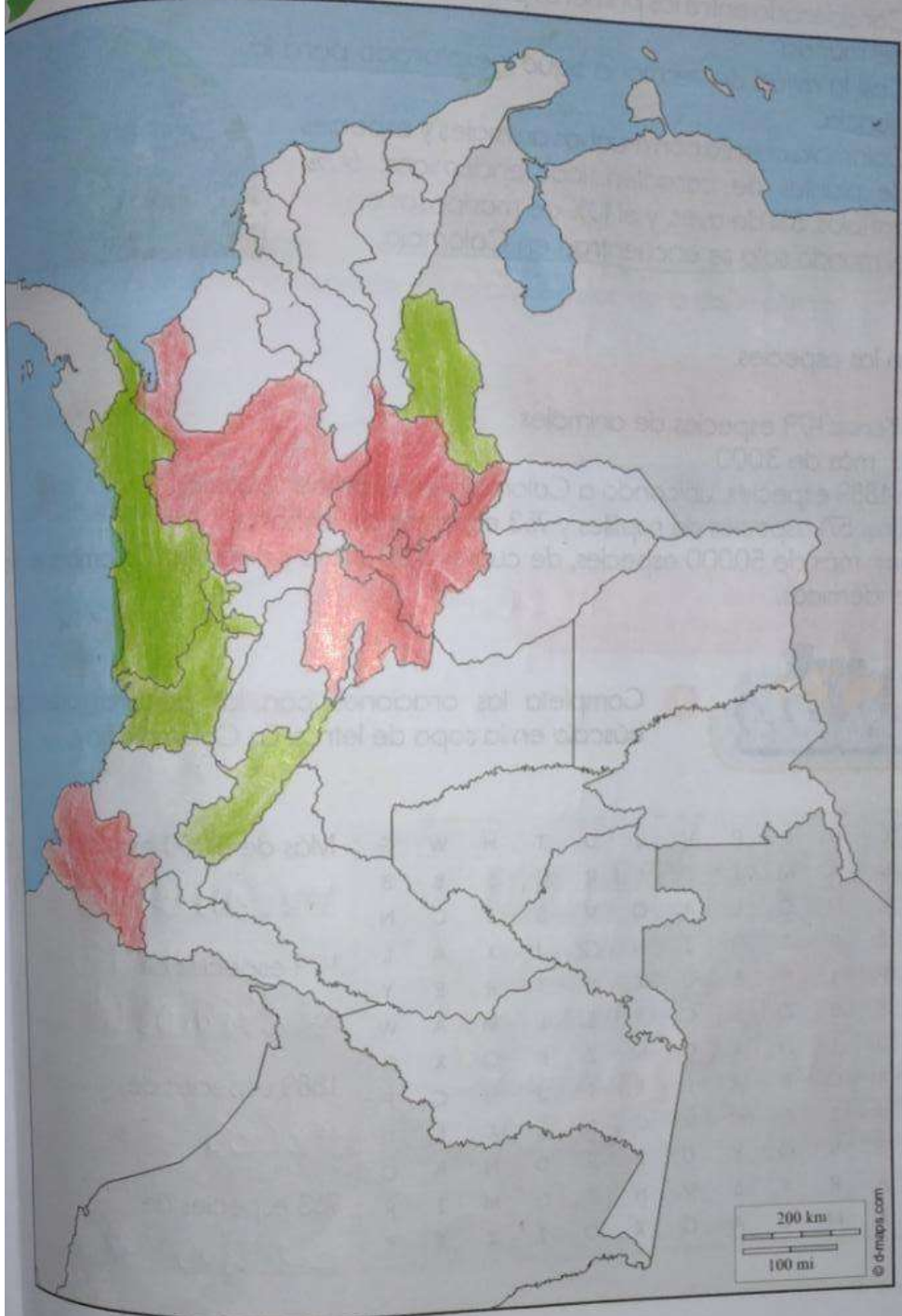
Observa el mapa de Colombia y colorea los departamentos con más población indígena y ubica las cuatro principales ciudades donde se encuentra buena parte de la población colombiana.





Investiga y ubica de acuerdo a la clave.

- Los cinco departamentos con mayor población.
- Los cinco departamentos con menor población.



## BIODIVERSIDAD

Nuestro país posee alrededor del 15% de la flora y fauna del planeta.

- Considerado entre los primeros países con mayor biodiversidad del mundo.
- Casi la mitad del territorio sigue inexplorado para la ciencia.
- Colombia cuenta con muchos animales y especies de plantas de características endémicas; 60% de anfibios, 8% de aves, y el 10% de mariposas en el mundo solo se encuentran en Colombia.



Según las especies.

Mamíferos: 479 especies de animales

Peces: más de 3.000

Aves: 1889 especies, ubicando a Colombia en el primer puesto.

Reptiles: 571 especies de reptiles y 763 especies de anfibios.


Plantas: más de 50.000 especies, de cuales 17.000 solo existen en Colombia, es decir son endémicas.




- 1 Completa las oraciones con las palabras adecuadas; búscala en la sopa de letras. En Colombia hay:




Más de 3.000 especies de

mamíferos 


479 especies de

anfibios 

1889 especies de

peces 

763 especies de

cachus 



Marca con una X si el enunciado es verdadero (V) o falso (F).

	F	V
Las orquídeas son las flores menos comunes en Colombia	X	
Colombia es el primer país en diversidad de aves	X	
Parte de la flora y fauna de Colombia es endémica	X	
A pesar de que los páramos representan el 2% del territorio colombiano, son la principal fuente de agua dulce del país.	X	

Relaciona y colorea el nombre de acuerdo al color de la definición.

Endémica

Orquídeas

Ecología

Flor representativa de Colombia ante el mundo.

Ciencia que estudia las relaciones existentes entre los animales y su hábitat.

Nombre que se le da a las especies de flora y fauna que únicamente se dan en un territorio en específico.

### RECURSOS NATURALES



En un paisaje hay muchos elementos. Todos los que no fueron elaborados por las personas son los recursos naturales. Por ejemplo, el aire, el agua, la vegetación y los animales. Un gran número de recursos naturales son utilizados por el ser humano para la elaboración de objetos que las comunidades necesitan.



1 Desarrolla el siguiente cuadro con base en todos los elementos que recuerdes haber observado en diferentes paisajes.

Tipo de Paisaje	Elementos naturales	Elementos de creación humana
natural	agua luz árboles etc	vendados cuchillos patios buehos etc
rural	relieve tierra minerales clima etc	deñados cultivos humanos o personas
urbano	clima agua luz relieve recursos natu rales	personas o humanos ciudades barrios casas edificios etc

2 Dibuja los recursos naturales que se requieren para satisfacer las siguientes necesidades:

- Vivienda
- Herramientas para la labranza
- Vestido
- Educación
- Transporte
- Alimentación

vivienda 	herramientas de labranza 	vestido 
educación 	transporte 	alimentación 



1 Explica qué son los recursos naturales y cómo se clasifican.

Los recursos naturales son los elementos y fuerzas de la naturaleza que el hombre utiliza para sostener su existencia. Se clasifican en renovables y no renovables.

2 Marca con una X la definición más acertada para el siguiente concepto.

- Los recursos naturales son:
- Todos aquellos elementos que hay en la naturaleza para que la humanidad los explote indefinidamente.
  - Los elementos de la naturaleza que la humanidad explota para satisfacer sus necesidades.
  - Los componentes naturales que están contaminados a causa de la explotación que hacen las personas.

3 Selecciona la explicación más acertada para la siguiente afirmación.

- La humanidad debe cuidar los recursos naturales permanentes porque:
- Estos se pueden acabar debido a que todas las personas los consumen.
  - Cada vez están más contaminados y ponen en riesgo la vida.
  - Son indispensables para llevar a cabo las actividades económicas.
  - Una vez que se agotan no es posible reponerlos.

4 Marca con una X si es un recurso renovable o no renovable para estos productos.

Producto	Recurso renovable	Recurso no renovable
		X
		X
	X	
	X	
	X	
	X	
		X
		X
	X	
	X	



5 Completa las oraciones con las palabras claves.

níquel

suelo

no renovables

petróleo

agua

renovables

- a El agua permite el crecimiento de las plantas y el desarrollo de los animales.
- b El agua y el suelo son recursos naturales renovables.
- c Los recursos no renovables son aquellos que se pueden agotar.
- d En la elaboración de electrodomésticos y en la fabricación de monedas utilizamos el petróleo.
- 6 Describe las características principales de los recursos renovables y de los no renovables.

#### Renovables

\* Por el alto costo de la infraestructura se utiliza y solo se emplean los recursos renovables en algunos sitios.  
\* generalmente su producción se mantiene o se incrementa sin importar su consumo

#### No renovables

\* Forman lentamente o no se forman naturalmente en el ambiente  
\* algunos recursos naturales se deprecian sin que los humanos interfieran  
\* elementos radioactivos  
minerales son los más comunes



1 Escribe a cuál etapa del proceso productivo corresponden las situaciones siguientes.

Las personas disfrutan del agua y la electricidad que llega a sus hogares.

consumo humano, bombeo, transporte, tratamiento y desdoldación

El algodón es utilizado para la elaboración de telas:

en la medicina y artesanía

Los empresarios contratan tractomulas para transportar sus productos:

carban, bultos, alimentos, granjería, productos de cuero etc

Explica a qué sector de la economía corresponden las siguientes imágenes y argumenta tus respuestas.



sector animal consiste en la producción de carne y fortalece la producción de carne y alimentos

sector transporte consiste en transporte de alimentos como frutas, verduras y muchas más cosas o otros transportes de carga

1. Consulta el nombre de una empresa de cada sector económico, que funcione en tu departamento, y elabora un cuadro comparativo como el siguiente.

Sector	Nombre de la empresa	Producto	Beneficios para el departamento
Primario	Fedepalpa	vegetales	• más de 40 años • defensa de las importaciones
Secundario	Poldi	alimentos	• comprende efectos de actividades • actividad Petrolera • actividades
Terciario	Transportes	vegetales y frutas	• transporte de alimentos • importante por el valor del IVA

2. Explica las características de la ganadería colombiana.

manejo de explotación de animales domésticos con el fin de producción para su aprovechamiento

136

3. ¿Qué importancia tiene la producción agrícola en Colombia?

idea principal fuente de empleo en el país representando un 25% de la población económicamente activa. Es decir es la principal fuente de empleo ya que más de mil millones de personas trabajan en el sector de alimentos y comercio en el país

4. Completa el siguiente cuadro.

Actividad del sector	Principales productos	Importancia para el país
Primario	café, leche, frutas, verduras, etc.	es el sector de la economía que comprende el aprovechamiento de los recursos naturales
Secundario	carbón, azúcar, hierro, cemento, etc.	es el sector importante en la economía ya que comprende el comienzo de la materia prima
Terciario	comercio, transporte, educación, etc.	es importante debido a que constituye un gran empleo en el país

137



Une las imágenes con el sector al que corresponden.



Primario

Secundario

Terciario

8 ¿Qué actividades desarrollan las empresas del sector terciario en Colombia?

incluye todas aquellas actividades que se relacionan con la provisión de bienes estas actividades son:  
comercio, telecomunicaciones, transportes, medicina, salud pública, educación, turismo, administración y finanzas.