

UBICACIÓN DE COLOMBIA EN EL MUNDO

Sociales

COLOMBIA EN EL MUNDO

» Posición astronómica de Colombia

La posición astronómica permite localizar un lugar en la superficie del planeta Tierra, se establece fijando su latitud y su longitud (meridianos y Paralelos).

La posición astronómica se refiere a la ubicación del país, teniendo en cuenta los meridianos y los paralelos, es decir, la última parte del territorio en los cuatro puntos cardinales, de acuerdo a las coordenadas geográficas, estas se miden en grados, minutos y segundos. Por ejemplo $77^{\circ} 25' 35''$.

- El punto extremo de Colombia al norte es Punta Gallinas con $12^{\circ} 26' 46''$. Latitud norte en la Guajira.
- El sur el punto extremo es la desembocadura del río San Antonio con $4^{\circ} 12' 30''$, donde la quebrada desemboca en el río Amazonas. Latitud sur, en el Amazonas.
- Al oriente es la Isla de San José en el Río Negro con $60^{\circ} 50' 54''$, frente a la Piedra del Cocuy, en el departamento de Guainía. Limite común entre Colombia, Brasil y Venezuela. Longitud oriental.
- Al occidente Cabo Manglares en el departamento de Nariño con $79^{\circ} 02' 33''$. Longitud occidental, donde el río Mira desemboca en el Océano Pacífico. Longitud occidental.



1 Observa el siguiente mapa y responde.

1 ¿Cuáles son los puntos externos del territorio colombiano según la latitud?

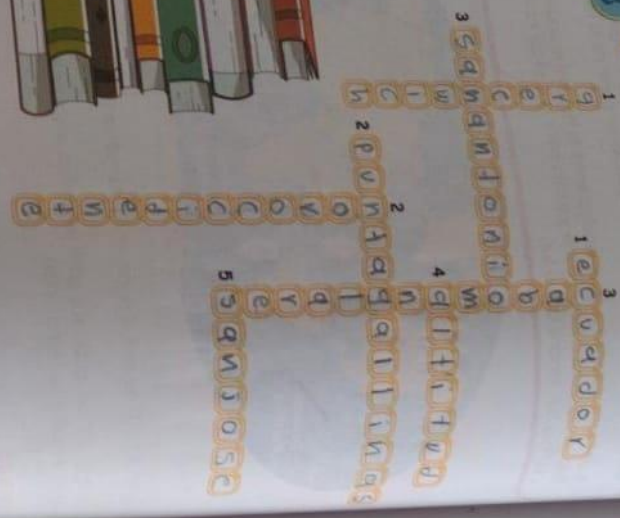
Punta de Gallina con $16^{\circ} 26' 46''$

2 ¿Cuáles son los puntos extremos del territorio colombiano según longitud?

Punta de Gallina, Cabo manglares, San Jose



1 Responde el crucigrama de acuerdo a las pistas:



HORIZONTAL

- 1. Nombre del paralelo que atraviesa el país. ✓
- 2. Punto extremo al norte en Colombia. ✓
- 3. Punto extremo al sur de Colombia. ✓
- 4. Tercera medida de la coordenada geográfica. ✓
- 5. Punto extremo al oriente de Colombia. ✓

VERTICAL

- 1. Nombre del meridiano, también llamado Meridiano Cero. ✓
- 2. Punto cardinal en el que está ubicado Colombia en Suramérica. ✓
- 3. Punto extremo al occidente de Colombia. ✓

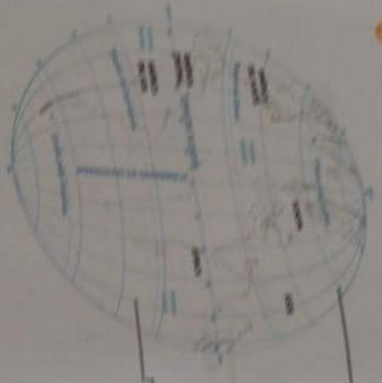
2 Observa el mapa y responde en tu cuaderno:



- 1. Ubica tu ciudad teniendo en cuenta la latitud y la longitud.
- 2. Si intersectas los paralelos con los meridianos encontrarás un punto en el mapa.
- 3. Ubica y colorea 5 ciudades más de Colombia que no conozcas. Escribe su nombre.

Los paralelos y meridianos son líneas imaginarias que ayudan a ubicar diferentes lugares en el planeta.

Compara



Los paralelos:
 Ecuador's círculo
 Faja del anticóclon
 Capricornio

Los meridianos:
 Reino unido, Francia
 España, Chile, Argentina
 Perú, Brasil, Ecuador, Colombia

Posición geográfica de Colombia

Colombia se encuentra localizada al noroeste de Suramérica. Sus límites continentales son al este con Venezuela, al suroeste con Brasil, al sur con Ecuador, al sur y al noroeste con Panamá. Marítimamente limita con Haití, Jamaica, Honduras, Costa Rica, Nicaragua y República Dominicana.



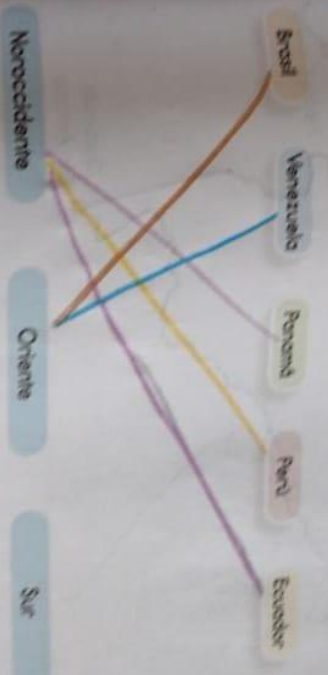
¿Sabes?

¿Sabes qué se dice que Colombia es el país más importante de América? ¡Michel Kofetz! Ilustró la frase Colombia es el país más importante de América como un letrado calificado a la avanzada calificación de país.

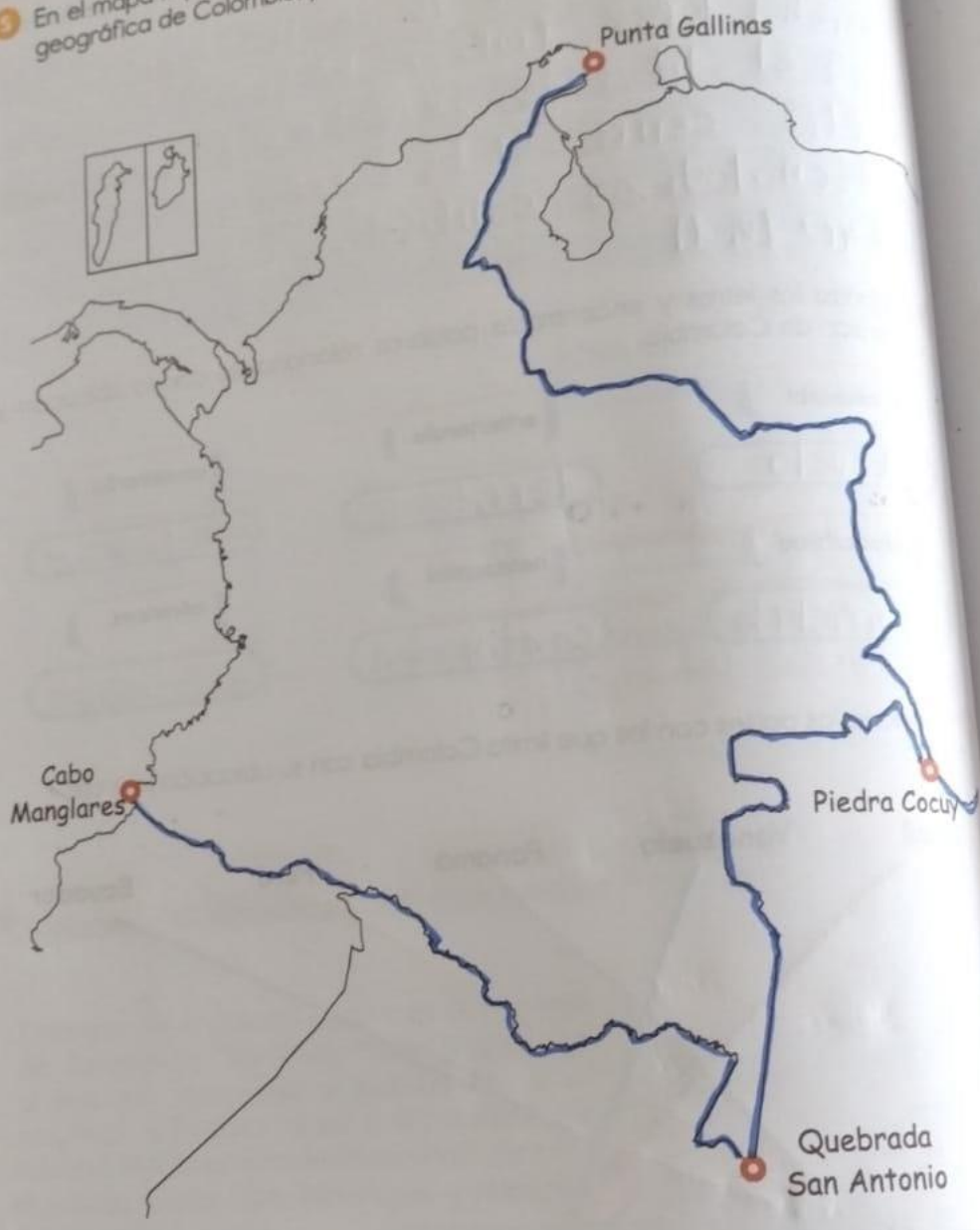
Organiza las letras y encuentra palabras relacionadas con la ubicación y extensión de Colombia.

- amable
- subvuelo
- gineprohilo
- chichifreño
- enterrado
- telitofreño
- patrocinio
- continental
- amable
- quejido Sur
- noventa
- extensión

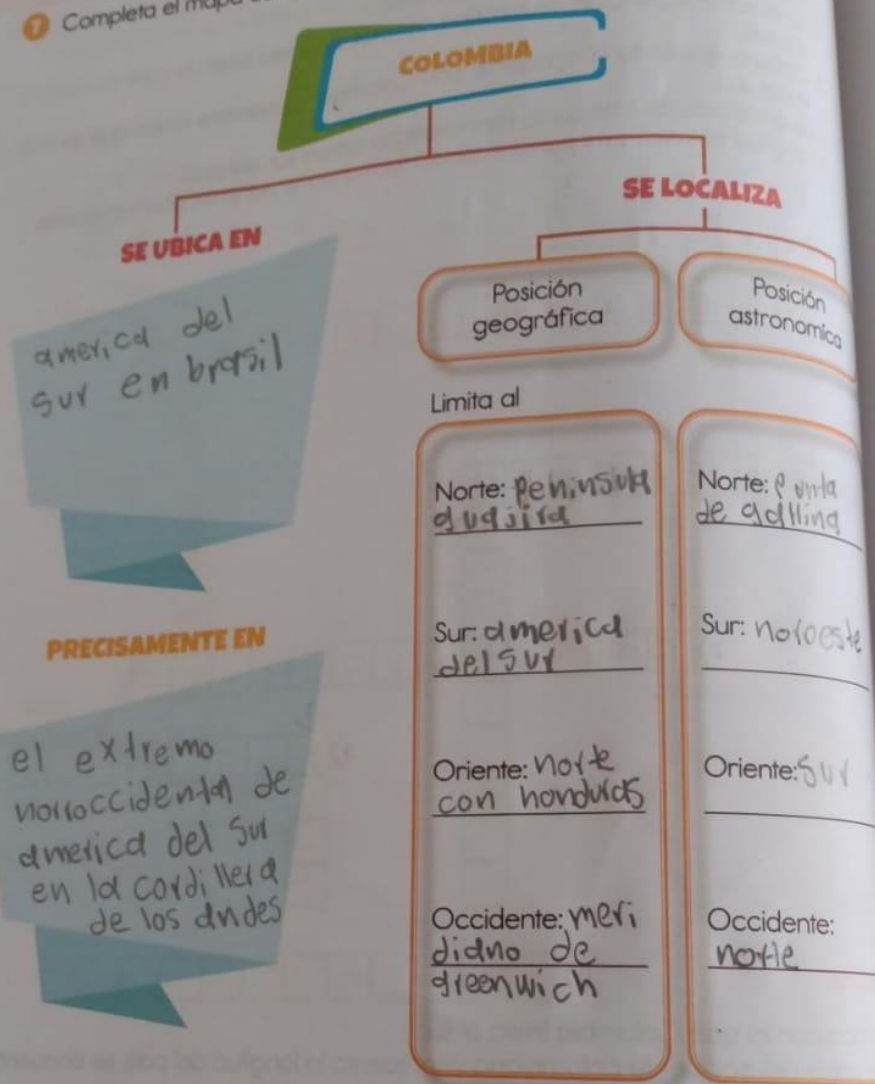
Relaciona los países con los que limita Colombia con su ubicación límite.



5 En el mapa representa las fronteras marítimas y terrestres, observe la posición geográfica de Colombia, y miro los puntos extremos de mi país.



7 Completa el mapa conceptual según la información anterior:



Paraguay

1. de delantar modulo y subirlo a la plataforma

Solución Págs 105.

9. Págs: ubicada en el centro de Paraguay en la Cordillera oriental la capital de Paraguay tiene una extensión aproximada de 33 Kilómetros de sur al norte y 16 Kilómetros de sur al occidente y se encuentra situada en las siguientes coordenadas:
latitud norte 4° 35' 56" y longitud oeste de Greenwich 74° 04' 51"

6. Págs:

1. brend aventura ■ Cali
2. ■ neiva ■ huila
3. Págs dn ■ Cauca
4. valle de purpur ■ Cesar
5. Singelejo ■ Sucre

mapa Colombia.

1. Guajira
2. Cesar
3. Magdalena
4. Atlántica
5. Sucre
6. Bolívar
7. Córdoba
8. norte de Santander
9. Antioquia
10. Santander
11. Boyacá
12. Boyacá
13. Casanare
14. Cundinamarca
15. Tolima
16. Quindío
17. Valle del Cauca
18. Chocó
19. Risaralda

20. vichada
21. meta
22. cduca
23. ndriño
24. putumayo
25. dmdzand
26. cadvetd
27. guavidre
28. vidupes
29. guavid