







D Localiza en el mapa las regiones naturales de Colombia, escribe sus nombres y colorea con un color diferente.



-  R. Amazonica
-  R. Orinoquia
-  R. Caribe
-  R. Insular
-  R. Andina
-  R. Pacifica

Completa el siguiente cuadro.

| DEPARTAMENTO | CAPITAL | REGIÓN NATURAL |
|--------------------|---------------------|---------------------|
| Meta | Villavicencio | Orinoquia |
| Guajira | Riohacha | Caribe |
| Cundinamarca | Bogota D.C | Andina |
| Vichada | Puerto Carreno | Orinoquia y Andina |
| Córdoba | Montoria | Caribe |
| Santander | Bucaramanga | Andina |
| Nariño | San Juan de Pasto | Amazonia y Pacifica |
| Amazonas | Leticia | Amazonia |
| Huila | Neiva | Andina |
| Sucre | Sincolejo | Caribe |
| Boyacá | Tunja | Andina |
| Valle del Cauca | Popayan | Andina y Pacifica |
| Antioquia | Medellin | Andina |
| Arauca | Arauca | Orinoquia |
| Chocó | Quibdo | Pacifico |
| Norte de Santander | San Jose de Cutata | Andina |
| Atlántico | Barranquilla | Caribe |
| Casanare | Yopal | Orinoquia |
| Caldas | Manizales | Andina |
| Tolima | Ibaguè | Andina |
| Bolívar | Cartagena de Indias | Caribe |
| Putumayo | Mococa | Amazonia |
| Guainía | Inirida | Amazonia |
| Cesar | Valledupar | Caribe |

4 ¿Cuál es la región más húmeda de Colombia?

- a) Región Amazonía
- b) Región Andina
- c) Región Pacífica
- d) Región Caribe

5 ¿Cuál es la región más poblada de Colombia?

- a) Región Amazonía
- b) Región Andina
- c) Región Pacífica
- d) Región Caribe

Región Amazonía

Comprende los departamentos de:
Amazonas - Leticia, Putumayo - Mocoa,
Guainía - Puerto Inírida, Guaviare - San José
de Guaviare, Caquetá - Florencia, Vaupés -
Mitú. Tiene una superficie de 483.119 km²
Ciudades: Florencia, Leticia, Mitú, Mocoa,
Inírida.
Población: 264 945 habitantes
Límites geográficos: Norte: Orinoquía; Sur:
Ecuador, Perú y Brasil; Occidente: Andes;
Oriente: Brasil y Venezuela
Clima: Tropical húmedo y Monzónico.



I Relaciona la información de la Columna A con la información de la columna B.

- a Región Caribe
 - b Región insular
 - c Región del Amazonas
 - d Región del Pacífico
 - e Región Orinoquía
 - f Principales ciudades de la región del Pacífico.
 - g Magdalena, Cauca, Sinú, Atrato son ríos que pertenecen a...
 - h Región Andina
 - i Posee una inmensa riqueza ecológica, hidrográfica, floral y minera.
- A Es la región más poblada de Colombia.
 - d La mayor parte de la afrocolombiana.
 - a La economía se basa en la agricultura, minería y ganadería.
 - b Compreendida por San Andrés y Santa Catalina.
 - c Su clima es tropical húmedo y monzónico.
 - g Región del Caribe
 - I Región del Pacífico
 - e Compreendida por los departamentos de Meta, Canare, Arauca y Guaviare.
 - F Tumaco, Buenaventura y San Vicente del Caguán.