



Actividad

1 Observa las siguientes imágenes, responde posteriormente algunas preguntas.



2 En términos generales, ¿qué saberes hay detrás de cada imagen?, ¿en qué contextos piensas que fueron contruidos estos saberes?

119

detrás de la imagen hay un saber que describe la concepción del mundo

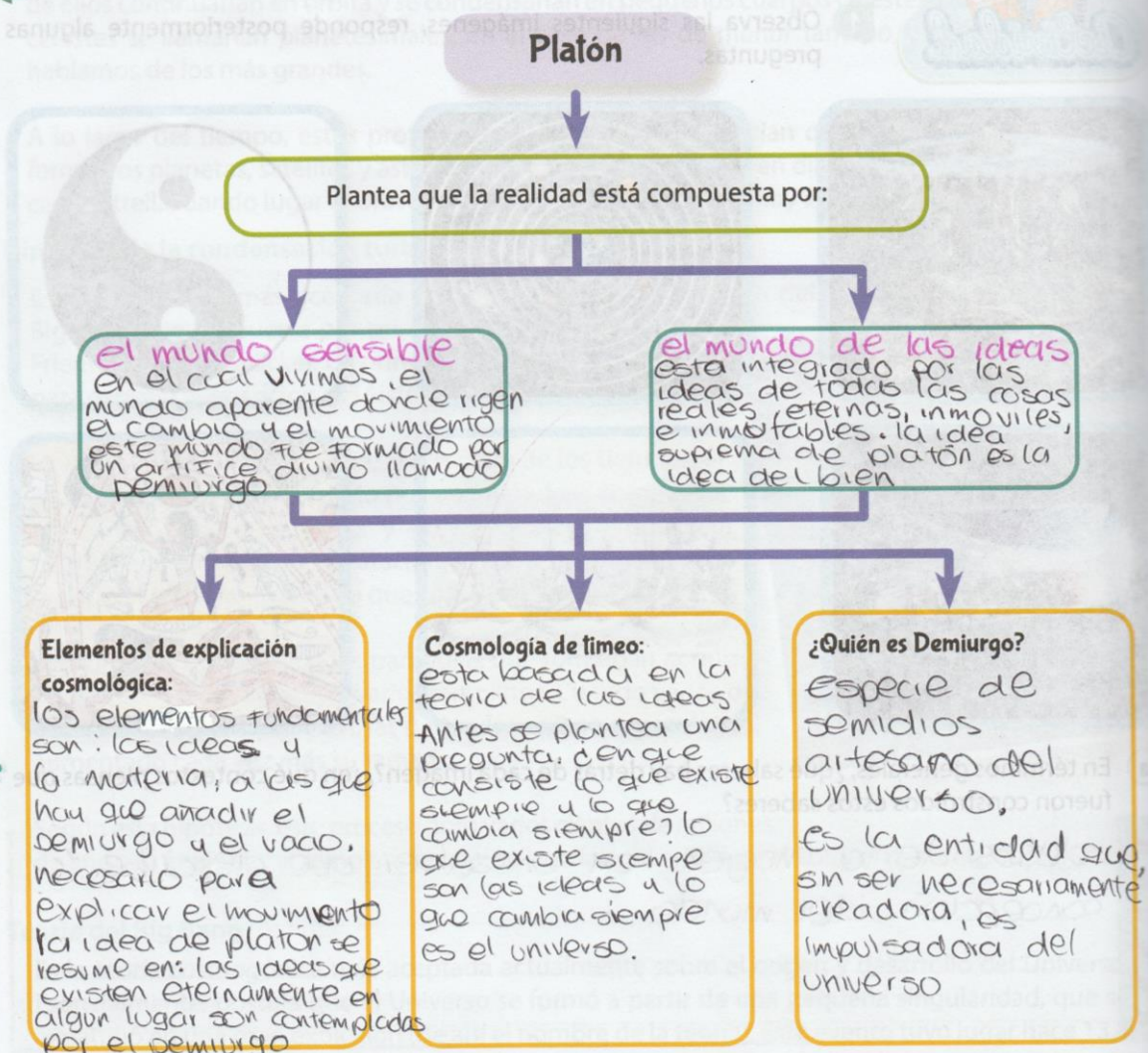
3 ¿Todas ellas hacen alusión al cosmos? Argumenta

si, ya que todas hacen alusión o hablan sobre la creación del mundo o del universo y una de ellas también habla de la destrucción del mundo o universo

4 ¿Cuál de las imágenes corresponde a una representación científica sobre la evolución del cosmos?

la imagen numero 4 que trata de la teoría del big bang

2 Relaciona en el siguiente esquema gráfico la cosmogonía de Platón



120

a) ¿Cuál era la posición de Platón frente a las ideas de Demócrito sobre el universo?

Handwritten notes on lined paper for question a.

b) ¿Crees que entre ciencia (cosmología) y mito (cosmogonía) hay contradicción? Justifica la respuesta.

de cierta forma si ya que lo cosmogonico estudia desde lo mitico, desde lo irreal y lo cosmologico lo estudia desde la ciencia ya aprobada en la vida real o de lo que ya existe