
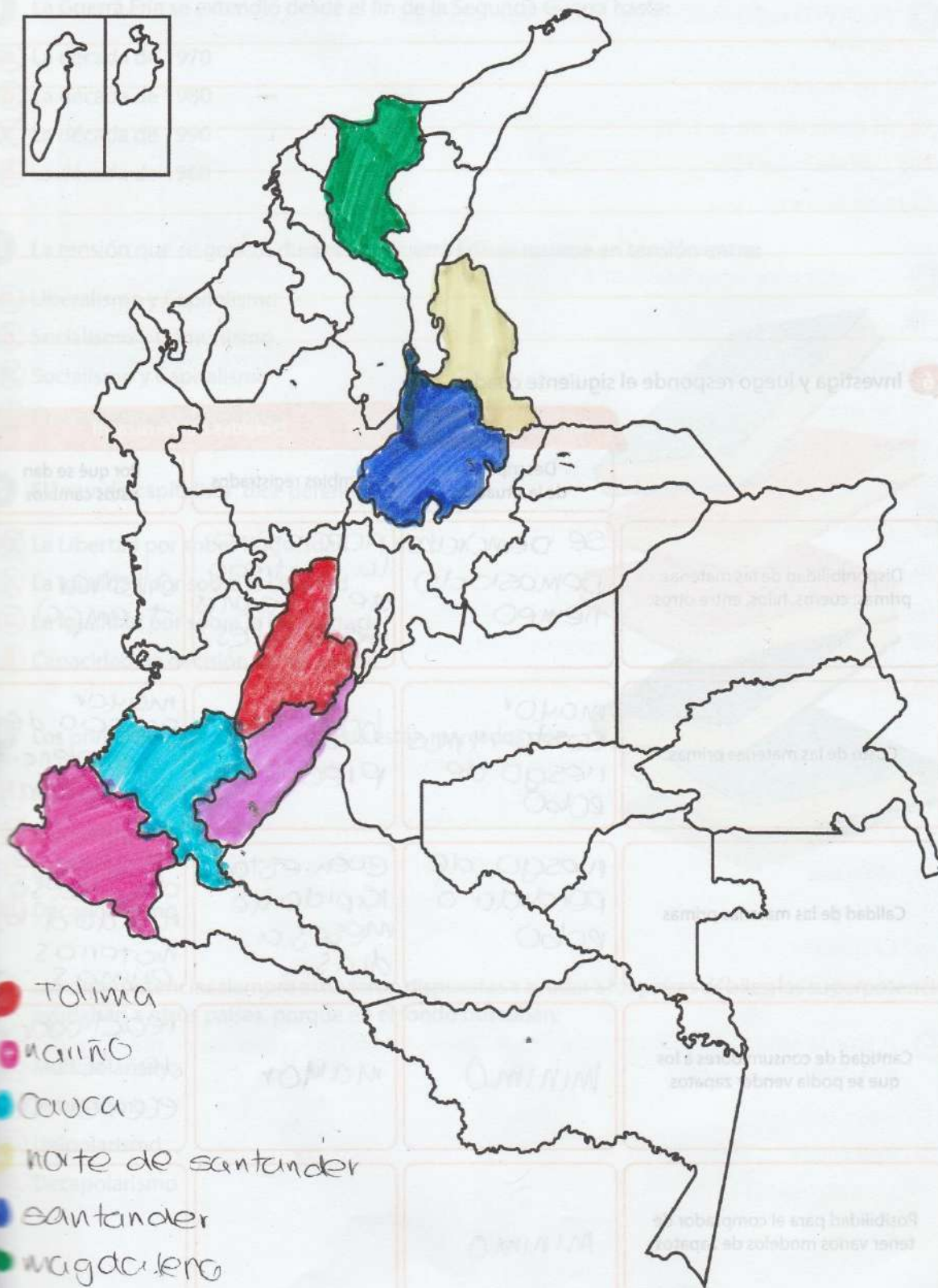
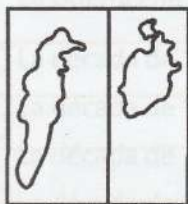


3 Observa la imagen y realiza un resumen sobre la industria textil en Colombia. Consulta en diferentes fuentes de ser necesario.



la industria textil colombiana en el 2019 presenta cifras positivas en sus índices de producción y venta, con proyecciones de crecimiento. el sector textil colombiano representa el 8,7% del PIB industrial del país, el 21% del empleo industrial colombiano y el 9% de las exportaciones manufactureras. según cifras manifestadas por Noticias Andí.

4 En el siguiente mapa, colorea en qué zonas del país se cultiva actualmente café.



- Tolima
- Huila
- Cauca
- Norte de Santander
- Santander
- Magdalena
- Huila

6 Investiga y luego responde el siguiente cuadro.

	Antes del ferrocarril		Después del ferrocarril	
	Descripción de la situación	Cambios registrados	Por qué se dan estos cambios	
Disponibilidad de las materias primas: cueros, hilos, entre otros	Se demandaban demasiado tiempo	proporcional la entrega de diferentes materiales	ahorrar tiempo	
Costo de las materias primas	mayor costo y mas riesgo de robo	bajó los precios	mayor espacio de transferencia de material	
Calidad de las materias primas	riesgo de perdida o robo	buen estado rápido de meses a días	Beneficio del acceso rápido a las materias primas	
Cantidad de consumidores a los que se podía vender zapatos	minimo	mayor	reactivación de la economía	
Posibilidad para el comprador de tener varios modelos de zapatos	minimo			

- 1 La Guerra Fría se extendió desde el fin de la Segunda Guerra hasta:
 - a. La década de 1970
 - b. La década de 1980
 - c. La década de 1990
 - d. La década de 1960
- 2 La tensión que se generó durante La Guerra Fría se resume en tensión entre:
 - a. Liberalismo y Capitalismo
 - b. Socialismo y Comunismo
 - c. Socialismo y Capitalismo
 - d. Anarquismo y Capitalismo
- 3 El "mundo capitalista" dice defender:
 - a. La Libertad por sobre la Igualdad
 - b. La Igualdad por sobre la Libertad
 - c. La igualdad por sobre la Democracia
 - d. Capacidad de decisión de los países
- 4 Los primeros años de la Guerra Fría están marcados por:
 - a. Multipolarismo
 - b. Bipolarismo
 - c. Unipolarismo
 - d. Decapolarismo
- 5 Las superpotencias siempre estuvieron dispuestas a ayudar a los países débiles; las superpotencias ayudaban a otros países, porque en el fondo buscaban:
 - a. Multipolarismo
 - b. Bipolarismo
 - c. Unipolarismo
 - d. Decapolarismo



Prueba Saber

6 ¿Cuál es la fecha exacta en que se declaró la victoria de la Revolución Cubana liderada por Fidel Castro?

- a. 1 de enero de 1960
- b. 31 de diciembre de 1958
- c. 1 de enero de 1959
- d. 1 de enero de 1969

7 ¿Cuántos años tenía Fidel Castro cuando asumió el poder?

- a. 32 años
- b. 38 años
- c. 40 años
- d. 45 años

8 ¿Quién gobernaba Cuba antes del triunfo de la Revolución Cubana?

- a. José Martí
- b. Camilo Cienfuegos
- c. Fulgencio Batista
- d. Elpidio Valdés

9 ¿Cuál era el nombre del yate en el que Fidel Castro y sus hombres partieron de México en 1956 para iniciar la lucha guerrillera en Cuba?

- a. Granma
- b. Moncada
- c. 26 de julio
- d. La Trinidad

10 ¿Cómo se llamaba la región en Cuba donde Castro y sus hombres comenzaron su lucha guerrillera en 1956?

- a. Sierra Maestra
- b. Santa Clara
- c. Santiago de Cuba
- d. Matanzas



11 Observa las caricaturas publicadas en la prensa colombiana. ¿Qué periodo de la historia política colombiana se representa en estas caricaturas?



Imagen tomada: <https://www2.icfes.gov.co/>

- a. La Violencia política.
- b. El Frente Nacional.
- c. La Patria Boba.
- d. El gobierno de Rojas Pinilla.

12 La guerra de los mil días fue el conflicto interno más prolongado ocurrido en Colombia desde la independencia. Algunos de sus efectos devastadores se manifestaron a través de los fenómenos como la interrupción del transporte de mercancías y la emigración campesina de las zonas azotadas por la guerra. Estas circunstancias se explican porque

- a. La lucha por el poder entre los partidos tradicionales se agudizó en esta época.
- b. La reforma agraria del presidente Núñez carecía de bases constitucionales.
- c. La separación de Panamá hizo entrar en crisis la economía de toda la nación.
- d. La infiltración del ejército norteamericano provocó la reacción de la guerrilla.

13 Una causa por la cual se presentó la guerra de los mil días fue:

- a. La pérdida de miles de vidas y la desolación en los campos.
- b. La decisión de Miguel Antonio Caro de gobernar sin participación de los liberales.
- c. La inversión de 900 millones de pesos para financiar la guerra.
- d. La separación de Panamá.

14 La consecuencia de la guerra de los mil días fue:

- a. La escasez de alimentos.
- b. El endeudamiento del país.
- c. La pérdida de Panamá.
- d. Todas las anteriores.

15 Panamá se independizó de Colombia:

- a. El 7 de agosto de 1819.
- b. El 20 de julio de 1810.
- c. El 3 de noviembre de 1903.
- d. El 4 de octubre de 1993.

16 La guerra de los mil días cerró el siglo XIX y abrió el siglo XX para Colombia. Como consecuencia de esta guerra, Colombia perdió el istmo de Panamá, situación en la que participó activamente el gobierno de Estados Unidos. En la guerra de los mil días se enfrentaron

- a. Los liberales en el poder contra los conservadores en la oposición.
- b. Los partidos conservador y liberal contra el ejército norteamericano.
- c. Los conservadores en el poder contra los liberales en la oposición.
- d. Los seguidores de la iglesia católica contra los conservadores reformadores.

17 El pago de 25 millones de dólares como indemnización por la pérdida de Panamá fue pagado por:

- a. El gobierno de Estados Unidos a Colombia por reparar la pérdida de Panamá.
- b. El nuevo gobierno de Panamá al de Colombia para reparar los daños ocasionados.
- c. El gobierno de Estados Unidos a Panamá para ayudar con los gastos de reconstrucción del Canal.
- d. El gobierno de Colombia al de Estados Unidos como multa por intervenir en asuntos internos de Panamá.

102

Rejilla de respuestas

	1	2	3	4	5	6	7	8	9	10	11	12	13	14	15	16	17
a	<input type="radio"/>	<input type="radio"/>	<input checked="" type="radio"/>	<input type="radio"/>	<input type="radio"/>	<input type="radio"/>	<input checked="" type="radio"/>	<input type="radio"/>	<input checked="" type="radio"/>	<input type="radio"/>	<input checked="" type="radio"/>	<input type="radio"/>	<input type="radio"/>	<input type="radio"/>	<input type="radio"/>	<input checked="" type="radio"/>	<input checked="" type="radio"/>
b	<input type="radio"/>	<input type="radio"/>	<input type="radio"/>	<input checked="" type="radio"/>	<input type="radio"/>	<input type="radio"/>	<input type="radio"/>	<input type="radio"/>	<input type="radio"/>	<input type="radio"/>	<input type="radio"/>	<input type="radio"/>	<input type="radio"/>	<input type="radio"/>	<input type="radio"/>	<input type="radio"/>	<input type="radio"/>
c	<input checked="" type="radio"/>	<input checked="" type="radio"/>	<input type="radio"/>	<input type="radio"/>	<input type="radio"/>	<input checked="" type="radio"/>	<input type="radio"/>	<input checked="" type="radio"/>	<input type="radio"/>	<input checked="" type="radio"/>	<input type="radio"/>	<input checked="" type="radio"/>	<input type="radio"/>	<input type="radio"/>	<input type="radio"/>	<input type="radio"/>	<input type="radio"/>
d	<input type="radio"/>	<input type="radio"/>	<input type="radio"/>	<input type="radio"/>	<input type="radio"/>	<input type="radio"/>	<input type="radio"/>	<input type="radio"/>	<input type="radio"/>	<input type="radio"/>	<input type="radio"/>	<input type="radio"/>	<input checked="" type="radio"/>	<input type="radio"/>	<input type="radio"/>	<input type="radio"/>	<input type="radio"/>

