



MAPAS

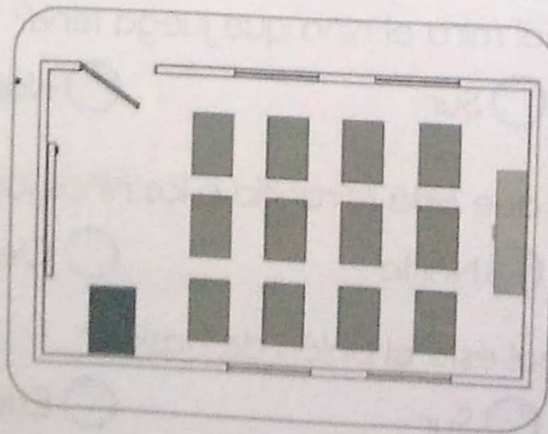
El mapa es una representación de una parte o de la totalidad del planeta en forma plana. ¿Sabías que existen diversos tipos de mapas? Cada uno de ellos entrega un tipo de información determinada.

» ¿CÓMO LEER UN MAPA?

Los mapas tienen siempre ciertos elementos que nos permiten comprender su información. Estos son, el título, la rosa de los vientos, la simbología o leyenda y la escala. A continuación aprenderemos a leer este mapa temático de América



- 1 ¿Cuál de las siguientes imágenes corresponde a un mapa?



Observa la siguiente imagen y luego contesta las preguntas desde la 2 y 3



2 ¿En qué dirección está el supermercado en relación a la casa Amarilla?

Al sur.

Al oeste. ✓

Al norte.

3 ¿Cuál es la ubicación de la iglesia?

Al norte de la plaza.

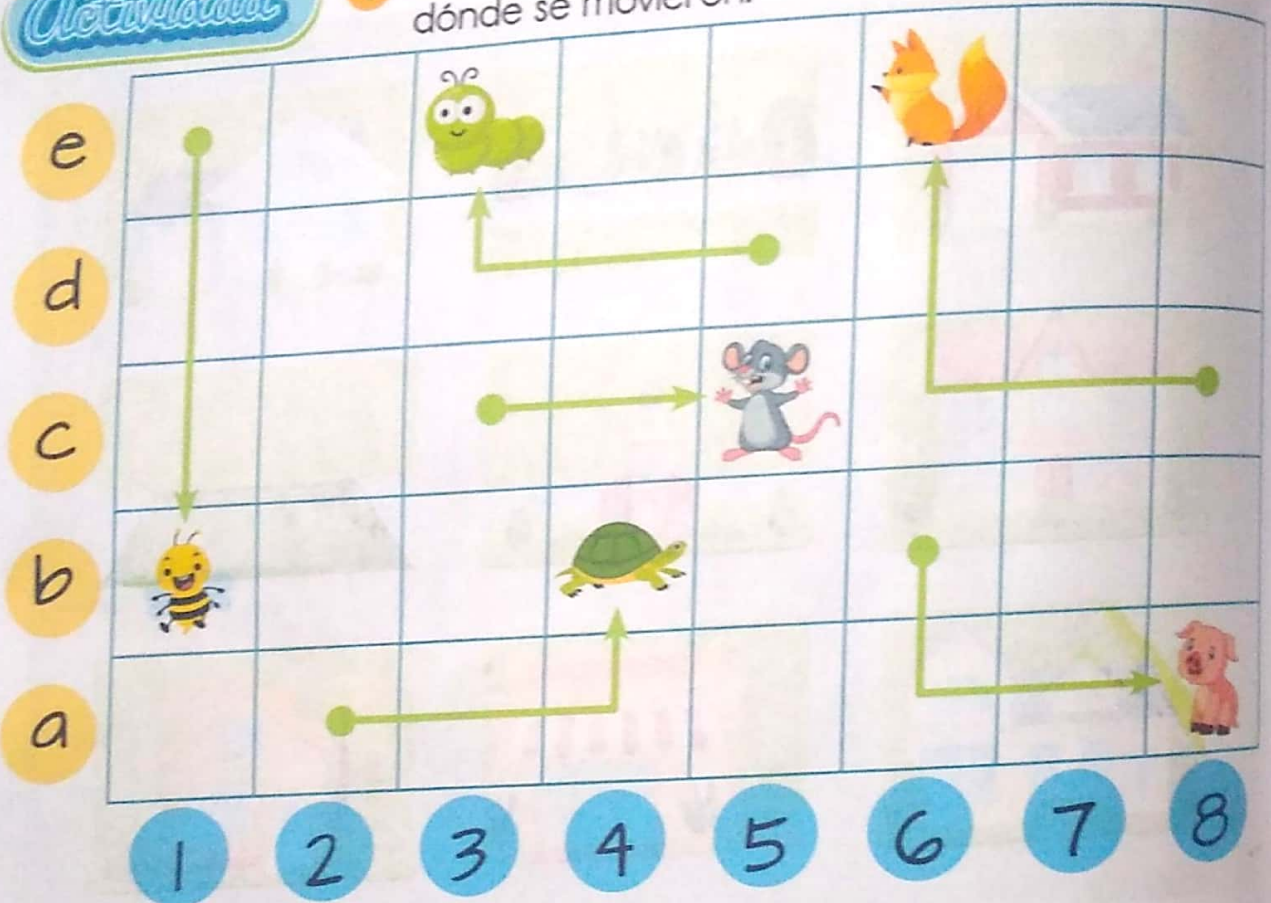
Al sur de la fuente de agua. ✓







Al norte de la cancha de fútbol.

POSICIONES DE LATERALIDAD



1 Observa dónde estaban los animalitos y contesta hacia dónde se movieron.



- a La  voló 4 cuadros hacia sur.
- b El  se arrastró 3 cuadros hacia la este y 1 cuadro hacia norte.
- c El  caminó 3 cuadros hacia la este y 1 cuadro hacia norte.
- d El  caminó 3 cuadros hacia la este.
- e El  corrió 3 cuadros hacia la este y 2 cuadros hacia norte.
- f El  caminó 2 cuadros hacia la sur y 2 cuadros hacia este.