

Evaluación biología

Grado segundo

Escribe tu nombre completo *

KAREN GABRIELA SANCHEZ MONTIEL

1. Selecciona la imagen que represente las tres funciones vitales de los seres vivos. *



Opción 1





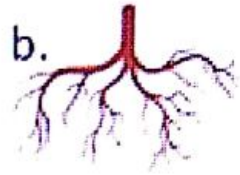
Opción 2

2. Observa el ciclo de vida de las plantas y responde: *



- Las plantas crecen
- Las plantas necesitan de otros para alimentarse
- Las plantas se desplazan

3. Relaciona la imagen con la palabra que corresponde: *



a

b

c

d

fruto



hoja



raíz



flor



4. Los frutos carnosos son aquellos que están compuestos por abundante agua y sustancia alimenticias como: *

Naranja, el melocotón, el mango

Maní, arándanos y las nueces

Maní, peras, arándanos, sandía

21
Evaluación Biología

5. Los frutos secos son aquellos que tienen poca cantidad de agua, son delgados y se abren al madurar como: *

- Naranja, el melocotón, el mango
- Maní, arándanos y las nueces
- Maní, peras, arándanos, sandía.

6. Los animales según su alimentación se clasifican en: *

- Carnívoros, omnívoros y herbívoros.
- Vivíparos y ovíparos
- Vertebrados e invertebrados

7. Según su forma de nacer los animales se clasifican en: *

- Carnívoros, omnívoros y herbívoros.
- Vivíparos y ovíparos
- Vertebrados e invertebrados