

LA DIVISIÓN Y MULTIPLICACIÓN



1 Pinta del mismo color la división con la multiplicación que se relaciona.

$40 \div 4 =$

$40 \div 5 =$



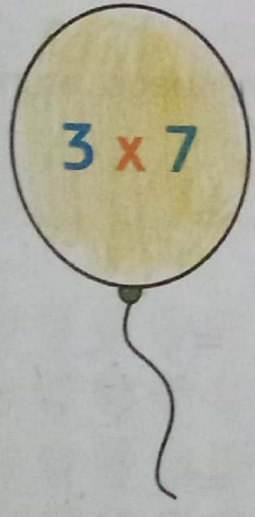



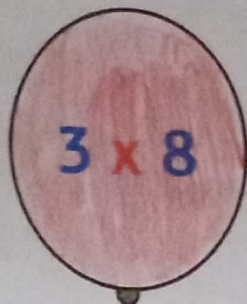

$21 \div 7 =$

$24 \div 8 =$

$12 \div 3 =$

$12 \div 6 =$

$81 \div 9 =$



2 Resuelve cada división. Luego, completa con la multiplicación relacionada.

a $30 \div 5 = 6$ porque $5 \times 6 = 30$

b $49 \div 7 = 7$ porque $7 \times 7 = 49$

c $63 \div 9 = 7$ porque $9 \times 7 = 63$

d $56 \div 8 = 7$ porque $8 \times 7 = 56$

e $72 \div 9 = 8$ porque $9 \times 8 = 72$

1 Una cada división con la sustracción sucesiva que permite resolverla.

$10 \div 2$ ○

$16 \div 4$ ○

$10 \div 5$ ●

$15 \div 3$ ○

$15 \div 5$ ○

○ $15 - 5 - 5 - 5$

● $10 - 5 - 5$

○ $16 - 4 - 4 - 4 - 4$

○ $15 - 3 - 3 - 3 - 3 - 3$

○ $10 - 2 - 2 - 2 - 2 - 2$

1 Tengo ocho guacamayos. ¿Cuántos grupos de dos guacamayos puedo formar?



4



3



2



1

Escribe en los recuadros las restas sucesivas que hiciste para resolver el ejercicio.