


Prueba Saber



- 7 Las coordenadas geográficas son un sistema de referencia que utiliza las dos coordenadas angulares, latitud (Norte y Sur) y longitud (Este y Oeste) y sirve para determinar los laterales de la superficie terrestre. Es decir que los términos correctos para hablar de ubicación geoespacial sería.
- a) Latitud y longitud.
 - b) Referencias y longitud.
 - c) Laterales y terrestre.
 - d) Longitud y laterales.
- 8 La línea del ecuador es una referencia para establecer la ubicación de cualquier punto de norte a sur, esta línea es el punto base de la latitud, la línea del ecuador es una línea.
- a) De referirse.
 - b) De lateralidad.
 - c) De cemento.
 - d) Imaginaria.
- 9 La latitud no solo es un punto que nos ayuda al momento de ubicarnos de norte a sur, esta también nos ayuda a entender las zonas latitudinales, encontramos zonas latitudinales bajas (no hay estaciones) zonas latitudinales medias (4 estaciones) zonas latitudinales altas (dos estaciones). En relación a esta información en Colombia se encuentra un clima con
- a) Cuatro estaciones.
 - b) Tres estaciones.
 - c) No tiene estaciones.
 - d) Dos estaciones.

8

Rejilla de respuestas

	1	2	3	4	5	6	7	8	9
	<input type="radio"/>	<input checked="" type="radio"/>	<input type="radio"/>	<input type="radio"/>	<input checked="" type="radio"/>	<input checked="" type="radio"/>	<input checked="" type="radio"/>	<input type="radio"/>	<input type="radio"/>
	<input checked="" type="radio"/>	<input type="radio"/>	<input type="radio"/>	<input checked="" type="radio"/>	<input type="radio"/>	<input type="radio"/>	<input type="radio"/>	<input type="radio"/>	<input type="radio"/>
	<input type="radio"/>	<input type="radio"/>	<input checked="" type="radio"/>	<input type="radio"/>	<input type="radio"/>	<input type="radio"/>	<input type="radio"/>	<input type="radio"/>	<input checked="" type="radio"/>
	<input type="radio"/>	<input type="radio"/>	<input type="radio"/>	<input type="radio"/>	<input type="radio"/>	<input type="radio"/>	<input type="radio"/>	<input checked="" type="radio"/>	<input type="radio"/>



ESPACIO GEO

Europa


Europa es el segundo mundo después de Oceanía; al sur con el mar Mediterráneo; al este con el mar Caspio; y al oeste con 10.530.751 kilómetros el 2% de la superficie d

El relieve de E

Europa presenta islas de diferentes media de uno

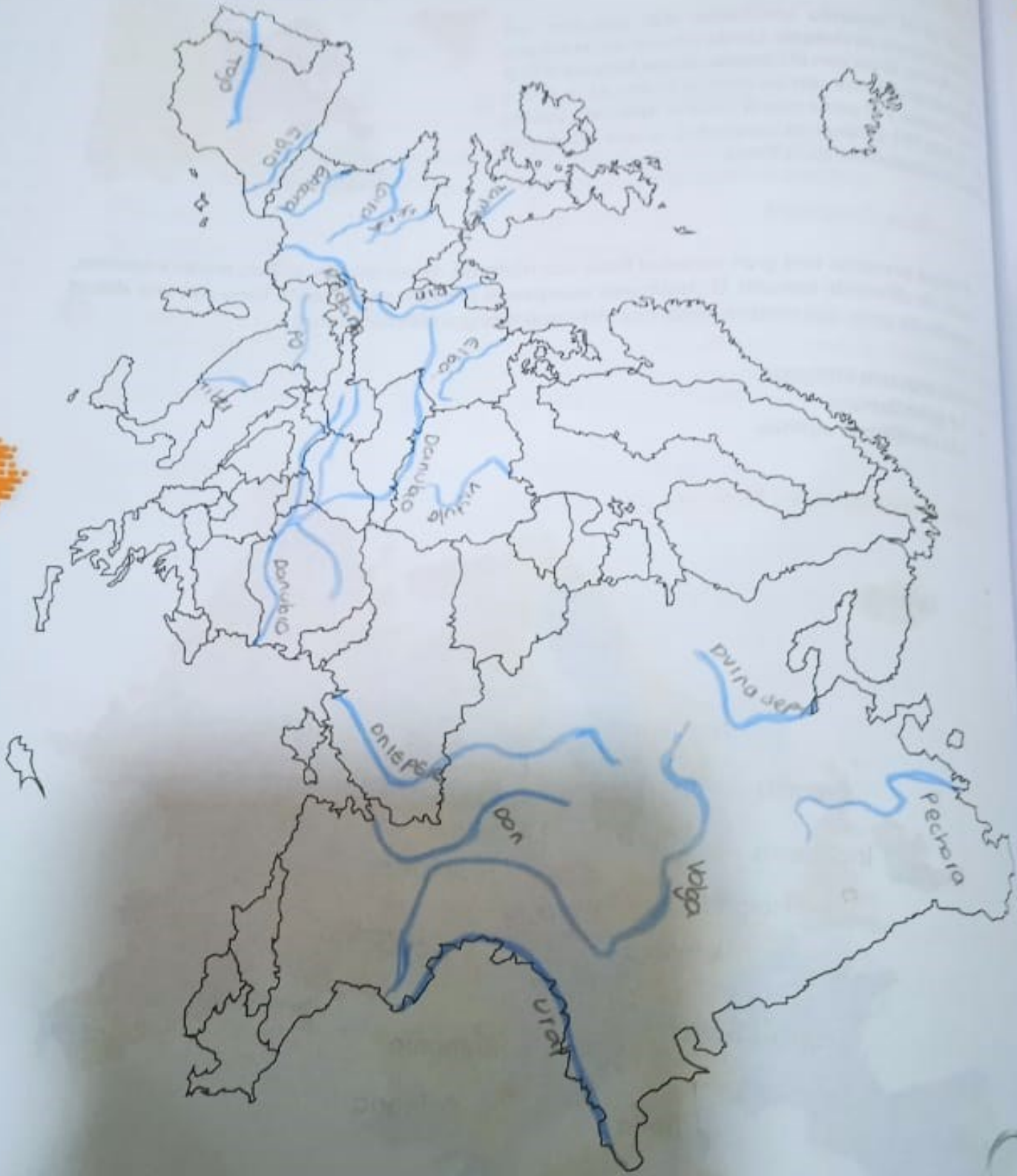
- » Los macizos
- » La gran llanura
- » Las cordilleras

División



Actividad

D En el siguiente croquis de Europa ubica los ríos más importantes del continente.



130

B Completa el c



	9	0
	R	
	E	
	C	
B	I	
0	A	

Horizont



Resuelve el crucigrama observando la ubicación del número en el croquis.

Handwritten crossword puzzle grid with the following words filled in:

- 1. AUSTRIA
- 2. ITALIA
- 3. ESPAÑA
- 4. POLONIA
- 5. RUSIA
- 6. ROMANIA
- 7. NORUEGA
- 8. SUECIA
- 9. DINAMARCA
- 10. FINLANDIA
- 11. GERMANIA
- 12. FRANCIA
- 13. REINO UNIDO

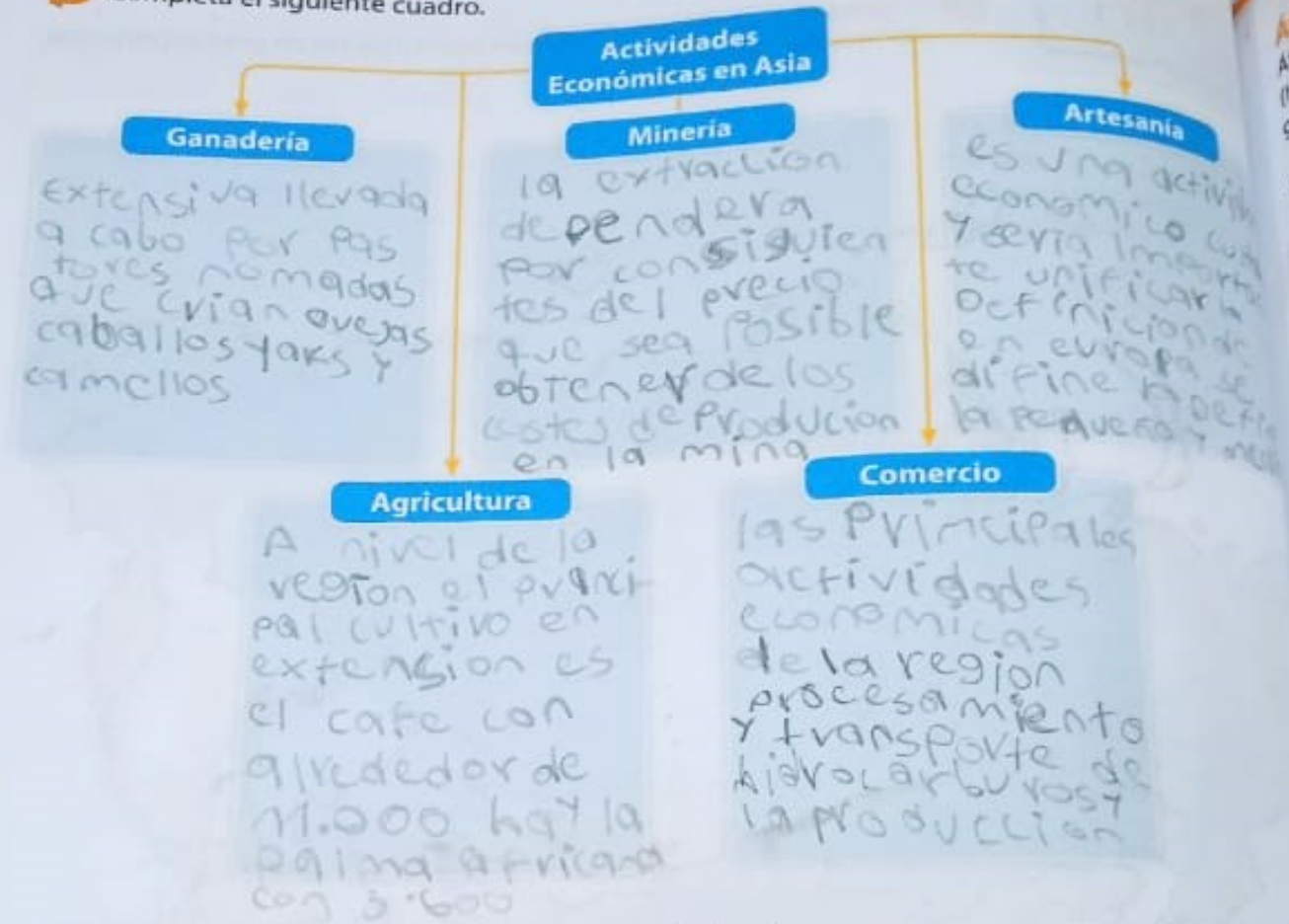


1 Colorea el mapa de Asia y ubica en este 10 países de gran importancia dentro del continente.



ón
cio)
morte
el Sur
am

2 Completa el siguiente cuadro.



3 ¿Por qué predominan en Asia los climas templados?

clima templado los principales tipos de clima templado de Asia son el continental tiene inviernos muy fríos

4 ¿Qué características presenta el sistema hidrográfico en Asia?

A pesar de su extensión Asia no tiene regiones de grandes aguas pero posee algunos de los lagos más importantes del mundo



1. ¿Qué rasgos característicos presenta la economía en el continente africano?

si el comercio internacional desea aumentar con el la producción y el efecto mundiales con todo lo que ello alcanza a...

2. ¿Qué tipos de climas se dan entre los trópicos? ¿Y en los extremos?

en la zona próximas a los trópicos especial en las costas occidentales de los continentes se presentan algunas regiones de climas áridos climas BW es decir semidesértico y de SE + etc respectivamente como con selva...

¿Cuál es el idioma que predomina en las regiones de África?

los idiomas más comunes del continente africanos son el francés y el inglés siendo los idiomas oficiales...

¿Cuáles son los ecosistemas principales de África?

desierto sahel. Desierto del Sahara. desierto de Namibia. Desierto Kalahari. desierto de Okavango

Investiga, ubica y colorea con el color correspondiente cada región.

- Región Sahariana
- Región Norte
- Región Occidental

- Región Central
- Región Oriental
- Región Sur



137
39

Productos	Principal producto	Economía	Cultura
	El maíz, el trigo, el arroz, el mijo, las papas y la yuca son los principales cultivos comerciales.	Petróleo minería metalurgia tala árboles estano	los tallados en roca petroglifos
	Bananas algodón maíz	minería metalurgia tala árboles	la influencia árabe y la religión islámica
	Cabenas granos papas dove	Petróleo gas petr	como su nombre indica la región de África central incluye los países
	Frijol café maíz plátano zapallo mango	Antofuquia caldas quindío	cultura tribus
	café y el arroz	región originaria que más creció en tres siglos	tribus
	maíz carne vacuna la cebosa	la economía de la región sudoriental desde la década	posee junto a África central algunas de las más antiguas del mundo

REGIÓN

REGIÓN SAHARIANA

REGIÓN CENTRAL

REGIÓN SUDORIENTAL