


Representar las fracciones como se lee / representar gráficamente
y escribir las siguientes cosas

fracción de

1) $\frac{5}{5}$

unidad




cinco quintos

Fracción


impropia

2) $\frac{12}{7}$




4) $\frac{13}{4}$

Fracción impropia



5) $\frac{8}{10}$ Fracción propia



3)