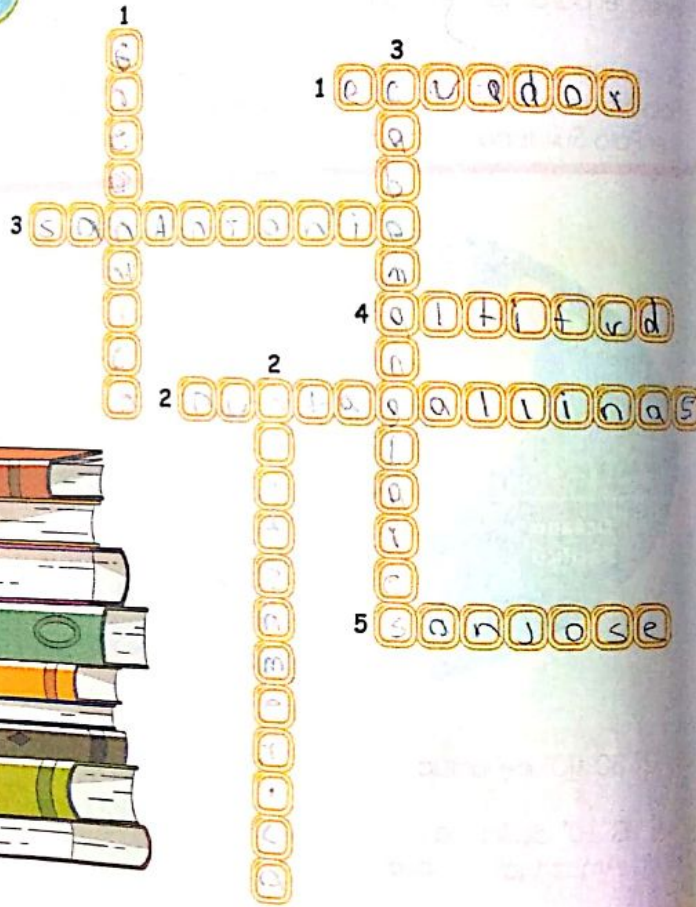




1 Responde el crucigrama de acuerdo a las pistas.



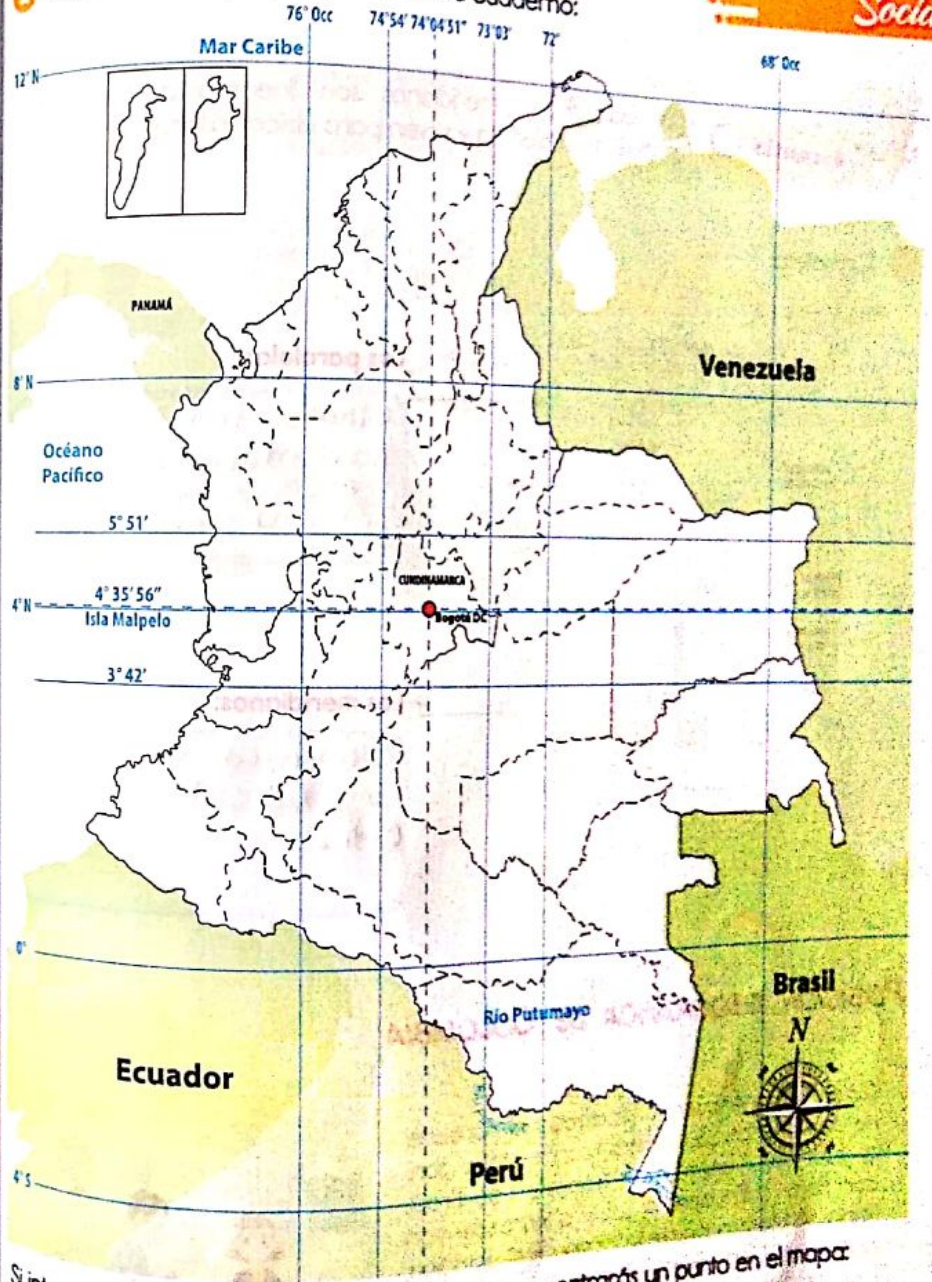
**HORIZONTAL**

- 1 Nombre del paralelo que atraviesa el país.
- 2 Punto extremo al norte en Colombia.
- 3 Punto extremo al sur de Colombia.
- 4 Tercera medida de la coordenada geográfica.
- 5 Punto extremo al oriente de Colombia.

**VERTICAL**

- 1 Nombre del meridiano, también llamado Meridiano Cero.
- 2 Punto cardinal en el que está ubicado Colombia.
- 3 Punto extremo al occidente de Colombia.

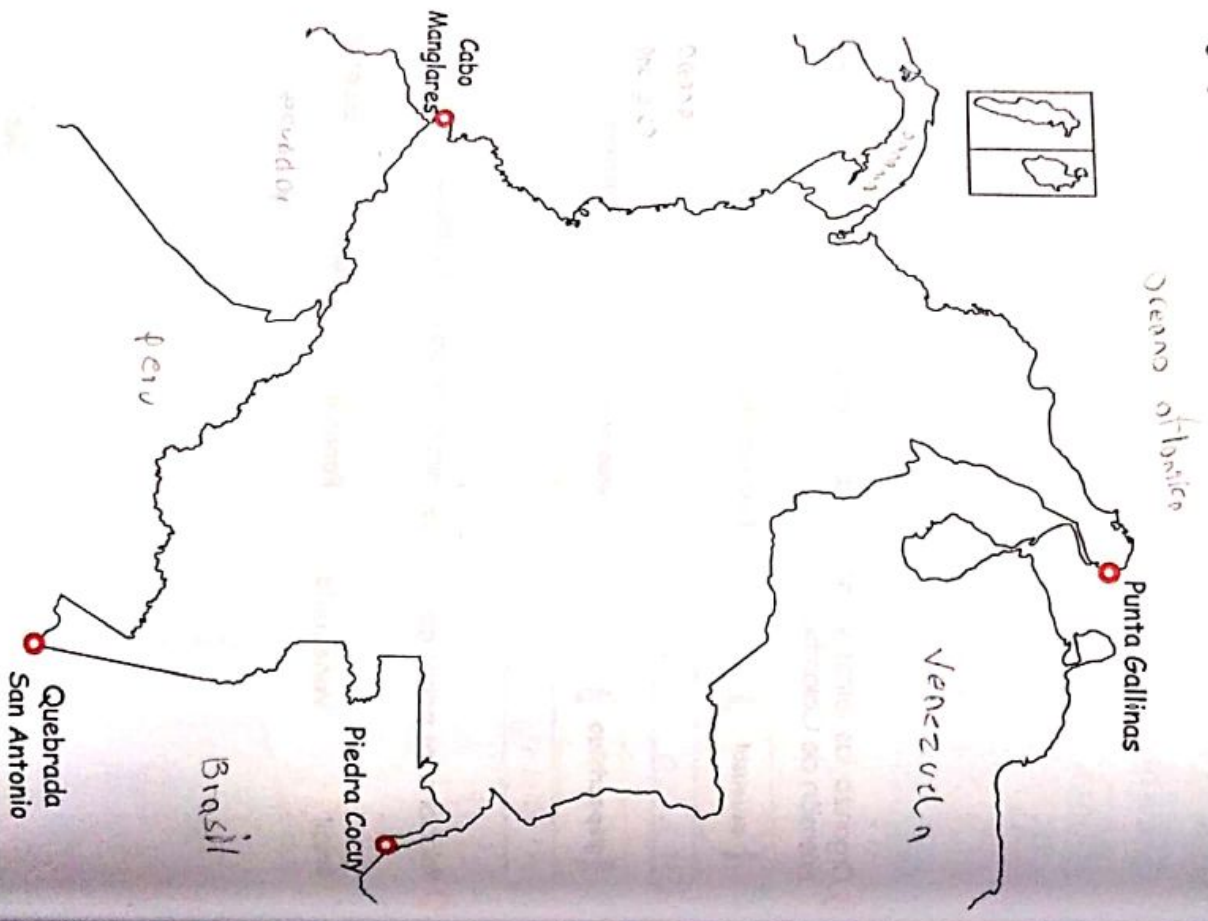
2 Observa el mapa y responde en tu cuaderno:



Si interseclas los paralelos con los meridianos encontrarás un punto en el mapa:

1 Ubica tu ciudad teniendo en cuenta la latitud y la longitud. Escribe su nombre.

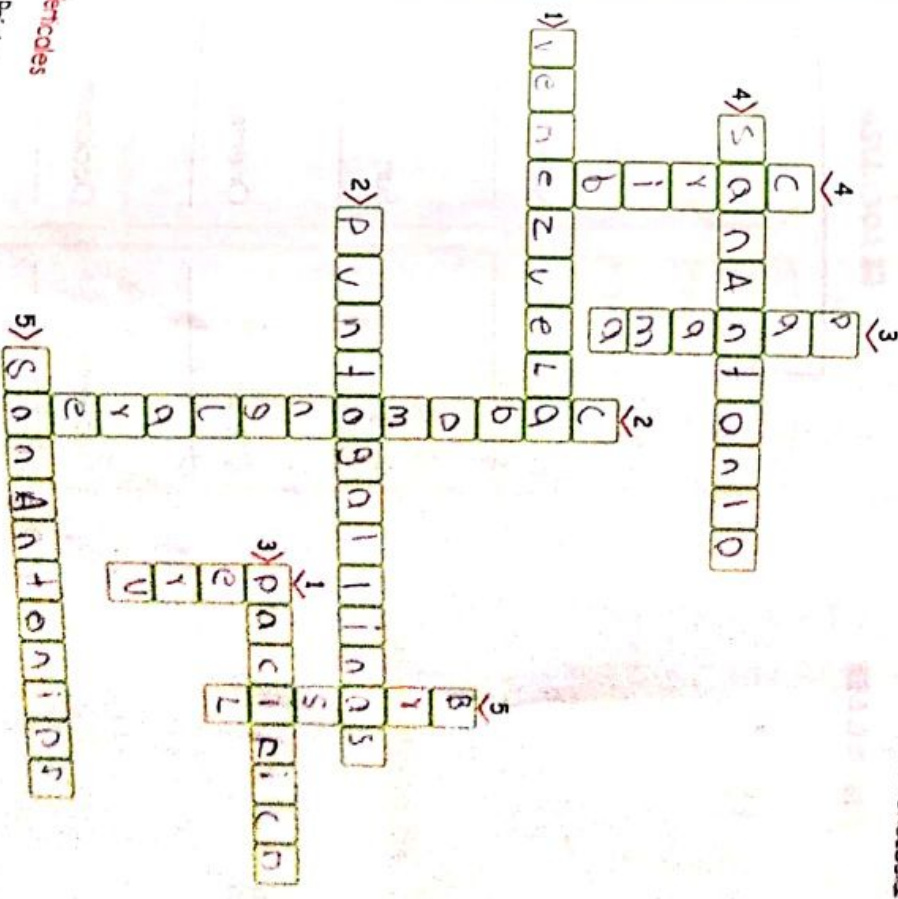
3 En el mapa representa las fronteras marítimas y terrestres, observe la posición geográfica de Colombia, y mire los puntos extremos de mi país.



0 Completa el crucigrama.

**Horizontales**

- 1 País con el que Colombia limita al oriente.
- 2 En el norte la posición geográfica del país, la punta lleva un curioso nombre de ave.
- 3 Océano que limita al occidente con Colombia, su nombre indica que es muy tranquilo.
- 4 La quebrada de este santo representa la latitud sur del país.
- 5 Longitud oriental, este punto también forma parte del límite con Venezuela.



**Verticales**

- 1 País con el que Colombia limita al sur.
- 2 Este cabo del occidente colombiano, represento la longitud del país, se encuentra en el departamento de Nariño.
- 3 País donde se encuentra el canal que conecta el Océano Pacífico con el Océano Atlántico, limita con Colombia al occidente.
- 4 El mar de la costa norte del país, límite marino.
- 5 País del mundial 2014, con el que Colombia limita al oriente.



1 ¿Cuál es el municipio donde vives?

Bogotá

2 ¿Qué es un municipio?

es la unidad más pequeña del país

3 ¿Qué es un departamento?

son unidades del país

4 Escribe el nombre de cuatro departamentos según las indicaciones.

Limitan con el Mar Caribe:

- a. Atlántico
- b. Boyacá
- c. Cesar
- d. Córdoba

No limitan con el mar ni con ningún país:

- a. Antioquia
- b. Bolívar
- c. Tolima
- d. Valle del Cauca

Limitan con el océano Pacífico:

- a. Atlántico
- b. Cauca
- c. Chocó
- d. Guajuviracana

5 Escribe en el mapa el nombre de los departamentos de Colombia



## RESGUARDOS INDÍGENAS

Los resguardos indígenas de tierra que obtienen los grupos indígenas a través de repartimientos, donaciones o compra.

En realidad la principal función del resguardo era mantener concentrados la mano de obra disponible para los colonos y facilitar el cobro de tributos.



Completo el siguiente esquema.

### RESGUARDOS INDÍGENAS

¿Cuáles son?

Se ubican en los departamentos:

Se ubican en los departamentos:

#### SU IMPORTANCIA

poseen el 50% de la tierra indígena

#### ACTIVIDADES

Es actividades agrícolas

#### SU MÁXIMA AUTORIDAD

es la asamblea

## TERRAS DE COMUNIDADES NEGRAS



¿Cuántas tierras de comunidades negras existen en Colombia? ¿Dónde?

Existen 4 polígonos de comunidades negras en Colombia.



¿Qué son los territorios colectivos? Explica su importancia.

Los territorios colectivos son tierras que pertenecen a una comunidad y se las reparten entre sus miembros.

