

En el siguiente cuadro escribe las características del sector primario en Colombia

Actividades del sector	Principales productos	Importancia para el país
Primario	- Agricultura - Ganadería - Minería	Nos permite tener relaciones comerciales con los demás países del mundo
Secundario	- Petrolero - Minería - Industria Textil	Aumenta la oferta de bienes y con esto mejora la calidad de vida
Terciario	- Servicio de comercio - Servicio de transporte	Representa el comercio y la industrialización, el empleo y fortalece el intercambio internacional

¿Qué actividades desarrollan las empresas del sector terciario en Colombia?

Salud, Telecomunicaciones, Transportes, Medicina, educación, Turismo y finanzas.

1. Consulta sobre las principales actividades del sector primario de tu departamento y elabora un friso destacando el producto de mayor importancia y los beneficios que le reporta al propio departamento y al país.
2. Elabora un cuadro de las industrias más representativas para la economía nacional y escribe una breve reseña de cada una. *En tu cuaderno*

RE

La Iglesia católica... a la mayoría de los diferentes estrategias tuvieron temor por la rituales de los indígenas africanos.

Por esta razón la Iglesia de la Inquisición perseguió a los paganos.



Figura de la Inquisición Católica



- a. Respetaron
- b. Toleraron la
- c. Discutieron
- d. Impusieron
- e. Se interesaron



2. Escribe a cuál etapa del proceso productivo corresponden las situaciones siguientes.

- Las personas disfrutan del agua y la electricidad que llega a sus hogares.  
Se desarrollan principalmente en la 1ª etapa.
- El algodón es utilizado para la elaboración de telas.  
Se necesitan transformaciones.
- Las empresas contratan tractomulas para transportar sus productos.  
Transportan los frutos y verduras.

3. Explica a qué sector de la economía corresponden las siguientes imágenes y argumenta tus respuestas.



**Ganadería:** La ganadería viene de algunos animales como los vacas, cerdos, aves, pecados y gallinas.



**Distribución de Alimentos:** Cuenta los camiones de transporte para llevar a diferentes lugares.

2. Consulta el nombre en tu departamento

Sector	Nombre
Primario	Agropecuario
Sekundario	Industria
Tercario	Comercio

3. ¿Qué importan?

Es...  
mas...  
poder...

3. Explica las causas

Debido a...  
de clima...  
una actividad...  
y por...  
que se...

2. Consulta el nombre de una empresa de cada sector económico que funcione en tu departamento, y elabora un cuadro comparativo como el siguiente.

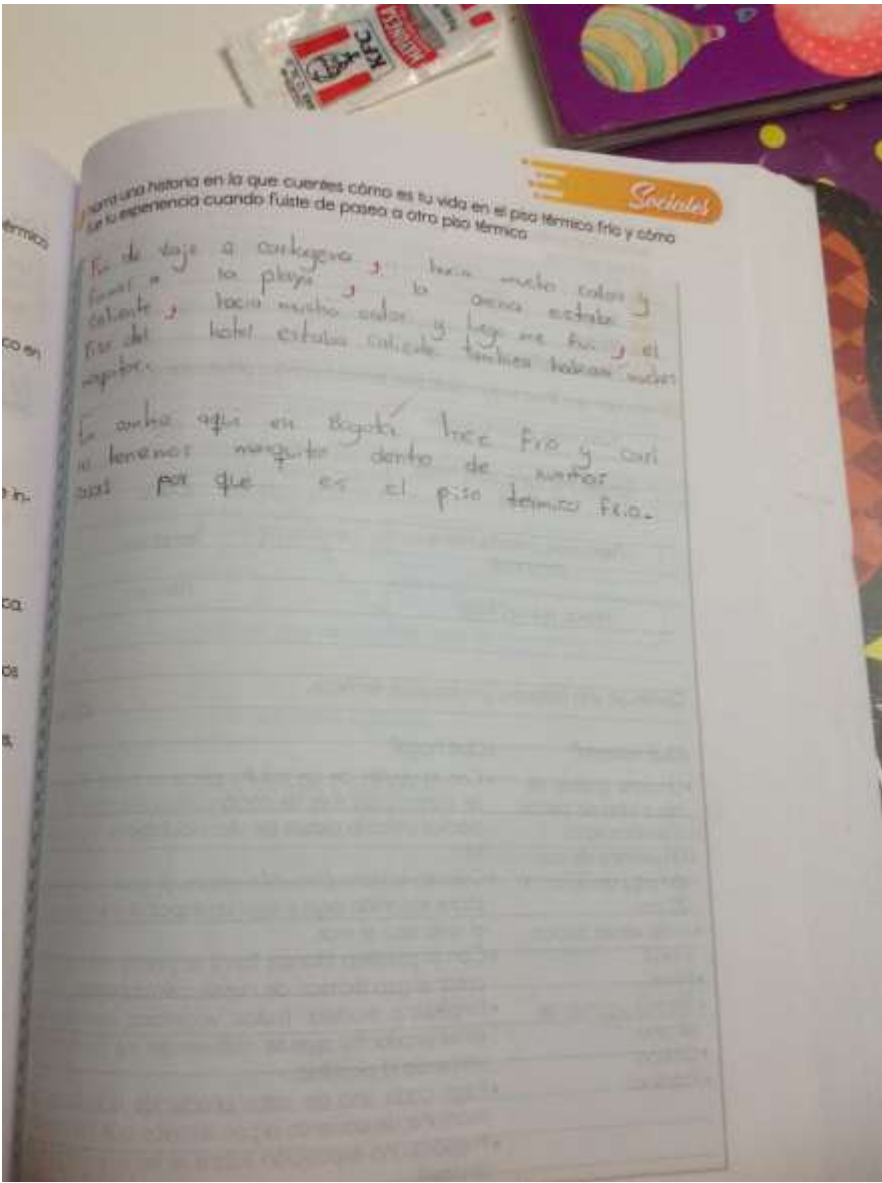
Sector	Nombre de la empresa	Producto	Beneficio para el departamento
Secor	ALPINA	LATIDOS Leche, queso, licuado	fuente de alimento para el nuestro departamento no necesario.
Secor	DAVILA	Pinos Fideos, papas, maizinas	los vende a todos en nuestro
Secor	RAMO	Pinos, queso, Pan, galletas	los vende en nuestro y en pinos.

3. ¿Qué importancia tiene la producción agrícola en Colombia?

Es muy importante porque nosotros dependemos  
de la comida, medicina y fabricar para  
poder vivir.

4. Explica las características de la ganadería colombiana.

Debido a que en Colombia hay una gran diversidad  
de climas y suelos la ganadería siempre ha sido  
una actividad tradicional, principalmente bovina, ovina  
y porcina, predomina la ganadería extensiva es decir  
se desarrolla en amplios terrenos.



Forma una historia en la que cuentes cómo es tu vida en el piso térmico frío y cómo  
es tu experiencia cuando fuiste de paseo a otro piso térmico

Sociales

Fuiste de viaje a Cartagena, hacía mucho calor y  
fueron a la playa, lo único que estaba  
caliente, hacía mucho calor y luego me fui, el  
piso del hotel estaba caliente también habían muchos  
aviones.

En un día que en Bogotá hace frío y casi  
si tenemos mangito dentro de un abrigo  
por que es el piso térmico frío.

• El pueblo cundinamarqués Villagómez se encuentra a 1575 m.s.n.m. ¿En qué piso térmico se encuentra?

- a) Frío
- b) Cálido
- c) Templado

• Aldana, un pueblo de Nariño se encuentra a 3073 m.s.n.m. ¿Cuál es el piso térmico que se encuentra?

- a) Frío
- b) Cálido
- c) Templado

• Responde Falso (F) o Verdadero (V) según corresponda.

En Colombia se presentan las cuatro estaciones: primavera, verano, otoño e invierno. **F**

Colombia recibe la misma intensidad de luz a lo largo del año. **F**

Colombia presenta dos temporadas climáticas: Una lluviosa y una estación seca. **V**

La diversidad de la flora y fauna en Colombia, se debe a los pisos térmicos y a los factores del clima. **V**

El país cuenta con un relieve diverso compuesto por llanuras, zonas montañosas, valles, depresiones, entre otras formas del relieve. **V**

• Relaciona cada piso térmico con los productos que se cosechan en cada uno.

- a) Páramo
- b) Frío
- c) Templado
- d) Cálido

d) Mango      b) Maíz      c) Café      e) Avena

d) Cacao      b) Curuba      d) Tomate      d) Arroz

d) Yuca      d) Breva      a) Lechuga      d) Naranja

b) Papa      d) Plátano

d) Algodón



• Narra una historia en la que fue tu experiencia cuando...

Fue de largo a...  
fueron a...  
Cálido...  
Piso del...  
respirar...

En cambio...  
no tenemos...  
cosas...  
por...

## TIERRAS DE COMUNIDADES NEGRAS

Sociales



1 ¿Cuántas tierras de comunidades negras existen en Colombia? Nómbralas.

Una basta de pulquerías son por de otros  
junto paz y la libertad



2 ¿Qué son los territorios colectivos? Explica su importancia.

Los territorios colectivos son figuras legales mediante  
las cuales se le reconocen la titularidad de tierras  
a pueblos indígenas.

## RESGUARDOS INDÍGENAS

Los resguardos indígenas de tierra que obtienen los grupos indígenas a través de repartimientos, donaciones o compras.

En realidad la principal función del resguardo era mantener concentradas la mano de obra disponible para los colonos y facilitar el cobro de tributos.



1 Completa el siguiente esquema.

### RESGUARDOS INDÍGENAS

¿cuáles son?

Añador San Mateo  
Agua Negra  
Agua Clara bella Luz

Se ubican en los departamentos:

Puerto Asís  
Metales  
Alto Baudó

#### SU IMPORTANCIA

Les otorgan a las comunidades un control inalienable, imprescriptible e inembargable organizado

#### ACTIVIDADES

Agricultura  
servicios  
fuente principal de ingresos  
artesanos

#### SU MÁXIMA AUTORIDAD

Líderes de la misma comunidad (Cabildo)

## TIERRAS DE COM...



San Mateo  
Juana po



2 ¿Qué son los...

Los tamb  
los cual  
a pue

# LOS PISOS TÉRMICOS

Sociales

Los pisos térmicos son zonas que tienen unas características climáticas especiales, como la altitud, la temperatura, el brillo solar y el viento. Los pisos térmicos son cinco: cálido, templado, frío páramo y nieves perpetuas.

zan un  
ndir el  
ón de  
po en  
ero el  
turas.

itado  
o país  
idad  
ndes  
ono  
as, la  
ano  
por

1 Escribe el nombre a cada piso térmico y los metros de cada uno.



2 Marca con una equis (X) la respuesta correcta

3 ¿Dónde en Cundinamarca se encuentra a 400 m.s.n.m. el piso térmico en el que se encuentra ubicado es:

- Páramo
- Frío
- Templado
- Cálido



1. ¿Cuál es el municipio donde vives?

Bogotá

2. ¿Qué es un municipio?

Menor de división y organiza el territorio de un estado para gestionar diferentes intereses comunes.

3. ¿Qué es un departamento?

División territorial de mayor magnitud que un municipio.

4. Escribe el nombre de cuatro departamentos según las indicaciones.

Limitan con el Mar Caribe:

- a. Atlántico
- b. Magdalena
- c. Guajira
- d. Sucre

No limitan con el mar ni con ningún país:

- a. Boyacá
- b. Meta
- c. Cesar
- d. Santander

Limitan con el océano Pacífico:

- a. Chocó
- b. Cauca
- c. Valle del Cauca
- d. Nariño

5. Escribe en el mapa el nombre de los departamentos que limitan con el departamento de Bogotá.



1. Escribe en el mapa el nombre de los departamentos de Colombia





Completa el crucigrama



VERTICAL

- 1. Capital del Chocó
- 2. Capital del Cauca
- 5. Capital de Amazonas
- 7. Capital de Bolívar
- 8. Capital de Antioquia
- 9. Capital de la Guajira
- 11. Capital de Guanía
- 14. Capital de Vaupés
- 15. Capital de Caquetá
- 20. Capital de Risaralda
- 22. Capital de Boyacá
- 23. Capital de Tolima
- 24. Capital de Putumayo

HORIZONTAL

- 3. Capital de Norte de Santander
- 4. Capital de Nariño
- 5. Capital de Casanare
- 8. Capital de Córdoba
- 10. Capital del Cesar
- 12. Capital de Cundinamarca
- 13. Capital del Atlántico
- 16. Capital del Valle del Cauca
- 18. Capital del Meta
- 19. Capital de Sucre
- 21. Capital de Magdalena
- 24. Capital de Caldas
- 25. Capital de Santander
- 26. Capital del Huila
- 27. Capital de Arauca



1. Escribe el nombre de los lugares ubicados en el norte de Santander: Cúcuta, Casanare, Huila, Boyacá, Putumayo, Tolima.

2. Busca y escribe el nombre del lugar de las aves.

3. Localiza y coloriza con rojo dos animales especiales. Escribe sus nombres.

4. Consulta la ubicación de los territorios indígenas colorados con verde.

5. ¿Cómo se llama el departamento de Colombia?

6. ¿Cuál es el departamento de Cundinamarca?



Los paralelos y meridianos son líneas imaginarias que atraviesan el planeta y sirven para ubicar diferentes lugares.

1. Completa:



Los paralelos:

líneas que nos ayudan

Los meridianos:

líneas para ubicar

### POSICIÓN GEOGRÁFICA DE COLOMBIA

Colombia se encuentra localizada al noroeste de Suramérica. Sus límites continentales son: al este con Venezuela, al sudeste con Brasil, con Perú y Ecuador al sur y al noroeste con Panamá. Marítimamente limita con Haití, Jamaica, Honduras, Costa Rica, Nicaragua y República Dominicana.



2. Indaga: ¿Por qué se dice que Colombia ocupa la parte del Sur y la del Norte?

Colombia ocupa la parte del Sur y la del Norte debido a que por el mar Caribe la cordillera de los Andes se divide en dos partes.

3. Organiza las letras y encuentra la extensión de Colombia.

COLOMBIA

SUBSUELO

PIÉPACHIAS

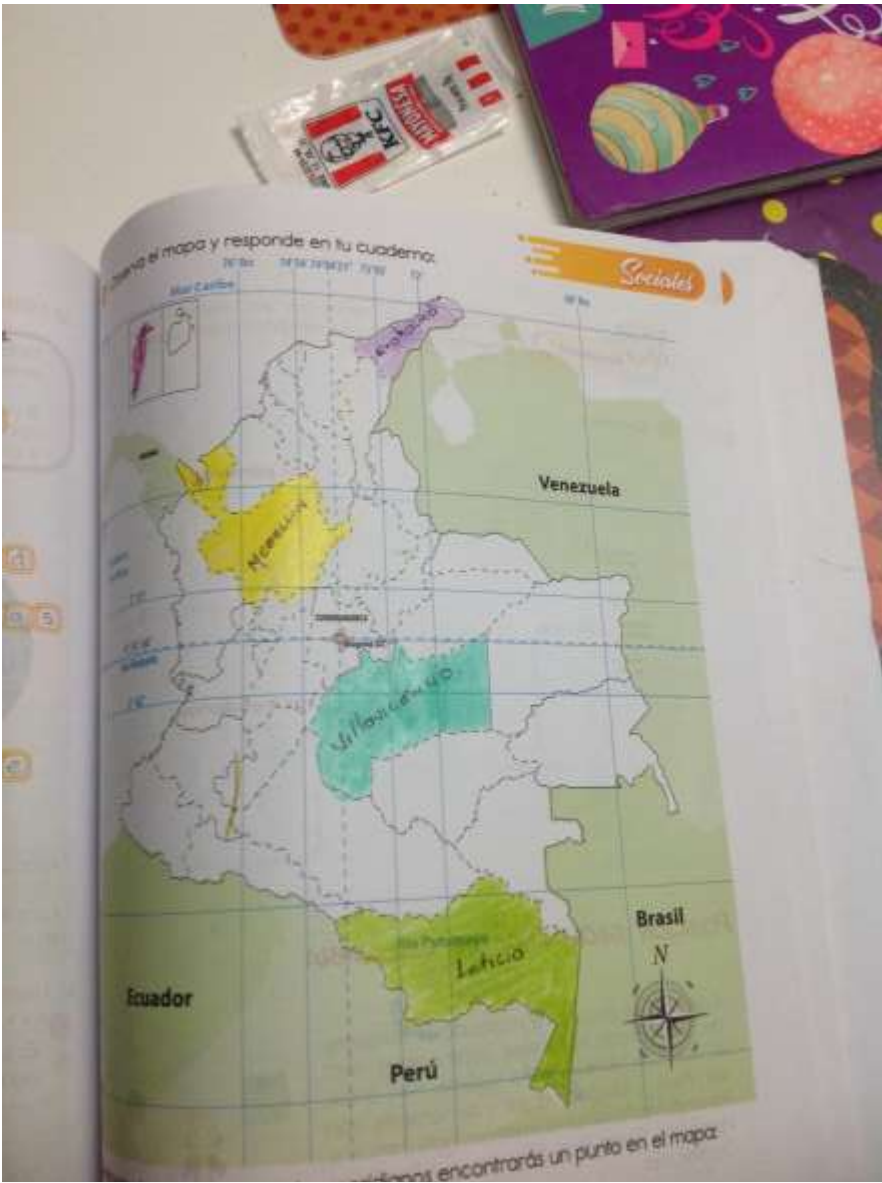
MECHINÉLAGO

4. Relaciona los países con Colombia.

Brasil

Venezuela

Noroccidente



... el mapa y responde en tu cuaderno:

Sociales

Ecuador

Venezuela

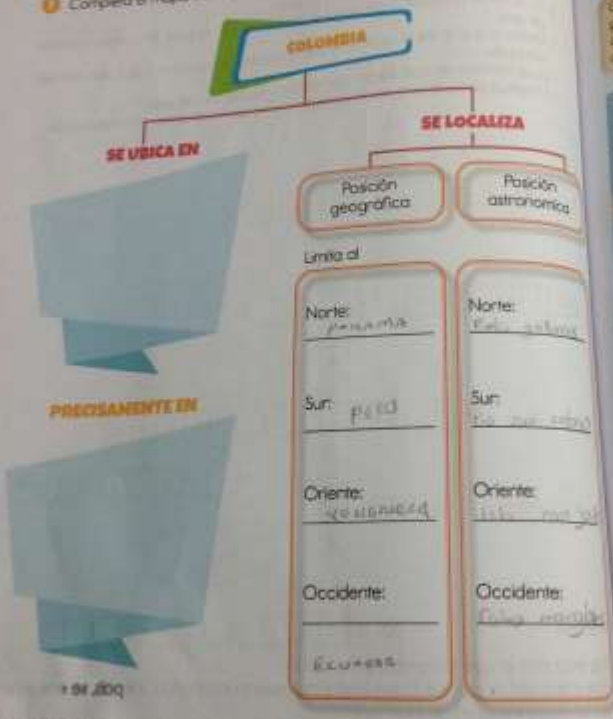
Brasil

N

Perú

... encontrarás un punto en el mapa:

1. Completa el mapa conceptual según la información anterior:



**ORGANIZACIÓN TERRITORIAL**

Gobernar a Colombia no es partes más pequeñas. Esta división parte se conoce como de entidades territoriales que

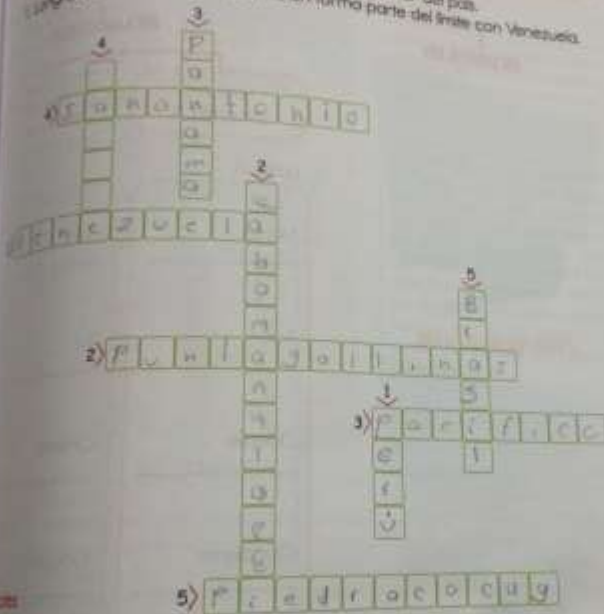


**Las reserwas indígenas**  
 Son las áreas habitadas por el pueblo indígena que se rigen por sus propias leyes y se beneficia del reconocimiento de la Constitución de 1991. El departamento de Vaupés de habitantes indígenas con

Completa el crucigrama.

Palabras clave

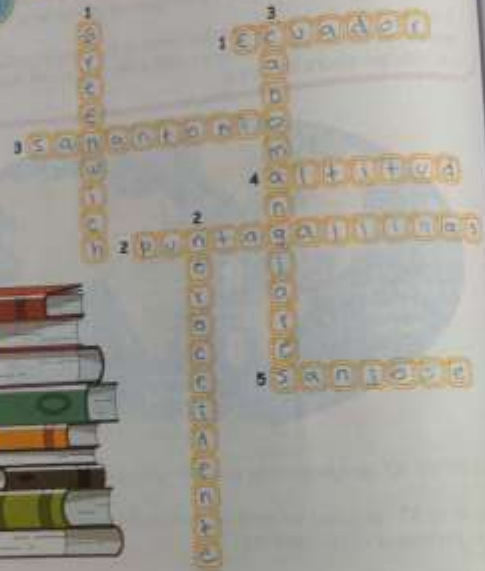
1. País con el que Colombia limita al oriente.
2. En el norte la posición geográfica del país, la punta lleva un curioso nombre que dice...
3. Océano que limita al occidente con Colombia, su nombre indica que es muy tranquilo.
4. La quebrada de este santo representa la latitud sur del país.
5. Longitud oriental, este punto también forma parte del límite con Venezuela.



1. País con el que Colombia limita al oriente.
2. En el norte la posición geográfica del país, la punta lleva un curioso nombre que dice...
3. Océano que limita al occidente con Colombia, su nombre indica que es muy tranquilo.
4. La quebrada de este santo representa la latitud sur del país.
5. Longitud oriental, este punto también forma parte del límite con Venezuela.



Responde el crucigrama de acuerdo a las pistas.




**HORIZONTAL**

- 1. Nombre del paralelo que atraviesa el país.
- 2. Punto extremo al norte en Colombia.
- 3. Punto extremo al sur de Colombia.
- 4. Tercera medida de la coordenada geográfica.
- 5. Punto extremo al oriente de Colombia.

**VERTICAL**

- 1. Nombre del meridiano, también llamado Meridiano Cero.
- 2. Punto cardinal en el que está ubicada Colombia en Suramérica.
- 3. Punto extremo al occidente de Colombia.

Observa el mapa



Ecu

- 1. Si intersectas la...
- 2. Ubica tu c...
- 3. Ubica y e nombre.