

13 de agosto del 2021
Luz
Luz


1



nueve cuartos



seis octavos



cinco quintos

2

- qué fracción representan los globos morados

$\frac{5}{10}$

- qué fracción representan los globos rojos.



$$\frac{5}{18}$$

- qué fracción representan los globos amarillos.

$$\frac{4}{18}$$

≡ CONVERTIR A MIXTO

$$\frac{10}{3}$$



$$3\frac{1}{3}$$