

trabajo autónomo

11 de agosto del 2021

1 Representa las fracciones indicadas. Determina si son propias o impropias.

191
47
48

$$\frac{16}{9}$$

$$\frac{3}{5}$$

$$\frac{1}{8}$$

$$\frac{11}{3}$$


$$\frac{7}{9}$$

$$\frac{4}{3}$$

$$\frac{16}{9}$$




$$\frac{3}{5}$$



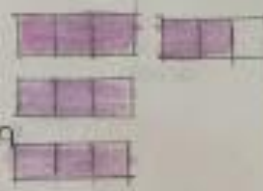
impropia

propia

$$\frac{1}{8}$$



$$\frac{11}{3}$$



propia

impropia

$$\frac{7}{9}$$



$$\frac{4}{3}$$



propia

impropia

5 Observa las cantidades de cada producto que compró María en el supermercado. Escribe la fracción que representa cada producto y si es propia o impropia.

Cinco cuartos de kilo de banana



$\frac{5}{4}$ impropia

Doce cuartos de kg de naranja



$\frac{2}{4}$ Propia

Un octavo de litro de aceite de oliva



$\frac{7}{8}$ Propia

Cuatro tercios de kilo de pollo



$\frac{4}{3}$ impropia

Medio kilo de carne



$\frac{1}{2}$ Propia

Un cuarto de kilo de queso



$\frac{1}{4}$ Propia

6 En un evento Daniel repartió $\frac{1}{4}$ de torta. Representa la situación con un dibujo.

