

# UBICACIÓN DE COLOMBIA EN EL MUNDO

## COLOMBIA EN EL MUNDO

### Ubicación astronómica de Colombia

La posición astronómica permite localizar un lugar en la superficie del planeta (meridianos y paralelos).


La posición astronómica se refiere a la ubicación del país, teniendo en cuenta los meridianos y los paralelos, es decir, la última parte del territorio en los cuatro puntos cardinales, de acuerdo a las coordenadas geográficas, estas se miden en grados, minutos y segundos. Por ejemplo  $77^{\circ} 25' 35''$ .

El punto extremo de Colombia al norte es Punta Gallinas con  $12^{\circ} 26' 46''$ . Latitud norte en la Guajira.

El sur el punto extremo es la desembocadura del río San Antonio con  $4^{\circ} 12' 30''$ , donde la quebrada desemboca en el río Amazonas. Latitud sur, en el Amazonas.

Al oriente es la Isla de San José en el Río Negro con  $60^{\circ} 50' 54''$ , frente a la Piedra del Cocuy, en el departamento de Guanía. Límite común entre Colombia, Brasil y Venezuela. Longitud oriental.

Al occidente Cabo Manglares en el departamento de Nariño con  $79^{\circ} 02' 33''$ . Longitud occidental, donde el río Mira desemboca en el Océano Pacífico. Longitud occidental.



1 Observa el siguiente mapa y responde.



¿Cuáles son los puntos extremos del territorio colombiano según la latitud?

San Andrés  $40^{\circ} 12' 30''$


¿Cuáles son los puntos extremos del territorio colombiano según la longitud?

San Juan  $79^{\circ} 02' 33''$





1 Responde el crucigrama de acuerdo a las pistas.



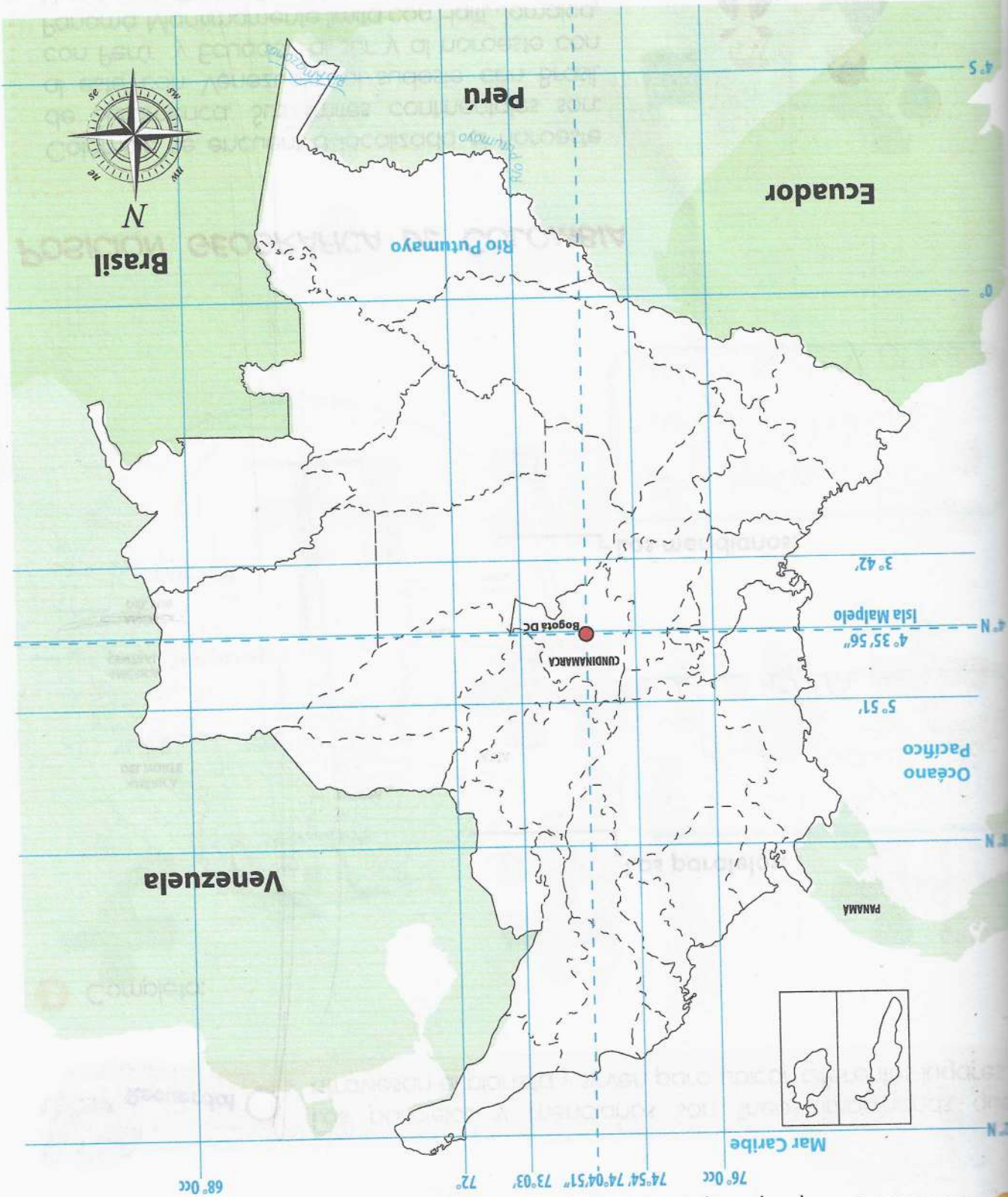
**HORIZONTAL**

- 1. Nombre del paralelo que atraviesa el país.
- 2. Punto extremo al norte en Colombia.
- 3. Punto extremo al sur de Colombia.
- 4. Tercera medida de la coordenada geográfica.
- 5. Punto extremo al oriente de Colombia.

**VERTICAL**

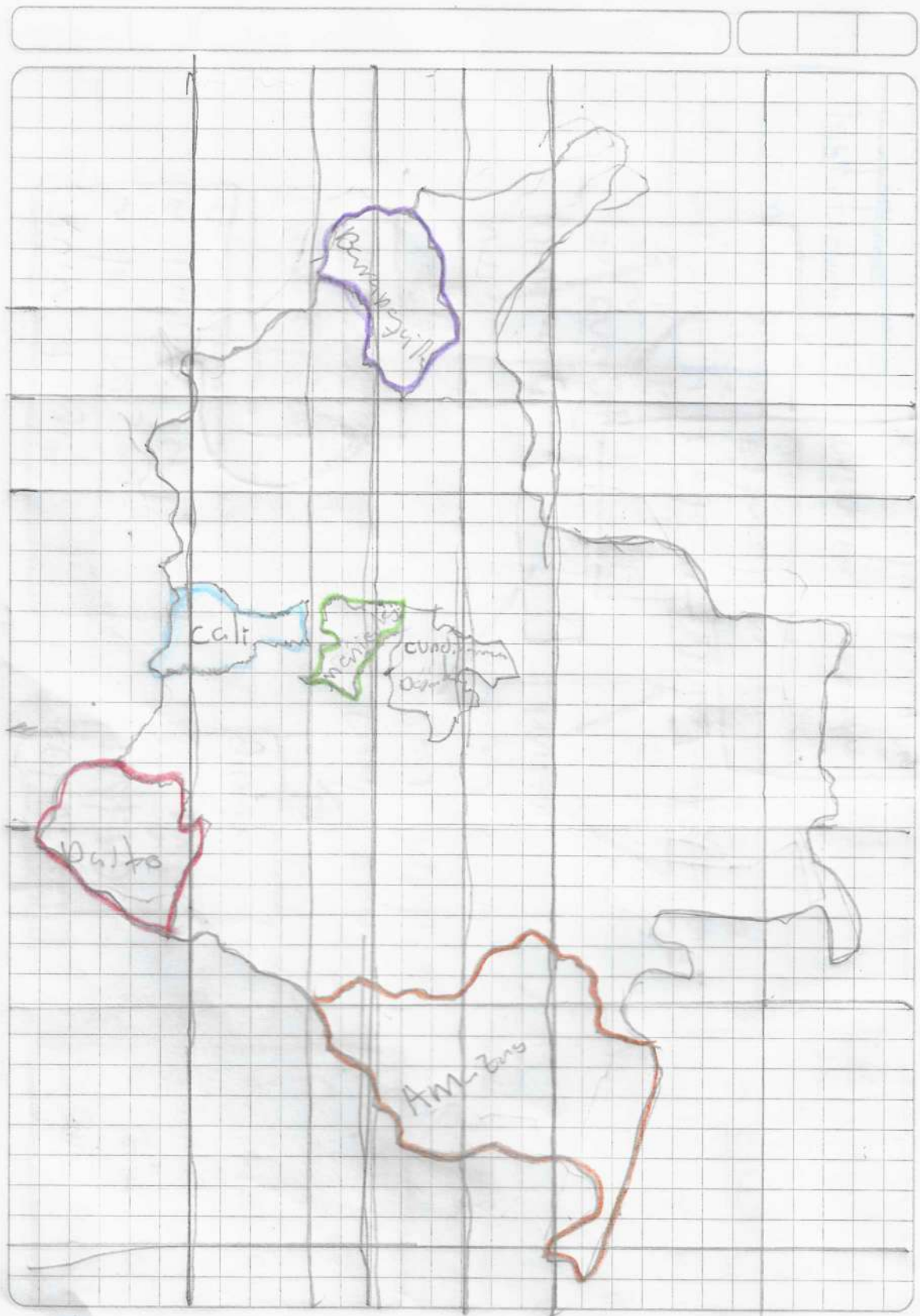
- 1. Nombre del meridiano, también llamado Meridiano Cero.
- 2. Punto cardinal en el que está ubicado Colombia en Suramérica.
- 3. Punto extremo al occidente de Colombia.

3. Si intersectas los paralelos con los meridianos encontraras un punto en el mapa:  
 a. Ubica tu ciudad teniendo en cuenta la latitud y la longitud  
 b. Ubica y colorea 5 ciudades mas de Colombia que no conozcas. Escribe su nombre.



2. Observa el mapa y responde en tu cuaderno:



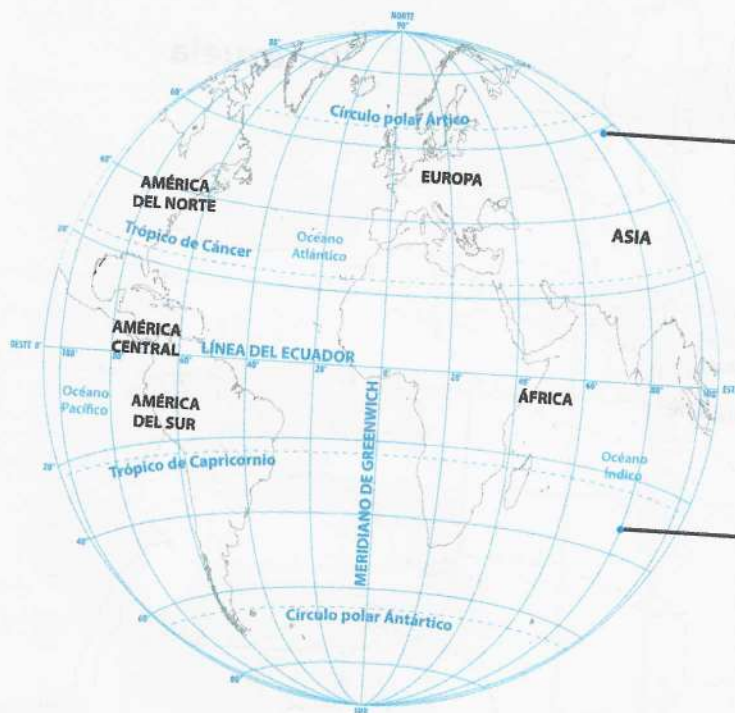




**Recuerda!**

Los paralelos y meridianos son líneas imaginarias que atraviesan el planeta y sirven para ubicar diferentes lugares.

**3** Completa:



**Los paralelos:**

Las líneas que van de izquierda a derecha una junto a la otra del ecuador.

**Los meridianos:**

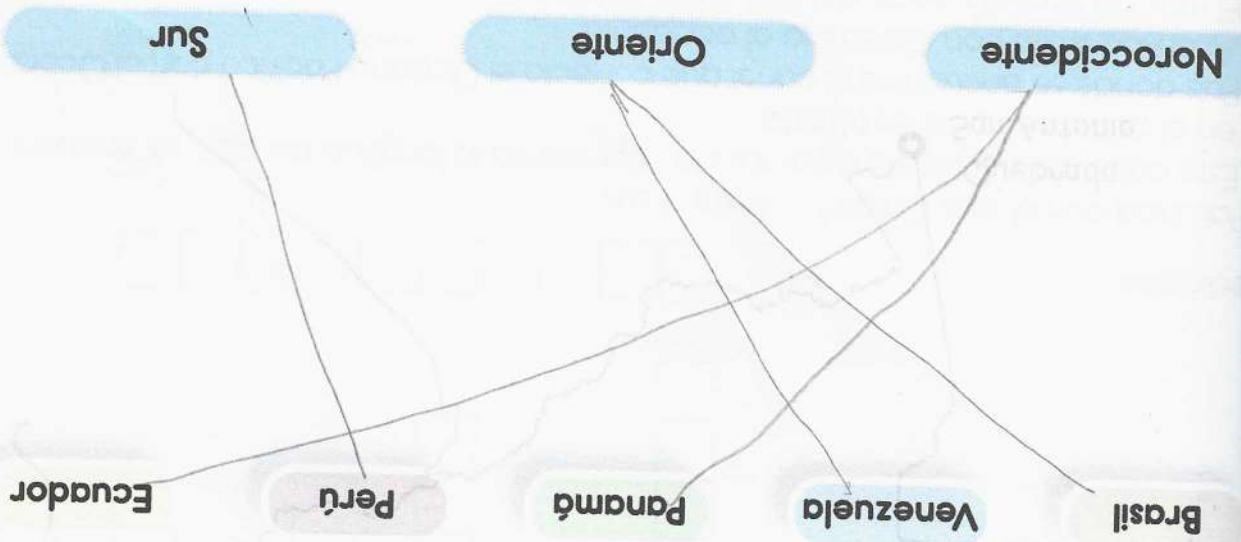
De arriba hacia abajo atraviesan el polo norte y el polo sur.

## POSICIÓN GEOGRÁFICA DE COLOMBIA

Colombia se encuentra localizada al noroeste de Suramérica. Sus límites continentales son: al este con Venezuela, al sudeste con Brasil, con Perú y Ecuador al sur y al noroeste con Panamá. Marítimamente limita con Haití, Jamaica, Honduras, Costa Rica, Nicaragua y República Dominicana.







1 Relaciona los países con los que limita Colombia con su ubicación limítrofe.

<input type="text"/>	<input type="text"/>	<input type="text"/>
glépachtiao	netoacntini	Territoriales
<input type="text"/>	eriterroralis	extension
osensbi	amcérarsu	nónisteex
<input type="text"/>	Sur América	<input type="text"/>
<input type="text"/>	<input type="text"/>	<input type="text"/>

3 Organiza las letras y encontrarás palabras relacionadas con la ubicación y extensión de Colombia.

Colombia ocupa la parte septentrional de América del sur y lo comprnde un grande llano de badiwuridas y caratuhi debido a su clima tropical este influa crado por el mar Caribe y Ocano Pacífico la América y la mayoria de cordillera de los Andes

2 Indaga: ¿Por qué se dice que Colombia es el país más septentrional de América del sur?