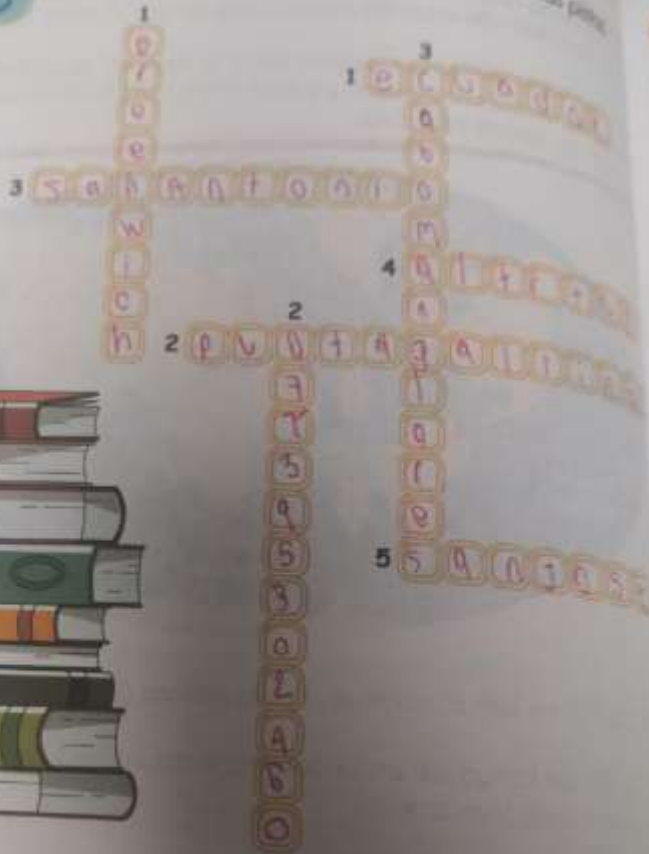




1 Responde el crucigrama de acuerdo a las pistas.



HORIZONTAL

1. Nombre del paralelo que atraviesa el país.
2. Punto extremo al norte en Colombia.
3. Punto extremo al sur de Colombia.
4. Tercera medida de la coordenada geográfica.
5. Punto extremo al oriente de Colombia.

VERTICAL

1. Nombre del meridiano, también llamado Meridiano Cero.
2. Punto cardinal en el que está ubicado Colombia en Suramérica.
3. Punto extremo al occidente de Colombia.



Los paralelos y meridianos son líneas imaginarias que atraviesan el planeta y sirven para ubicar diferentes lugares.

Completa



Los paralelos:

círculo polar

Los meridianos:

océano Índico

POSICIÓN GEOGRÁFICA DE COLOMBIA

Colombia se encuentra localizada al noroeste de Suramérica. Sus límites continentales son: al este con Venezuela, al sudeste con Brasil, con Perú y Ecuador al sur y al noroeste con Panamá. Marítimamente limita con Haití, Jamaica, Honduras, Costa Rica, Nicaragua y República Dominicana.



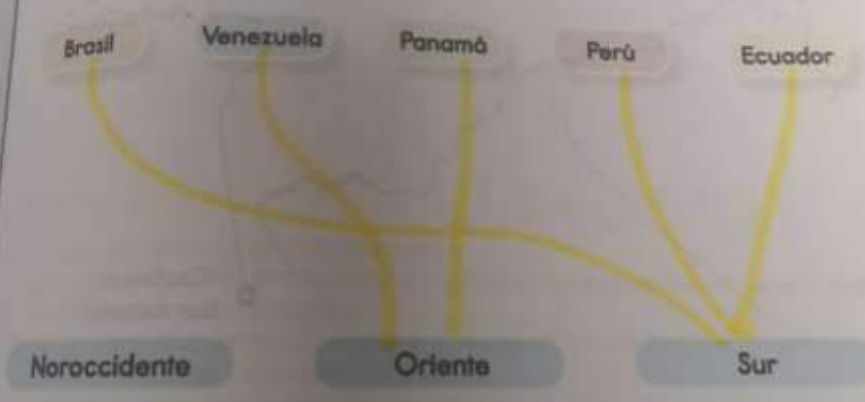
Indica afor que se dice que Colombia es el país más septentrional de América del Sur?

En los barcos llora de latitudinal

Organiza las letras y encontraras palabras relacionadas con la ubicación y extensión de Colombia.

asueabl	ertertorals	amóirorSu
subspesv	TERMINALES	Sotamerica
glápachilio	netoocntinl	nónisteex
ditchiPievago	continecial	extensior

Relaciona los países con los que limita Colombia con su ubicación limítrofe.



Completa el crucigrama

1. País con el que Colombia limita al oriente.
2. En el norte la posición geográfica del país, la punta lleva un curioso nombre de ave.
3. Océano que limita al occidente con Colombia, su nombre indica que es muy tranquila.
4. La quebrada de este santo representa la latitud sur del país.
5. Longitud oriental, este punto también forma parte del límite con Venezuela.

Crucigrama completado:

4) S ANANÍONIB
 r
 i
 b

3) P UNTAGALLINAS
 b
 o
 m
 a
 p
 a
 r
 e

5) ISLASANJOSE

2) P UNTAGALLINAS
 b
 o
 m
 a
 p
 a
 r
 e

1) ISLASANJOSE

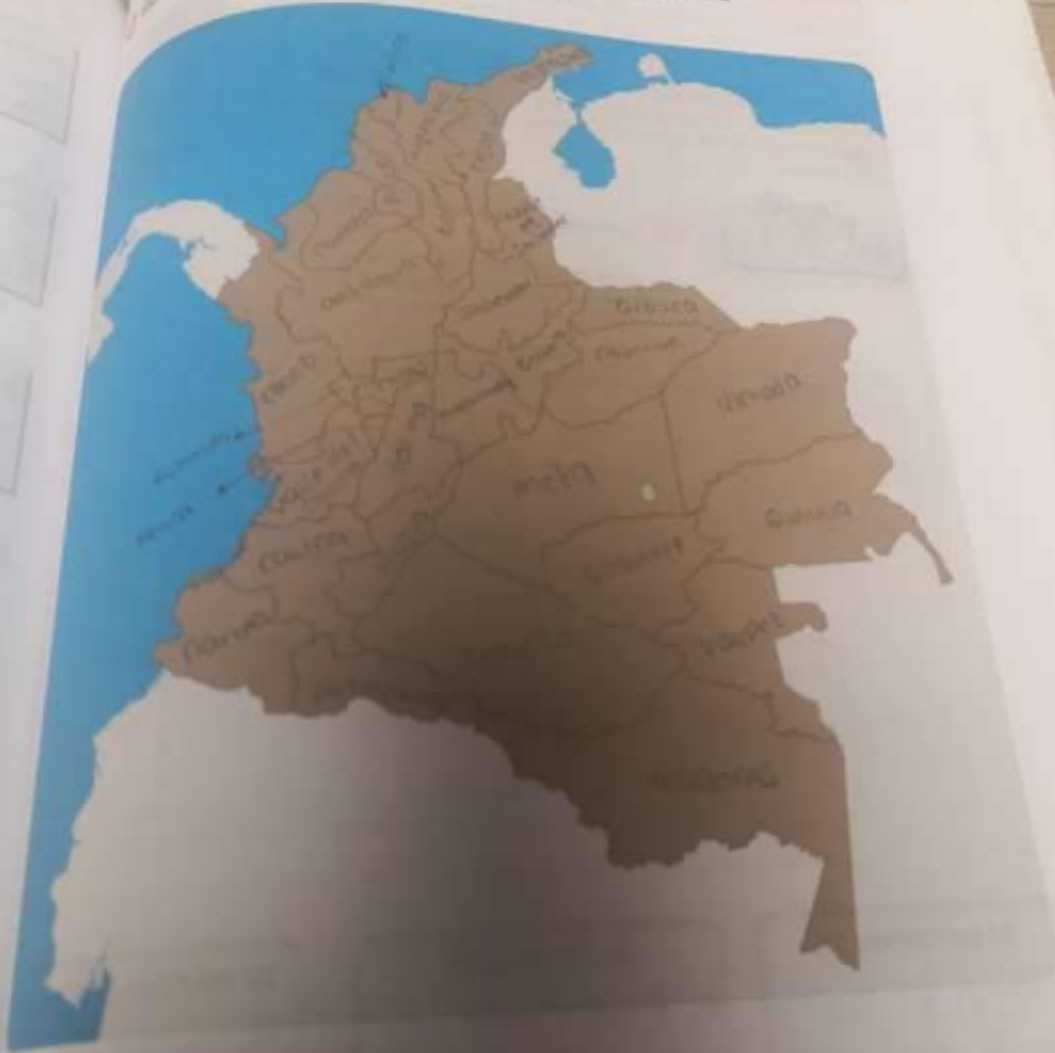
3) PACÍFICO
 e
 r
 ú

Horizontales

1. País inca con el que Colombia limita al sur.
2. Este cabo del occidente colombiano, representa la longitud del país, se encuentra en el departamento de Nariño.
3. País donde se encuentra el canal que conecta el Océano Pacífico con el Océano Atlántico, limita con Colombia al occidente.
4. El mar de la costa norte del país, límite marino.
5. País del mundial 2014, con el que Colombia limita al oriente.

Colocar en el mapa el nombre de los departamentos de Colombia

Sociales



RESGUARDOS INDÍGENAS

Los resguardos indígenas de tierra que obtienen los grupos indígenas a través de repartimientos, donaciones o compras.

En realidad la principal función del resguardo era mantener concentradas la mano de obra disponible para los colonos y facilitar el cobro de tributos.



1 Completa el siguiente esquema.

RESGUARDOS INDÍGENAS

¿cuáles son?

mantener concentrado la mano de obra

Se ubican en los departamentos:

agua Bella luz, agua negra, agua negra

SU IMPORTANCIA

Proogen el 80% de la biodiversidad

ACTIVIDADES

la agricultura
caza Pesca

SU MÁXIMA AUTORIDAD

la asamblea



ema

de

a

XIMA AUTORIDAD

samolea

TERRAS DE COMUNIDADES NEGRAS



1 ¿Cuántas tierras de comunidades negras existen en Colombia? Nómbralas.

Handwritten notes and a grid for listing information.

Sociales



2 ¿Qué son los territorios colectivos? Explica su importancia.

Figuras legales mediante las cuales se los reconoce
la titularidad de tierras y pueblos

• El pueblo cundinamarqués Világomez se encuentra a 1575 m.s.n.m. ¿En qué piso térmico se encuentra?

- Frio
- Cálido
- Paramo
- Templado

• Además, un pueblo de Nariño se encuentra a 3013 m.s.n.m. ¿Cuál es el piso térmico al que se encuentra?

- Frio
- Cálido
- Paramo
- Templado

• Responde Falso (F) o Verdadero (V) según corresponda.
En Colombia se presentan las cuatro estaciones: primavera, verano, otoño e invierno. V

Colombia recibe la misma intensidad de luz a lo largo del año. F

Colombia presenta dos temporadas climáticas: Una lluviosa y una estación seca. V

La diversidad de la flora y fauna en Colombia, se debe a los pisos térmicos y a los factores del clima. V

El país cuenta con un relieve diverso compuesto por llanuras, zonas montañosas, valles, depresiones, entre otras formas del relieve. V

• Relaciona cada piso térmico con los productos que se cosechan en cada uno.

<input checked="" type="checkbox"/> Paramo	<input checked="" type="checkbox"/> Frio	<input checked="" type="checkbox"/> Templado	<input checked="" type="checkbox"/> Cálido
<input checked="" type="checkbox"/> Mango	<input checked="" type="checkbox"/> Malt	<input checked="" type="checkbox"/> Café	<input checked="" type="checkbox"/> Arveja
<input checked="" type="checkbox"/> Yuca	<input checked="" type="checkbox"/> Cacao	<input checked="" type="checkbox"/> Curuba	<input checked="" type="checkbox"/> Arroz
<input checked="" type="checkbox"/> Breva	<input checked="" type="checkbox"/> Lechuga	<input checked="" type="checkbox"/> Naranja	<input checked="" type="checkbox"/> Mandarina
<input checked="" type="checkbox"/> Papa	<input checked="" type="checkbox"/> Plátano		
<input checked="" type="checkbox"/> Algodón			







• Narra una historia en la que fue tu experiencia cuando...

30 Una vez fuí
frio todo el
que por fin fuí
que poner cho

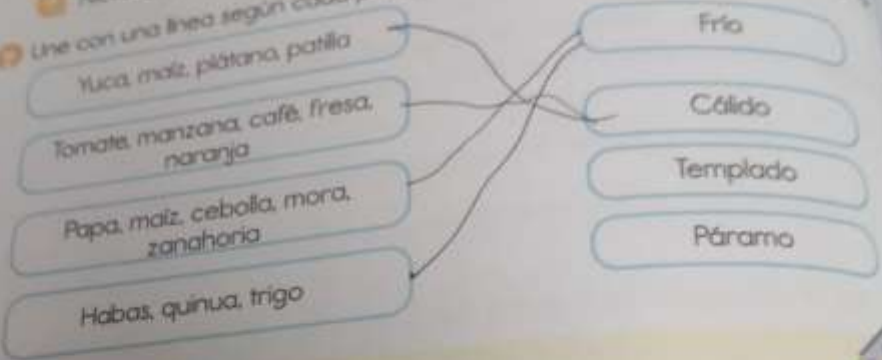
... una historia en la que cuentes cómo es tu vida en el piso térmico frío y cómo
... experiencia cuando fuiste de paseo a otro piso térmico

una vez fui a un lugar donde hace
dado el rato en ruana y chaguetas hasta
por fin firmas a cartagena por fin no me tenia
poner chagueta

Julón se levantó esta mañana y observó por la ventana una neblina espesa estaba haciendo mucho frío y el viento soplabá fuerte. Julón se encaminó al piso térmico

-  Frío
-  Templado
-  Páramo
-  Nieves perpetuas

Line con una línea según cada piso térmico con los productos que se cosechan



Construye una maqueta con los pisos térmicos.



¿Qué necesito?

- Un cono grande de hilo o lana de cartón o plástico vacía.
- Un pedazo de cartón paja de 20 cm. X 20 cm.
- Vinilo verde, blanco y azul.
- Pincel.
- Silicona y pistola de silicona.
- Colbón.
- Plastilina.

¿Qué hago?

- Con la ayuda de un adulto pega el cono al pedazo de cartón paja, si es de cartón utiliza el colbón, si es de plástico utiliza la pistola de silicona. Espera a que seque bien.
- Colorea el cono con vinilo verde, al igual que la llanura sobre el cartón paja y deja un espacio para pintar con el vinilo azul el mar.
- Con la plastilina blanca forra la punta del cono para crear el piso térmico de nieves permanentes.
- Empieza a modelar frutas, vegetales, cereales, e otros productos que se cultiven en los pisos térmicos utilizando la plastilina.
- Pega cada uno de estos productos a lo largo de la montaña, de acuerdo al piso térmico que corresponde.
- Prepara una exposición sobre el tema y ¡Sorprende a la clase!

El clima de nuestro país se caracteriza por tener climas a lo largo de todo el año.

- La ciudad que tiene esta característica es:
 - Sabana de Bogotá
 - Cartagena
 - Pasto
 - Medellín

- El cambio de clima en Colombia se debe a:
 - La ubicación en el planeta.
 - La cantidad de rayos solares que recibe.
 - Tiene alturas diferentes.
 - Está ubicada en Latinoamérica.

Colombia tiene una gran variedad de climas, desde el más frío hasta el más caliente. Gracias a su diversidad geográfica, en el páramo de Sumapaz crecen plantas y animales específicos para la zona.

- De acuerdo al texto las plantas y animales de la zona se adaptan al:
 - Desierto
 - Frio
 - Calor
 - Sabana

- Las ventajas por tener una variedad de clima es:
 - Tener montañas.
 - Poseer varios climas.
 - La gran variedad de productos agrícolas.
 - Tener gran población.

Lee el texto y escribe las ventajas y desventajas.

Colombia gracias a su posición geográfica en el mundo y por la gran cordillera de los Andes que pasa a lo largo y ancho del país, presenta todo tipo de clima; desde los más tropicales y cálidos hasta los más fríos. Es por esto que existe mucha diversidad en cuanto a la flora y la fauna.

Ventajas	Desventajas
hace calor en partes	hace frio en partes
no cae nieve ni en primavera	hay haberes mucha
floras oaxendosa	gente mala
las oomidas típicas son	colombia no puedes ir a
muy ricas	pausa y flora hay animales
	Religiosos



7 Escribe a cuál etapa del proceso productivo corresponden las situaciones siguientes.

1 Las personas disfrutan del agua y la electricidad que llega a sus hogares.
Si porque sin eso no podrían vivir

2 El algodón es utilizado para la elaboración de telas.
Si para tener ropa mejor

3 Las empresas contratan tractomulas para transportar sus productos.
para transportar mas facil lo que necesiten

4 Explica a qué sector de la economía corresponden las siguientes imágenes y argumenta tus respuestas.



campo.

para todo llevarlo a la ciudades como leche para



Zona de camiones.

para guardar los camiones de gas

8 Consulta el n.º en tu depart...

Sector	No
Primario	
Secundario	
Terciario	

9 ¿Qué in...

des

5 Exp

exp

Consulta el nombre de una empresa de cada sector económico, que funcione en tu departamento, y elabora un cuadro comparativo como el siguiente.

Nombre de la empresa	Producto	Beneficios para el departamento
BIMBO	PAO	que la gente disfrute
APPLE	iPhone 12	mas seguridad y mas comunicacion facil
Alhca	camara de seguridad	seguridad en la casa

¿Qué importancia tiene la producción agrícola en Colombia?

desarrolla la economía del país

Explica las características de la ganadería colombiana.

Explotación de animales de animales domesticables

En el siguiente cuadro escribe las características del sector primario en Colombia.

Nivel del sector	Principales productos	Importancia para el país
Primario	Animales	alimento
Secundario	agua	agua para tomar
Terciario	Materia Prima	para hacer cosas

¿Qué actividades desarrollan las empresas del sector terciario en Colombia?

conseguir petróleo algodón arcilla etc

1 Consulta sobre las principales actividades del sector primario de tu departamento y elabora un friso destacando el producto de mayor importancia y los beneficios que le reporta al propio departamento y al país.

2 Elabora un cuadro de las industrias más representativas para la economía nacional y escribe una breve reseña de cada una. *En tu cuaderno.*

1. ¿Cómo crees que actuaba la Iglesia católica de esa época ante las creencias de indígenas y esclavos?

Que venían como animales, pero los esclavos ya le daban respeto.

2. ¿Cómo crees que actuaba la Iglesia católica hoy? y ¿por qué?

actuaba bien, porque todas las religiones han personas muy presentes a días.

3. Encuentra las palabras en la sopa de letras.

PAGANOS - CATÓLICOS - RITUALES -
TRIBUNAL - IGLESIA - INDÍGENAS

P	A	G	A	N	O	S	C	Ñ	Y	H	Y	Z
U	J	K	I	U	J	H	N	B	G	F	V	G
B	G	H	N	M	J	G	T	Y	H	J	B	L
F	R	T	B	U	N	A	L	N	M	J	H	E
B	G	H	N	B	N	H	M	J	M	J	M	S
B	G	H	N	M	J	G	H	B	N	Y	E	E
W	S	X	C	D	F	R	T	G	E	H	B	A
Y	F	G	B	C	X	S	D	C	S	B	G	B
S	A	N	E	G	T	O	N	T	E	M	J	H
N	N	H	G	B	V	F	C	P	O	P	K	
J	N	H	G	B	T	R	F	G	A	N	H	J
M	H	T	R	T	F	G	V	B	J	B	G	H
B	Y	C	X	Z	C	Y	Y	I	T	K	O	L
M	H	T	G	F	R	E	R	T	I	H	N	Y
S	O	C	I	L	O	T	A	C	R	M	J	Y

co ante las creencias

s ya le

(1)

el siguiente mapa conceptual

Sociales

Religión en la época colonial

se caracterizó por

crucificar y
esclavizar
a los
esclavos

tenían temor de
ser esclaviz
ados

castigar a los
esclavos
por sus
males trabajos

fiestas basadas en
la esclavitud

LA HISTORIA DE LA MONEDA EN LA ÉPOCA COLONIAL

Hasta 1821 Colombia usó el real colonial español, algunos de los cuales se acuñaron en Bogotá y Popayán. Después de 1821 se hicieron las emisiones específicamente para Colombia en virtud de los diversos nombres que usó el estado. En 1822 el peso colombiano en virtud de la ley se convirtió en la principal unidad de la moneda. El real colonial tenía un valor de 8 reales, se convirtió en la octava parte de un peso y se subdividió en 10 decimos, cambiando sobre la octava parte de un peso por el Decimo en 1823, aunque los decimos de real. Este nuevo real cambió su nombre por el Decimo en 1824-1825 y 1826.

Durante la época colonial española, monedas de plata de 1/4, 1/2, 1, 2, 4 y 8 reales y monedas de oro de 1, 2, 4 y 8 escudos fueron acuñadas en Bogotá y Popayán. La mayor parte de las monedas se produjeron en 1820. Durante la guerra de independencia, las emisiones regionales fueron realizadas por realistas en Popayán y Santa Marta, y por independentistas en Cartagena y Cundinamarca. Popayán emitió monedas de cobre de 1/4 y 1/2 reales, y de 1, 2 y 8 reales. Santa Marta emitió monedas de cobre de 1 y 2 reales, y Cundinamarca emitió monedas de plata de 1/4, 1/2, 1 y 2 reales entre 1820 y 1823.

Las Provincias Unidas de Nueva Granada emitió monedas de plata de 1/2, 1, 2 y 8 reales entre 1819 y 1822. Estas fueron seguidas por las monedas de la República de Colombia, hechas de plata y con valores de 1/4, 1/2, 1 y 8 reales, y de oro de 1 peso, 1, 2, 4 y 8 escudos.



1. ¿Cómo se llamaba la moneda de la época colonial?
¿Hasta qué año se utilizó?

decimo, 1847

La moneda de la época colonial se llama decimo y fue utilizada hasta el año 1847.

ÉPOCA COLONIAL

En los cuales se acuñaron y se especificaron para la época. En 1837 el peso como moneda. El real con un nuevo valor con el subdivide en 30 decimos, aunque las monedas de 1880.

1/2, 1, 2, 4 y 8 reales Bogotá y Popayán, la independencia, las y Santa Marta, y las monedas de cobre 4 y 1/2 reales y de 2 reales y Cundinamarca.



Época colonial?

10
847.

¿Qué se utilizó al inicio de la época colonial en lugar de la moneda?

En la época colonial se utilizó oro.

Completa los espacios en blanco de acuerdo con lo visto en clases.

Esta se hicieron emisiones utilizó el estado en 1837.

algunas de las cuales se acuñaron en Bogotá y Popayán. Después de la guerra, se hicieron las emisiones específicamente para Colombia, en virtud de los diversos nombres que utilizó el estado.

Durante la época colonial española, monedas de plata de 1/2, 1 y 2 y 8

República de Bolívar y monedas de oro de 1 peso, 1/2 y 8 escudos.

fueron acuñadas en Bogotá y Popayán, la última de las cuales se produjeron en 1820.

Investiga y copia a partir de que fecha se comenzó a utilizar el peso como moneda colombiana. Explica brevemente.

En 1837 el peso con valor de 8 reales.
El peso se comenzó a utilizar en el año 1837 con un valor de 8 reales.

COLOMBIA EN EL MUNDO

Sociales

Posición astronómica de Colombia

La posición astronómica permite localizar un lugar en la superficie del planeta Tierra, se establece fijando su latitud y su longitud (meridianos y Paralelos).

La posición astronómica se refiere a la ubicación del país, teniendo en cuenta los meridianos y los paralelos, es decir, la última parte del territorio en los cuatro puntos cardinales, de acuerdo a las coordenadas geográficas, estas se miden en grados, minutos y segundos. Por ejemplo $77^{\circ} 25' 35''$.

- El punto extremo de Colombia al norte es Punta Gallinas con $12^{\circ} 26' 46''$, Latitud norte en la Guajira.
- El sur el punto extremo es la desembocadura del río San Antonio con $4^{\circ} 12' 30''$, donde la quebrada desemboca en el río Amazonas. Latitud sur, en el Amazonas.
- Al oriente es la Isla de San José en el Río Negro con $60^{\circ} 50' 54''$, frente a la Piedra del Cocuy, en el departamento de Guainía. Límite común entre Colombia, Brasil y Venezuela. Longitud oriental.
- Al occidente Cabo Manglares en el departamento de Nariño con $79^{\circ} 02' 33''$, Longitud occidental, donde el río Mira desemboca en el Océano Pacífico. Longitud occidental.



1 Observa el siguiente mapa y responde.

2 ¿Cuáles son los puntos externos del territorio colombiano según la latitud?

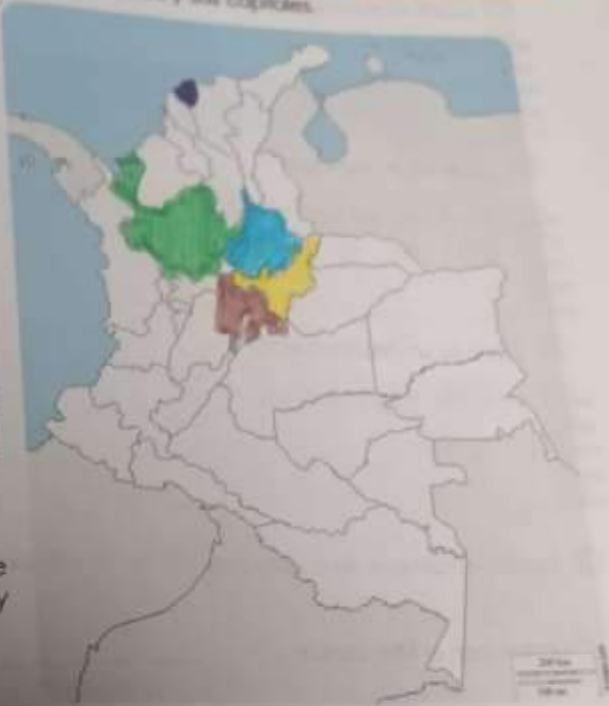
12 26 46

3 ¿Cuáles son los puntos extremos del territorio colombiano según longitud?

79 02 30

1. Escribe el nombre de cinco departamentos y sus capitales.
Luego ubícalos en el mapa.

- Cundinamarca - Bogotá
- Antioquia - Medellín
- Chocó - Quibdó
- Santander - Bucaramanga
- Atlántico - Barranquilla



2. Ubica y escribe el nombre del lugar donde vives. Bogotá

3. Localiza y colorea con rojo dos distritos especiales. Escribe sus nombres.

4. Consulta la ubicación de dos territorios indígenas y colóralos con verde.

¿Cómo se llama el país donde vives?

Colombia

¿Cuál es el departamento donde vives?

Cundinamarca

PIOS TÉRMICOS

Sociales

Los pisos térmicos son zonas que tienen unas características climáticas particulares como la altitud, la temperatura, el brillo solar y el viento. Los pisos térmicos son cinco: cálido, templado, frío páramo y nieves perpetuas.



1 Escribe el nombre a cada piso térmico y los metros de cada uno.



2 Marca con una equis (X) la respuesta correcta

3 Tacaima en Cundinamarca se encuentra a 400 m.s.n.m. el piso térmico en el que se encuentra ubicado es:

Páramo

Frío

Templado

Cálido