




Quiz

1. Completa la siguiente tabla:

Fracción	Representación gráfica	Clase	Lectura
$\frac{9}{4}$		Impropia	nueve cuartos
$\frac{6}{8}$		Propia	seis octavos
$\frac{5}{5}$		Por unidad	cinco quintos

2. Contesta:



• ¿Qué fracción representan los globos morados?

R. $\frac{5}{18}$

• ¿Que fracción representa los globos rojos?


$$\frac{6}{18}$$

• ¿Que fracción representa lo globos amarillos.

R. $\frac{4}{18}$

3. Convertir la siguiente fracción impropia a número mixto:

$$10/3$$



$$3 \frac{1}{3}$$

Se lee: Tres enteros un tercio