

## ECONOMÍA COLOMBIANA

La economía colombiana se basa, fundamentalmente, en la producción de bienes destinados para la exportación, y en la producción de bienes de consumo para el mercado interno. Una de las actividades económicas más tradicionales es el cultivo de café, siendo uno de los mayores exportadores mundiales de este producto; ha sido parte central de la economía de Colombia desde principios del siglo XX y le ha valido reconocimiento internacional gracias a la calidad de su grano; sin embargo, su importancia y su producción han disminuido significativamente en los últimos años.




1 Escribe el nombre según corresponda y observa:

Agricultura  
Caprino

Ganadería  
Avicultura

Porcicultura  
Acuicultura



2 Busca las siguientes palabras en la sopa de letras.

Economía ✓

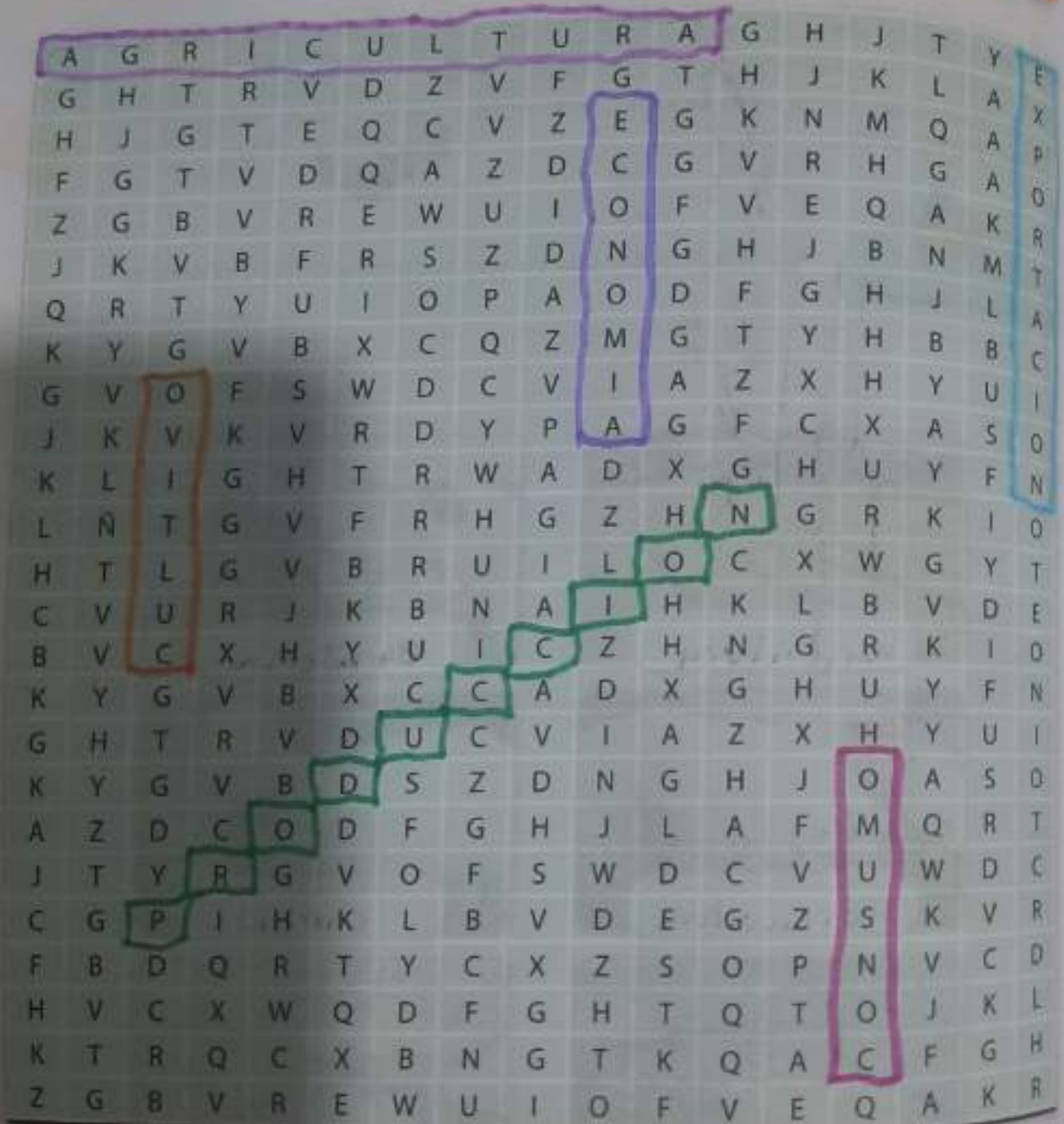
Exportación ✓

Cultivo ✓

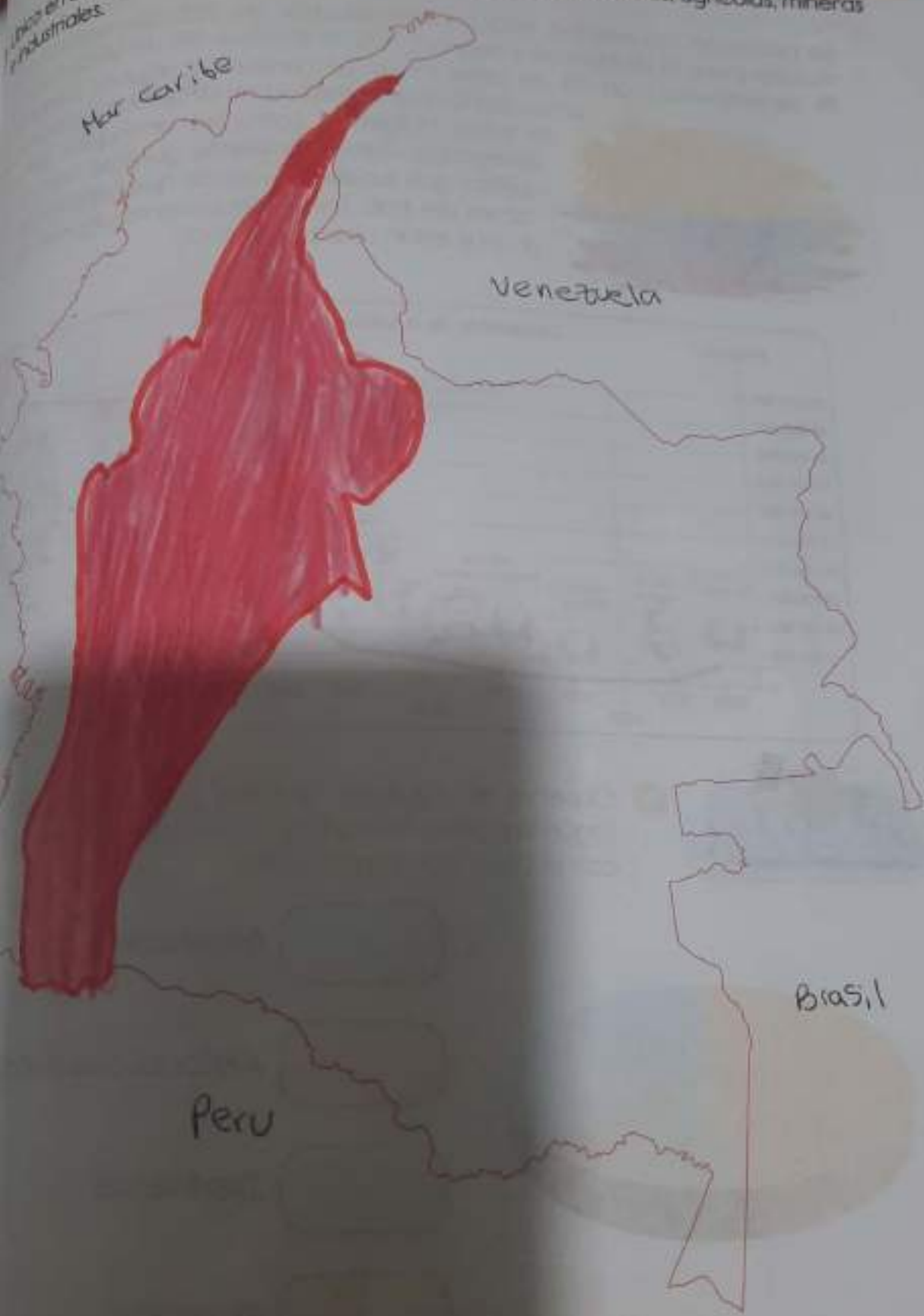
Producción ✓

Consumo ✓

Agricultura ✓



Colorea en el mapa de Colombia las principales regiones ganaderas, agrícolas, mineras e industriales.



# POBLACIÓN COLOMBIANA

La población colombiana está conformada por un 58% de mestizos, 20% de blancos, 4% de afrocolombianos, 11% de mulatos (mezcla de blancos y negros), 1% de indígenas y un 3% de otras etnias. Se conservan algunas comunidades afrocolombianas sin mezcla, en el Pacífico y gran cantidad de tribus indígenas, como los andaquees, coreguajes, cuibas, emberás, guajiros, nasa, arhuacos, quillacingas, tunebo's y yaguas, que habitan algunas zonas del país. Infortunadamente, algunos de estos grupos están desapareciendo.



1 Observa el siguiente gráfico poblacional y organízalo según la población de Colombia, coloreando cada cuadrado con el color correspondiente.



**MESTIZOS**



**AFROCOLOMBIANOS**

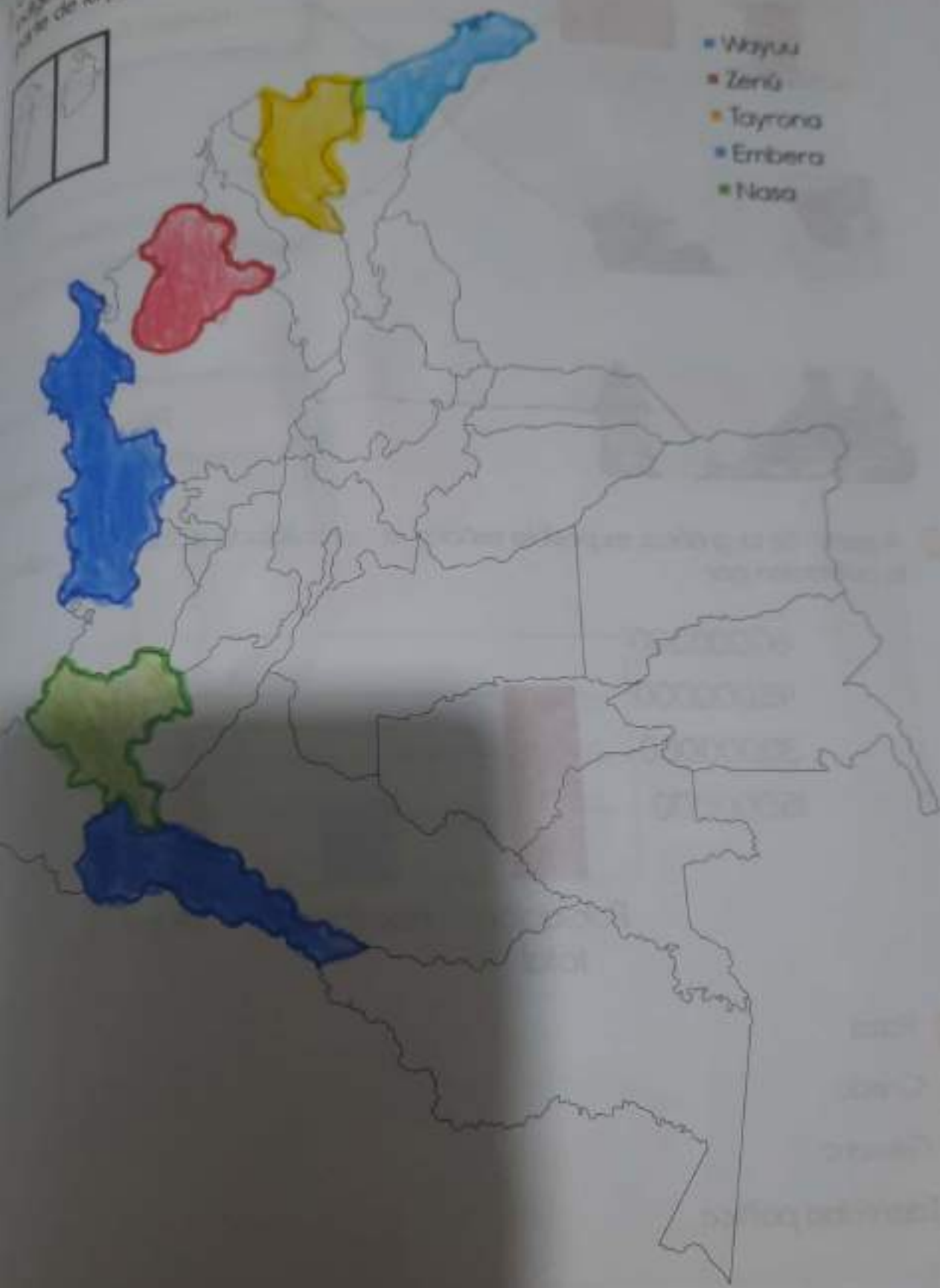


**INDÍGENAS**



**BLANCOS**

Observa el mapa de Colombia y colorea los departamentos con más población indígena y ubica las cuatro principales ciudades donde se encuentra buena parte de la población colombiana.



- Wayuu
- Zenu
- Tayrona
- Embera
- Nasa

3 Relaciona la imagen con el componente correspondiente.



Pueblos indígenas

Afrocolombianos

Religión

4 A partir de la gráfica, es posible señalar el consolidado poblacional y discriminar la población por



- Raza
- Credo
- Género
- Identidad política

- 1. Identifica y ubica de acuerdo a la clave.
- Los cinco departamentos con mayor población.
- Los cinco departamentos con menor población.

