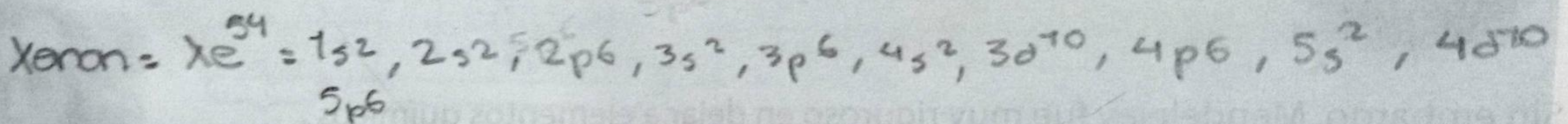
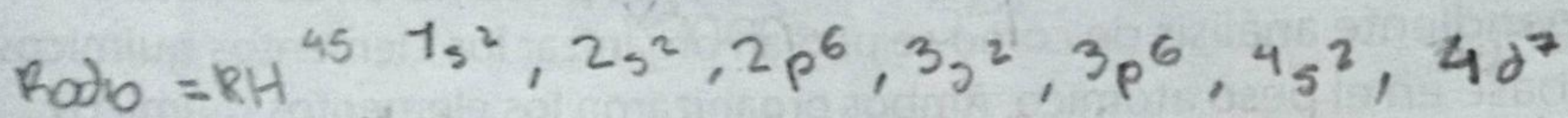


16

Completa la siguiente tabla de acuerdo a los conceptos estudiados en la tabla periódica.

Elemento	Símbolo	Z	A	P+	e-	N	Metal	No metal	Representativo	Transición
Cromo	Cr	24	51	24	24	27	X			
Asufre	S	16	32	16	16	16		X		
Cobre	Cu	29	63	29	29	34		X		
Bismuto	Bi	83	209	83	83	126			X	
Selenio	Se	34	79	34	34	45		X		
Hidrogeno	H	1	1	1	1	1	X			
Franco	Fr	87	223	87	87	136	X			

- 17 Realizar la distribución electrónica para $Z=54$, $Z=46$. Hallar periodo y grupo, distribución por niveles ubicando electrones de valencia, fórmula de Lewis del elemento.



Rejilla de respuestas

1

2

3

4

5


6

7

8

9

10



11

12

13

14

15

16

17

18

19

